

1. பட்டியல் I ல் உள்ள சொற்களை பட்டியல் II-ல் உள்ள சொற்பொருளறிந்து, கீழே கொடுக்கப்பட்டுள்ள குறியீடுகளைக் கொண்டு சரியான விடையைத் தேர்ந்தெடு:

பட்டியல் I சொல்	பட்டியல் II பொருள்
(a) சோமன்	1. பொன்
(b) காணம்	2. சினம்
(c) முனிவு	3. பெருமை
(d) விழுப்பம்	4. சந்திரன்

குறியீடுகள் :

a	b	c	d
(A) 4	1	2	3
(B) 3	1	2	4
(C) 4	2	1	3
(D) 1	2	3	4

2. பட்டியல் Iல் உள்ள நூல்களை பட்டியல் II-ல் உள்ள நூலாசிரியர்களுடன் பொருத்தி, கீழே கொடுக்கப்பட்டுள்ள குறியீடுகளைக் கொண்டு சரியான விடையைத் தேர்ந்தெடு :

பட்டியல் I நூல்	பட்டியல் II நூலாசிரியர்
(a) குறிஞ்சிப்பாட்டு	1. கடியலூர் உருத்திரங் கண்ணார்
(b) முல்லைப்பாட்டு	2. கபிலர்
(c) பட்டினப்பாலை	3. நப்பூதனார்
(d) நெடுநல்வாடை	4. நக்கீரனார்

குறியீடுகள் :

a	b	c	d
(A) 2	3	1	4
(B) 1	4	3	2
(C) 1	3	2	4
(D) 4	1	2	3

3. பட்டியல் I ல் உள்ள சொற்களை பட்டியல் II-ல் உள்ள சொற்பொருளறிந்து கீழே

கொடுக்கப்பட்டுள்ள குறியீடுகளைக் கொண்டு சரியான விடையைத் தேர்ந்தெடு:

பட்டியல் I சொல்	பட்டியல் II பொருள்
(a) கலம்	1. காற்று
(b) களம்	2. வலிமை
(c) வலி	3. கப்பல்
(d) வளி	4. இடம்

குறியீடுகள் :

a	b	c	d
(A) 3	1	2	4
(B) 4	2	3	1
(C) 3	4	2	1
(D) 1	4	2	4

4. பட்டியல் I ஐ பட்டியல் II-ல் உடன் பொருத்தி, கீழே கொடுக்கப்பட்டுள்ள குறியீடுகளைக் கொண்டு சரியான விடையைத் தேர்ந்தெடு:

பட்டியல் I	பட்டியல் II
(a) வாடுவான்	1. நில்
(b) போக்கி	2. இரு
(c) இருந்து	3. போக்கு
(d) நிற்பல்	4. வாடு

குறியீடுகள் :

a	b	c	d
(A) 4	3	2	1
(B) 2	3	1	4
(C) 3	1	4	2
(D) 1	3	4	2

5. பட்டியல் I ல் உள்ள நூல்களை பட்டியல் II-ல் உள்ள நூலாசிரியர்களுடன் பொருத்தி, கீழே கொடுக்கப்பட்டள்ள குறியீடுகளைக் கொண்டு சரியான விடையைத் தேர்ந்தெடு:

பட்டியல் I நூல்	பட்டியல் II நூலாசிரியர்
(a) பழமொழி	1. வல்லூர் தேவராசபிள்ளை
(b) நன்னெறி	2. குமரகுருபரர்

- (c) மீனாட்சியம்மை குறும் 3. முன்றுரை அரையனார்
(D) கருமை + நிறத்து + அரக்கியர்
- (d) குசேலோபாக்கியானம் 4. சிவப்பிரகாசர் குறியீடுகள் :
- | | | | | |
|-----|---|---|---|---|
| | a | b | c | d |
| (A) | 3 | 4 | 1 | 3 |
| (B) | 4 | 1 | 3 | 2 |
| (C) | 3 | 1 | 2 | 4 |
| (D) | 3 | 4 | 2 | 1 |
6. “இராம அவதாரம்” என்ற அடைமொழியால் குறிக்கப்பெறும் நூல்
- (A) கம்பராமாயணம்
(B) வால்மீகி இராமாயணம்
(C) துளசி ராமாயணம்
(D) பாகவத இராமாயணம்
7. “நாலடி நானூறு” என குறிக்கப்பெறும் நூல்
- (A) அகநானூறு (B) புறநானூறு
(C) நாலடியார் (D) நற்றிணை
8. திராவிட வேதம்
- (A) திருவாசகம் (B) நாலாயிரத் திவ்யபிரபந்தம்
(C) திருவெம்பாவை (D) நாச்சியார் திருமொழி
9. தற்காலத் தமிழிலக்கியத்தின் விடிவெள்ளி எனப் புகழப்படுபவர்
- (A) பாரதியார் (B) பாரதிதாசன்
(C) வைரமுத்து (D) முடியரசன்
10. பாவேந்தர் என அழைக்கப்படுபவர்
- (A) பாரதியார் (B) வாணிதாசன்
(C) சுப்புரத்தினதாசன் (D) பாரதிதாசன்
11. பிரித்து எழுதுக : கருநிறத்தரக்கியர்
- (A) கரு + நிறத்து + அரக்கியர்
(B) கருநிறத்து + அரக்கியர்
(C) கருமைநிற + அரக்கியர்
12. பிரித்து எழுதுக : வீடினதன்றன்
- (A) வீடின + தன்று + அறன்
(B) வீடின + தன்றறன்
(C) வீடினது + அன்று + அறன்
(D) வீடினதன்று + அறன்
13. பிரித்து எழுதுக : மைத்தடங்கண்
- (A) மைத்தடம் + கண் (B) மைத்தட + கண்
(C) மை + தட + கண் (D) மை+தடங்+ கண்
14. பிரித்து எழுதுக : நடுவிகந்தாம்
- (A) நடுவு + இகந்து + ஆம்
(B) நடு + இகந்து + ஆம்
(C) நடுவிகந்த + ஆம்
(D) நடுவு + இகந்தாம்
15. பிரித்து எழுதுக : கடிந்தொரார்
- (A) கடிந்து + ஓரார் (B) கடித்து + ஓரார்
(C) கடி + ஓரார் (D) கடிந்து + ஆரார்
16. எதிர்சொல் தருக : “வாழிய”
- (A) அழிய (B) ஒழீஇய
(C) ஒழிக (D) மறைய
17. எதிர்சொல் தருக : “நொய்மை”
- (A) திண்மை (B) உண்மை
(C) வறுமை (D) வளமை
18. எதிர்சொல் தருக : “நன்மை”
- (A) நல்லவை (B) நன்றன்று
(C) தீமை (D) தீதன்று
19. எதிர்சொல் தருக : “மலர்தல்”
- (A) விரிதல் (B) நடத்தல்
(C) நோதல் (D) கூம்புதல்

20. எதிர்சொல் தருக : "நுண்மை"
 (A) பருமை (B) வெண்மை
 (C) தன்மை (D) சிறுமை
21. பொருந்தாச் சொல்லைக் கண்டறிக :
 (A) அவன் (B) எவன் (C) இவன் (D) உவன்
22. பொருந்தாச் சொல்லைக் கண்டறிக :
 (A) இனிப்பு (B) கசப்பு
 (C) இளிவரல் (D) புளிப்பு
23. பொருந்தாச் சொல்லைக் கண்டறிக :
 (A) காவிரி (B) பாலாறு
 (C) கங்கை (D) வைகை
24. பொருந்தாச் சொல்லைக் கண்டறிக :
 (A) மாணிக்கவாசகர் (B) பேயாழ்வார்
 (C) ஆண்டாள் (D) பூதத்தாழ்வார்
25. பொருந்தாச் சொல்லைக் கண்டறிக :
 (A) சதுரம் (B) செவ்வகம்
 (C) வட்டம் (D) நீளம்
26. மரபுப் பிழைகளை நீக்குக :
 (A) எருது எக்காளமிடும் (B) எருது கத்தும்
 (C) எருது பிளிறும் (D) எருது அலறும்
27. பிறமொழிச் சொற்களை நீக்கிய வாக்கியத்தை தேர்வு செய்க :
 (A) தோழிக்கு சம்பிரதாயப்படி மேரேஜ் நடந்தது
 (B) தோழிக்கு மரபுப்படி திருமணம் நடந்தது
 (C) தோழிக்கு சம்பிரதாயப்படி திருமணம் நடந்தது
 (D) தோழிக்கு மரபுப்படி மேரேஜ் நடந்தது.
28. ஒருமை பன்மை பிழைகளை நீக்குக :
 (A) கட்டியங்காரன் களரியில் வந்து தோன்றினார்
 (B) கட்டியங்காரர்கள் களரியில் வந்து தோன்றியது
- (C) கட்டியங்காரனும் பாடலாசிரியனும் களரியில் வந்து தோன்றினார்.
 (D) கட்டியங்காரன் களரியில் வந்து தோன்றினார்.
29. சந்திப்பிழையற்ற தொடரைத் தேர்க:
 (A) மனித ஆற்றல் வள அணிவகுப்பே நம்மை பொருளாதார சாதனைகளுக்கு இட்டு செல்லும்
 (B) மனித ஆற்றல் வள அணிவகுப்பே நம்மை பொருளாதாரச் சாதனைகளுக்கு இட்டு செல்லும்
 (C) மனித ஆற்றல் வள அணிவகுப்பே நம்மைப் பொருளாதாரச் சாதனைகளுக்கு இட்டுச் செல்லும்
 (D) மனித ஆற்றல் வள அணிவகுப் நம்மை பொருளாதார சாதனைகளுக்கு இட்டுச்செல்லும்
30. சந்திப்பிழையற்ற தொடரைத் தேர்க:
 (A) எல்லா சத்துக்களும் கிடைக்கும்படியாக நம் உணவுப் பழக்கம் அமைய வேண்டும்
 (B) எல்லாச் சத்துக்களும் கிடைக்கும் படியாக நம் உணவுப் பழக்கம் அமைய வேண்டும்
 (C) எல்லா சத்துக்களும் கிடைக்கும் படியாக நம் உணவு பழக்கம் அமைய வேண்டும்
 (D) எல்லாச் சத்துக்களும் கிடைக்கும் படியாக நம் உணவுப் பழக்கம் அமைய வேண்டும்.
31. Ice-cream : என்ற ஆங்கிலச் சொல்லுக்கு நேரான தமிழ்ச் சொல்லைத் தேர்ந்தெடுக்க.
 (A) பனிமலை (B) பணிமனை
 (C) இமயமலை (D) பனிக்கூழ்
32. Example : என்ற ஆங்கிலச் சொல்லுக்கு நேரான தமிழ்ச் சொல்லைத் தேர்ந்தெடுக்க.
 (A) நடத்துக்காட்டு (B) பாடிக்காட்டு
 (C) ஓடிக்காட்டு (D) எடுத்துக்காட்டு

33. Grand - father என்ற ஆங்கிலச் சொல்லுக்கு நேரான தமிழ்ச் சொல்லைத் தேர்ந்தெடுக்க
 (A) அம்மா (B) பாட்டி
 (C) தாத்தா (D) அப்பா
34. Admission : என்ற ஆங்கிலச் சொல்லுக்கு நேரான தமிழ்ச் சொல்லைத் தேர்ந்தெடுக்க
 (A) நீக்கல் (B) சேர்க்கை
 (C) அனுமதி (D) பதிவேடு
35. Multimedia : என்ற ஆங்கிலச் சொல்லுக்கு நேரான தமிழ்ச்சொல்லைத் தேர்ந்தெடுக்க
 (A) பன்முகத் தொடர்பு
 (B) தொலைத்தொடர்பு
 (C) நேர்முகத் தொடர்
 (D) மறைமுகத் தொடர்பு
36. ஒலி வேறுபாடறிந்து சரியான பொருளைத் தேர்க.
 இர இற
 (A) வணங்கு (B) அல்
 (C) இரவு (D) பிடிப்பு
 (E) இறப்பு (F) இறப்பு
 (G) வாழ்வு (H) உடுக்கை
37. ஒலி வேறுபாடறிந்து சரியான பொருளைத் தேர்க
 ஆணை ஆனை
 (A) உறுதி (B) ஆண்மகன்
 (C) கட்டளை (D) யானை
 (E) பத்திரம் (F) குதிரை
 (G) சட்டம் (H) பாணை
38. ஒலி வேறுபாடறிந்து சரியான பொருளைத் தேர்க:
 எரி எறி
 (A) மீ (B) மாசு
 (C) ஈ (D) காசு
 (E) தீ (F) வீசு
 (G) வீ (H) ஏசு
39. ஒலி வேறுபாடறிந்து சரியான பொருளைத் தேர்க.
 உரி உறி
 (A) வகுத்தல் (B) உறிதல்
 (C) பிரித்தல் (D) உறிஞ்சுதல்
 (E) உரித்தல் (F) உவத்தல்
 (G) சுழற்று (H) தயிர் உறி
40. ஒலி வேறுபாடறிந்து சரியான பொருளைத் தேர்க.
 கரை கறை
 (A) காகம் (B) தாளம்
 (C) கூவு (D) மேளம்
 (E) ஓரம் (F) அழுக்கு
 (G) குயில் (H) களங்கம்
41. "மிக்க" - இச்சொல்லின் வேர்ச்சொல்லை காண்க.
 (A) மிக (B) மிகல் (C) மிகு (D) மிகுதி
42. "நட்டு" - இச்சொல்லின் வேர்ச்சொல்லை காண்க.
 (A) நாடு (B) நட (C) நடு (D) நாட்டு
43. "நிறுத்தாதீர்" - இச்சொல்லின் வேர்ச்சொல்லை காண்க.
 (A) நிறுத்து (B) நின்று (C) நின்ற (D) நிறு
44. "கல்லாமை" - இச்சொல்லின் வேர்ச்சொல்லை காண்க.
 (A) கல் (B) கல்லு (C) கற்று (D) கற்ற
45. "படைத்தோன்" - இச்சொல்லின் வேர்ச்சொல்லை காண்க.
 (A) படையன் (B) படையும்
 (C) படையா (D) படை
46. "ஆ" என்னும் ஒரெழுத்து ஒரு மொழிக்குரிய பொருள் யாது?
 (A) கன்று (B) பசு
 (C) ஆடு (D) காடு

47. “நா” என்னும் ஒரெழுத்து ஒரு மொழிக்குரிய பொருள் யாது?
 (A) பல் (B) அன்னம்
 (C) கன்னம் (D) நாக்கு
48. “வெள” என்னும் ஒரெழுத்து ஒரு மொழிக்குரிய பொருள் யாது?
 (A) பல்லு (B) கைப்பற்றுதல்
 (C) மீட்டல் (D) பள்ளு
49. “தை” என்னும் ஒரெழுத்து ஒரு மொழிக்குரிய பொருள் யாது?
 (A) மாதம் (B) பூ (C) வருடம் (D) ஆட்டம்
50. “நீ” என்னும் ஒரெழுத்து ஒரு மொழிக்குரிய பொருள் யாது?
 (A) தன்மை (B) படர்க்கை
 (C) முன்னிலை (D) வியங்கோள்
51. “கட” - இவ்வேர்ச்சொல்லின் தொழிற்பெயரைத் தருக.
 (A) கடந்து (B) கடந்த
 (C) கடந்தவன் (D) கடவுள்
52. போ - என்னும் வேர்ச்சொல்லின் தொழிற்பெயரைத் தேர்ந்தெடுக்க
 (A) போக்கிய (B) போனவன்
 (C) போனான் (D) போக்கு
53. “ஏற்று” - என்னும் வேர்ச்சொல்லின் வினையாலணையும் பெயரைத் தேர்ந்தெடுக்க
 (A) ஏற்ற (B) ஏற்றிய
 (C) ஏற்றவன் (D) ஏற்றார்.
54. “துற” - என்னும் வேர்ச்சொல்லின் வினையாலணையும் பெயரைத் தேர்ந்தெடுக்க.
 (A) துறந்து (B) துறந்தார்
 (C) துறந்தவன் (D) துறந்த
55. “நட” - என்னும் வேர்ச்சொல்லின் வினையெச்சத்தைத் தேர்ந்தெடுக்க
 (A) நடந்து (B) நடந்த
 (C) நடந்தவன் (D) நடந்தான்
56. அகர வரிசைப்படி சொற்களை சீர் செய்க:
 (A) யவனர், வழங்கு, ஞானம், நன்மை
 (B) ஞானம், நன்மை, யவனர், வழங்கு
 (C) வழங்கு, யவனர், நன்மை, ஞானம்
 (D) நன்மை, யவனர், ஞானம், வழங்கு
57. அகர வரிசைப்படி சொற்களை சீர் செய்க:
 (A) குயில், குறத்தி, குறவன், கூட்டம்
 (B) குறத்தி, குறவன், குயில், கூட்டம்
 (C) கூட்டம், குயில், குறவன், குறத்தி
 (D) குறவன், கூட்டம், குறத்தி, குயில்
58. அகர வரிசைப்படி சொற்களை சீர் செய்க:
 (A) சேவல், சாவி, சீரகம், செம்பு
 (B) சாவி, சேவல், செம்பு, சீரகம்
 (C) சீரகம், செம்பு, சேவல், சாவி
 (D) சாவி, சீரகம், செம்பு, சேவல்
59. அகர வரிசைப்படி சொற்களை சீர் செய்க:
 (A) வட்டம், யானை, மனம், பட்டம்
 (B) யானை, மனம், வட்டம், பட்டம்
 (C) மனம், பட்டம், வட்டம், யானை
 (D) பட்டம், மனம், யானை, வட்டம்
60. அகர வரிசைப்படி சொற்களை சீர் செய்க :
 (A) கக்குதல், கக்குவான், கஞ்சி, கற்கண்டு
 (B) கற்கண்டு, கஞ்சி, கக்குவான், கக்குதல்
 (C) கஞ்சி கற்கண்டு, கக்குதல், கக்குவான்
 (D) கக்குதல், கற்கண்டு, கக்குவான், கஞ்சி
61. சொற்களை ஒழுங்குபடுத்தி சொற்றொடராக்குக
 (A) விரும்பிப் படித்தால் வெற்றிப் பெறுவான்
 (B) பெறுவான் வெற்றி படித்தால் விரும்பி

- (C) படித்தால் பெறுவான் விரும்பி வெற்றி
(D) வெற்றிப் படித்தால் விரும்பிப் பெறுவான்
62. சொற்களை ஒழுங்குபடுத்தி சொற்றொடராக்குக
(A) ஊரே யாதும் கேள்யீ யாவரும்
(B) யாதும் ஊரே யாவரும் கேள்யீ
(C) கேள்யீ யாதும் ஊரே யாவரும்
(D) யாவரும் கேள்யீ யாதும் ஊரே
63. சொற்களை ஒழுங்குபடுத்தி சொற்றொடராக்குக
(A) எய்துவர் மேன்மை ஒழுக்கத்தின் என்றார் வள்ளுவர்
(B) வள்ளுவர் மேன்மை ஒழுக்கத்தின் எய்துவர் என்றார்
(C) ஒழுக்கத்தின் மேன்மை எய்துவர் வள்ளுவர் என்றார்
(D) ஒழுக்கத்தின் எய்துவர் மேன்மை என்றார் வள்ளுவர்.
64. சொற்களை ஒழுங்குபடுத்தி சொற்றொடராக்குக
(A) உயர்வு தாழ்வுகள் பாராட்டக் கூடாது பிறப்பினால்
(B) பிறப்பினால் உயர்வு தாழ்வுகள் பாராட்டக் கூடாது
(C) பாராட்டக்கூடாது உயர்வு தாழ்வுகள் பிறப்பினால்
(D) தாழ்வுகள் உயர்வு பிறப்பினால் பாராட்டக்கூடாது
65. சொற்களை ஒழுங்குபடுத்தி சொற்றொடராக்குக
(A) தாயைக் கண்ட சேயைப் போல
(B) கண்ட சேயைப் போல தாயை
(C) சேயைப் போல தாயைக் கண்ட
(D) தாயைச் சேவையைப் போல கண்ட
66. "அசைத்தல்"- பெயர்ச் சொல்லின் வகை அறிக.
(A) பொருட்பெயர் (B) காலப்பெயர்
(C) பண்புப்பெயர் (D) தொழிற்பெயர்
67. "அழகை"- பெயர்ச் சொல்லின் வகை அறிக.
(A) தொழிற்பெயர் (B) காலப்பெயர்
(C) இடப்பெயர் (D) காலப்பெயர்
68. "மரம்"- பெயர்ச் சொல்லின் வகை அறிக
(A) காலப்பெயர் (B) பொருட்பெயர்
(C) பண்புப்பெயர் (D) தொழிற்பெயர்.
69. "கண்"- பெயர்ச் சொல்லின் வகை அறிக
(A) சினைப்பெயர் (B) தொழிற்பெயர்
(C) காலப்பெயர் (D) பண்புப்பெயர்
70. "செம்மை" - பெயர்ச் சொல்லின் வகை அறிக.
(A) பண்புப்பெயர் (B) சினைப்பெயர்
(C) தொழிற்பெயர் (D) பொருட்பெயர்
71. "நீள் புகழ்" - என்பதன் இலக்கணக் குறிப்பு தேர்க.
(A) வினைத்தொகை
(B) வினைமுற்று
(C) வேற்றுமைத் தொடர்
(D) வினைச்சொல்
72. "வண்டர்" - என்பதன் இலக்கணக் குறிப்பு தேர்க.
(A) இலக்கணப் போலி (B) முதற்போலி
(C) கடைப்போலி (D) தொழிற்பெயர்
73. "பெருமணல்" - என்பதன் இலக்கணக் குறிப்பு தேர்க
(A) வினைமுற்று (B) தொழிற்பெயர்
(C) பண்புத்தொகை (D) வினைத்தொகை
74. "பொழிமழை"- என்பதன் இலக்கணக் குறிப்பு தேர்க
(A) பண்புத்தொகை (B) வினைத்தொகை
(C) உம்மைத்தொகை (D) உவமைத்தொகை
75. "யார் யார்" - என்பதன் இலக்கணக் குறிப்பு தேர்க
(A) இரட்டைக்கிளவி (B) எண்ணும்மை
(C) பெயர்ச்சொல் (D) அடுக்குத்தொடர்

76. விடைக்கேற்ற வினாவைத் தேர்ந்தெடு :
“கலம்பகத்திற்குப் பதினெட்டு உறுப்புகள் உண்டு”
(A) கலம்பகம் - பெயர்க்காரணம் கூறுக
(B) பதினெட்டு உறுப்புகளைக் கொண்டது எது?
(C) கலம்பகத்திற்கு எத்தனை உறுப்புகள் உண்டு?
(D) கலம்பகத்தின் உறுப்புகள் பதினெட்டா:
77. விடைக்கேற்ற வினாவைத் தேர்ந்தெடு:
“சீத்தலைச் சாத்தனார் பாடிய காப்பியம் மணிமேகலையின் வரலாற்றைக் கூறுகிறது”.
(A) மணிமேகலையின் ஆசிரியர் யார்?
(B) மணிமேகலை ஐம்பெருங்காப்பியங்களில் ஒன்றா?
(C) சீத்தலைச் சாத்தனார் பாடிய காப்பியம் எது?
(D) சீத்தலைச் சாத்தனார் பாடிய காப்பியம் யாருடைய வரலாற்றைக் கூறுகிறது?
78. விடைக்கேற்ற வினாவைத் தேர்ந்தெடு:
கன்னியாகுமரி இந்தியாவின் தென்முனையில் அமைந்துள்ளது”
(A) தென்முனையில் அமைந்துள்ளது எது?
(B) கன்னியாகுமரி எங்கு அமைந்துள்ளது?
(C) கன்னியாகுமரி அமைந்தள்ள திசை எது?
(D) இந்தியாவின் எம்முனையில் கன்னியாகுமரி உள்ளது?
79. விடைக்கேற்ற வினாவைத் தேர்ந்தெடு :
“மணிமேகலைக்கு “மணிமேகலை துறவு” என்னும் வேறு பெயரும் உண்டு”
(A) மணிமேகலை துறவு - எது?
(B) மணிமேகலை ஐம்பெருங்காப்பியங்களுள் ஒன்றா?
(C) மணிமேகலையின் ஆசிரியர் யார்?
- (D) மணிமேகலைக்கு வழங்கப்படும் வேறுபெயர் யாது?
80. விடைக்கேற்ற வினாவைத் தேர்ந்தெடு:
“ நீதி நூல்களுள் தலைசிறந்தன திருக்குறளும், நாலடியாரும் ஆகும்”
(A) நீதி நூல்கள் யாவை?
(B) திருக்குறளும் நாலடியாரும் எவ்வகை இலக்கியம்?
(C) நீதி நூல்களுள் தலைசிறந்தன எவை?
(D) நீதி நூல்களுள் இரண்டினைக் கூறுக.
81. ஆ ! என்னே! காலைக் கதிரவன் உதிக்கும் காட்சி” - எவ்வகை வாக்கியம் எனச் சுட்டுக.
(A) செய்தி வாக்கியம் (B) உணர்ச்சி வாக்கியம்
(C) எதிர்மறை வாக்கியம்
(D) செய்ப்பாட்டு வினை வாக்கியம்
82. “தமிழின் இனிமையை அனைவரும் அறிவரோ” எவ்வகை வாக்கியம் எனச் சுட்டுக.
(A) தன்வினை வாக்கியம்
(B) பிறவினை வாக்கியம்
(C) வினா வாக்கியம்
(D) செய்தி வாக்கியம்
83. நான் இலக்கணம் படித்தேன் - எவ்வகை வாக்கியம் எனச் சுட்டுக
(A) செய்தி வாக்கியம்
(B) உடன்பாட்டு வாக்கியம்
(C) செய்வினை வாக்கியம்
(D) உணர்ச்சிவாக்கியம்
84. “கம்பன், வள்ளுவன், இளங்கோ ஆகியோர் இயற்கையைப் போற்றினர்” - எவ்வகை வாக்கியம் எனச் சுட்டுக.
(A) செய்தி வாக்கியம் (B) தனி வாக்கியம்
(C) கலவை வாக்கியம் (D) தொடர்வாக்கியம்

85. "பாரதி பொம்மை செய்தாள்" - எவ்வகை வாக்கியம் எனச் சுட்டுக.
 (A) பிறவினை வாக்கியம்
 (B) தன்வினை வாக்கியம்
 (C) செய்வினை வாக்கியம்
 (D) செயப்பாட்டுவினை வாக்கியம்
86. செய்வினைச் சொற்றொடரைக் கண்டறிக
 (A) அறிவியல் அறிஞர்கள் செயற்கைகோளை விண்ணில் ஏவினர்
 (B) அறிஞர்கள் அறிவியல் செயற்கைகோளை ஏவினர் விண்ணில்
 (C) செயற்கைகோள் அறிவியல் அறிஞர்களால் விண்ணில் ஏவப்பட்டது
 (D) விண்ணில் அறிவியல் அறிஞர்கள் ஏவினர் செயற்கைகோளை
87. செயப்பாட்டுவினை சொற்றொடரைக் கண்டறிக.
 (A) செயங்கொண்டார் கலிங்கத்துப்பரணியை இயற்றினார்
 (B) இயற்றினர் கலிங்கத்துப்பரணியை செயங்கொண்டார்
 (C) கலிங்கத்துப்பரணி செயங்கொண்டாரால் இயற்றப்பட்டது
 (D) கலிங்கத்துப்பரணி இயற்றினார் செயங்கொண்டார்.
88. செயப்பாட்டுவினை சொற்றொடரைக் கண்டறிக
 (A) ஆசிரியர் பாடத்தை நன்றாக கற்பிக்கிறார்
 (B) பாடம் ஆசிரியரால் நன்றாக கற்பிக்கப்பட்டது
 (C) நன்றாக பாடம் கற்பிக்கிறார் ஆசிரியர்
 (D) ஆசிரியர் பாடம் கற்பிக்கிறார் நன்றாக
89. பிறவினைத் தொடரைக் கண்டறிக.
 (A) தாய் குழந்தைக்கு சோறு ஊட்டினாள்
 (B) சோறு ஊட்டினாள் குழந்தைக்கு தாய்
 (C) தாய் குழந்தைக்கு சோறு ஊட்டுவித்தாள்
 (D) குழந்தை தாயிடம் சோறு உண்டது
90. தன்வினை வாக்கியத்தை கண்டறிக
 (A) கோதை திருக்குறளைக் கற்பித்தாள்
 (B) கோதை திருக்குறளைக் கற்றாள்
 (C) கற்றாள் கோதை திருக்குறளை
 (D) கோதை கற்றாள் திருக்குறளை
91. "அன்னநடை கற்கப்போய்த் தன்னடையும் இழந்தாற் போல" - உவமையால் விளக்கப்பெறும் பொருத்தமானப் பொருளைத் தேர்ந்தெடுக்க :
 (A) தவிப்பு (B) இழப்பு
 (C) குவிப்பு (D) வலிப்பு
92. "சிதறிய முத்துப்போல" - உவமையால் விளக்கப்பெறும் பொருத்தமானப் பொருளைத் தேர்ந்தெடுக்க :
 (A) நிலையானது (B) கடினமானது
 (C) உறுதியானது (D) நிலையில்லாதது
93. "விழலுக்கு இறைத்த நீர் போல" - உவமையால் விளக்கப்பெறும் பொருத்தமானப் பொருளைத் தேர்ந்தெடுக்க:
 (A) பயன்பெறுதல்
 (B) மகிழ்ந்திருத்தல்
 (C) பயன்றூப்போதல்
 (D) வெறுத்திருத்தல்
94. "பசுமரத்தாணி போல" - உவமையால் விளக்கப்பெறும் பொருத்தமானப் பொருளைத் தேர்ந்தெடுக்க :
 (A) பதியாமை (B) தெளிவு
 (C) அறியாமை (D) விளங்காமை
95. "பகலவனைக் கண்ட பனி போல" - உவமையால் விளக்கப்பெறும் பொருத்தமானப் பொருளைத் தேர்ந்தெடுக்க :
 (A) உருகுதல் (B) பனிக்கட்டி
 (C) துன்பம் நீக்குதல் (D) வறுமை

96. பழிமலைந் தெய்திய வாக்கத்திற் சான்றோர்
கழிநல் குரவே தலை - அடி எதுகையினைக்
கண்டறிக :
- (A) பழிமலைந் - தெய்திய
(B) தெய்திய - வாக்கத்திற்
(C) பழிமலைந் - கழிநல்
(D) கழிநல் - தெய்திய
97. மனையகம் புகுந்து மணிமே கலைதான் -
சீர்மோனையைத் தருக.
- (A) மனையகம் - புகுந்து
(B) மனையகம் - மணிமேகலைதான்
(C) புகுந்து - கலைதான்
(D) மனையகம் - கலைதான்
98. "பல்சான் றீரே பல்சான் றீரே" - சீர்மோனையைக்
கண்டறிக
- (A) பல்சான் - பல்சான்
(B) பல்சான் - றீரே
(C) றீரே - பல்சான்
(D) றீரே - றீரே
99. "புதர்களை நாம் அழிப்பதிலே மகிழ வேண்டும்
புத்துலகை உருவாக்க முயல வேண்டும்" - அடி
இயைபினைக் கண்டறிக.
- (A) புதர்களை நாம் - அழிப்பதிலே
(B) புதர்களை நாம் - புத்துலகை
(C) புதர்களை நாம் - வேண்டும்
(D) வேண்டும் - வேண்டும்
100. "கன்னலடா என் சிற்றூர் என்போ னுள்ளம்
கடுகுக்கு நேர்மூத்த துவரை யுள்ளம் - அடி
இயைபினைக் கண்டறிக.
- (A) கன்னலடா - கடுகுக்கு
(B) உள்ளம் - உள்ளம்
(C) கன்னலட - என்போ
(D) கடுகுக்கு - துவரை



TNPSC

GENERAL ENGLISH

101. Match the following words given in **Column**

A with their meanings in **Column B** and select the correct answer from the codes given

below:

Column A

(a) frankly

(b) usually

(c) finally

(d) grimly

Codes :

	a	b	c	d
(A)	2	1	4	3
(B)	3	1	4	2
(C)	2	3	1	4
(D)	4	2	3	1

102. Match the following words given in **Column**

A with their meanings in **Column B** and select the correct answer from the codes given

below:

Column A

(a) catamaran

(b) bungalow

(c) adieu

(d) Sans

Codes :

	a	b	c	d
(A)	3	4	2	1
(B)	4	3	1	2
(C)	4	1	2	3
(D)	4	2	1	3

103. Match the following words given in

Column A with their meanings in **Column B** and select the correct answer from the codes given below:

Column A

(a) famous

(b) minimum

Column B

1. least

2. traditional

(c) Conventional

(d) powerful

Codes :

	a	b	c	d
(A)	4	3	2	1
(B)	4	1	2	3
(C)	4	2	3	1
(D)	4	1	3	2

104. Match the following words given in **Column**

A with their meanings in **Column B** and select the correct answer from the codes given

below:

Column A

(a) modestly

(b) despair

(c) novelty

(d) pursuit

Column B

1. new

2. gently

3. search

4. hopeless

	a	b	c	d
(A)	4	2	3	1
(B)	2	4	1	3
(C)	4	3	1	2
(D)	2	1	3	4

105. Match the following words given in **Column**

A with their meanings in **Column B** and select the correct answer from the codes given

below:

Column A

(a) rocking

(b) queer

(c) meddle

(d) invade

Column B

1. interfere

2. moving gently

3. attack

4. odd.

	a	b	c	d
(A)	4	3	1	2
(B)	3	1	2	4
(C)	2	4	1	3
(D)	1	3	2	4



TNPSC

GENERAL ENGLISH

106. Choose the correct synonym for the italicized word:
I'm a *beast* now.
(A) animal (B) waste
(C) man (D) human being
107. Choose the correct synonym for the italicized word:
I used to be very shy and avoided all company.
(A) timid (B) bold
(C) lazy (D) dull
108. Choose the correct synonym for the italicized word:
He carried on his research in general relativity and cosmology.
(A) a study of caste
(B) a study of the universe
(C) a study of cosmetics
(D) a study of community
109. Choose the correct synonym for the italicized word:
The dusty old book tucked *beneath* his arm.
(A) near (B) in front of
(C) under (D) above
110. Choose the correct synonym for the italicized word :
We must conduct our struggle with *dignity*.
(A) gentleness (B) seriousness
(C) violence (D) kind
111. Choose the correct antonym for the italicized word:
Kavitha always *hated* school.
(A) detested (B) disliked
(C) despised (D) loved
112. Choose the correct antonym for the italicized world :
He was a *rich* businessman
(A) poor (B) healthy (C) good (D) bad.
113. Choose the correct antonym for the italicized word:
Multimedia is not *conventional* tool.
(A) important (B) exhausted
(C) modern (D) special.
114. Choose the correct *antonym* for the italicized word:
I was not regarded as a *dunce* at the high school.
(A) clever (B) timid
(C) stupid (D) introvert
115. Choose the correct antonym for the italicized word:
We appreciated his *virtues*.
(A) vices (B) victori
(C) vigilance (D) courageous.
116. Select the word with correct prefix:
(A) illegal (B) dislegal
(C) enlegal (D) unlegal
117. Select the word with correct prefix:
(A) unreal (B) irreal
(C) disreal (D) misreal
118. Select the word with correct prefix :
(A) eminent (B) empower
(C) emotional (D) emblem
119. Select the word with correct suffix:
(A) attendance (B) attendar
(C) attendee (D) attendful



TNPSC GENERAL ENGLISH

120. Select the word the correct suffix:

- (A) takeness (B) nuisance
(C) plainness (D) weakness

121. Fill in the blank with the suitable article:

I met European
yesterday.
(A) the (B) a (C) an (D) no article

122. Fill in the blank with the suitable article :

----- empty vessel makes of lot of
noise.
(A) No article (B) The
(C) A (D) An

123. Fill in the blank with the suitable article :

Veena plays violin everyday.
(A) the (B) an
(C) no article (D) a

124. Fill in the blank with the suitable article :

..... sun is hotter than the moon.
(A) A (B) An
(C) The (D) No article

125. Fill in the blank with the suitable article :

Rajan is union leader.
(A) an (B) a
(C) the (D) no article.

126. Fill in the blank with the suitable preposition:

..... being fined, he was sentenced
to a term of imprisonment.
(A) Beside (B) On
(C) Besides (D) For

127. Fill in the blank with the suitable preposition

:
Mr. Roy goes to the office foot.
(A) by (B) on (C) of (D) to

128. Fill in the blank with the suitable preposition:

We travelled Mr. Joshi's car.
(A) by (B) with
(C) in (D) at

129. Fill in the blank with the suitable preposition

:
I Saw Balu felling a big tree..... an axe.
(A) with (B) by
(C) through (D) at

130. Fill in the blank with the suitable preposition

:
I heard the news the radio.
(A) in (B) from
(C) at (D) on

131. Select the correct question tag :

Your parents are not busy?
(A) are they (B) have they
(C) do they (D) haven't they

132. Select the correct question tag :

The principal to speak to you
(A) wants (B) is wanting
(C) was wanting (D) will want

133. Select the correct question tag :

You seem to be well prepared for joining the
course,?
(A) are you (B) aren't you
(C) don't you (D) do you

134. Select the correct question tag :

There is a movement to protect manure
.....?
(A) is it (B) Isn't it
(C) does It (D) is there



TNPSC

GENERAL ENGLISH

135. Select the correct question tag :

He hardly goes to his native place.....?

- (A) does he (B) doesn't he
(C) is he (D) did he

136. Select the correct tense :

Ravi the garden since morning

- (A) have watered
(B) has watered
(C) has been watering
(D) have been watering

137. Select the correct tense :

The earth round the sun.

- (A) move (B) moved
(C) moves (D) will move

138. Select the correct tense :

If Ithe peacock, I would dance.

- (A) am (B) is
(C) were (D) will be

139. Name the correct tense form of the italicized words:

The light went out while *I was reading*.

- (A) Present continuous tense
(B) Present perfect tense
(C) Past continuous tense
(D) Present tense

140. Select the correct tense form of the verb given in brackets :

My mother was (pray) when the telephone rang.

- (A) prayed (B) praying
(C) had prayed (D) would pray

141. Fill in the blank with the correct form of voice

:
The letter tomorrow.

- (A) Will have to be posted
(B) had been posted
(C) were posted
(D) will post

142. Fill in the blank with the correct form of voice

:
Let the evil

- (A) were burnt (B) is burnt
(C) shall be burnt (D) be burnt

143. Fill in the blank with the correct form of voice:

The criminals who kidnapped the schoolboy already, by the police.

- (A) are arrested (B) were arrested
(C) have been arrested (D) will be arrested

144. Select the correct Passive voice from the following :

- (A) Jamuna taught us French
(B) The National award was won by Rahul
(C) Ravi wrote a letter to his friend
(D) The headmaster declared a holiday yesterday.

145. Select the correct voice of the verb from the options given :

All the letters by them.

- (A) are posted (B) are being posted
(C) were posted (D) is posted

146. Fill in the blank with a suitable infinitive :

Children love with dolls.

- (A) to be played (B) to play
(C) to be playing (D) to have played



TNPSC

GENERAL ENGLISH

147. Fill in the blank with a suitable infinitive :
I was made my car.
(A) moving (B) having moved
(C) to move (D) move
148. Fill in the blank with a suitable participle :
My dress needs
(A) iron (B) to be ironed
(C) ironing (D) ironed
149. Fill in the blank with a suitable gerund :
..... kites is my hobby.
(A) Fly (B) To Fly
(C) Flying (D) To be Flying
150. Fill in the blank with a suitable gerund :
I couldn't help
(A) laugh (B) laughing
(C) to laugh (D) having laughed.
151. Identify the sentence pattern :
We are watching the cricket match.
(A) S.V. (B) S.V.O.C.
(C) S.V.O. (D) S.V.C.
152. Identify the sentence pattern :
The neem trees are useful.
(A) S.V.O. (B) S.V.
(C) S.V.C. (D) S.V.O.C.
153. Identify the sentence pattern :
The car driver hit a truck.
(A) S.V.O. (B) S.V.C.
(C) S.V.A. (D) S.V.A.A.
154. Identify the sentence pattern :
The mother has finished cooking just now.
(A) S.V.C.A. (B) S.V.O.A.
(C) S.V.A.A. (D) S.V.O.A.A.
155. Identify the sentence pattern :
The chief officer is kind.
(A) S.V.C. (B) S.V.A.
(C) S.V.O. (D) S.V.O.C.
156. Change the following noun in to verb :
Driver
(A) driven (B) drive
(C) driving (D) derive
157. Change the following adjective into adverb :
Real
(A) relativity (B) reality
(C) realness (D) really
158. Change the following noun into verb :
Response
(A) respondent (B) respond
(C) responsive (D) responding
159. Change the following verb into noun :
Dismiss
(A) dismissal (B) dismal
(C) dismissed (D) dismay
160. Change the following verb into noun :
Presented
(A) presenting (B) to present
(C) presenter (D) present
161. Fill in the blank with correct homophone :
The boy put shampoo in his
(A) hare (B) hair
(C) her (D) hour
162. Fill in the blank with correct homophone :
Vegetarians don't eat
(A) meet (B) meat
(C) maet (D) met



TNPSC

GENERAL ENGLISH

163. Fill in the blank with correct homophone :

The child the toy out of anger.

- (A) threw (B) through
(C) three (D) thrice

(A) Malliga was a village girl

- (B) Her parents didn't accompany her
(C) Malliga refused to wait
(D) Malligo had no account in the bank.

164. Fill in the blank with correct homophone :

If it, we will stay at home.

- (A) rains (B) reins
(C) reign (D) rein

168. Comprehension :

The Yellow River is the second largest river in China - over 3000 miles long. It rises in the mountains of Tibet and flows right across China to the east coast. The Yellow River or Hwant Ho, flows into the Yellow Sea, or Hwang Hai.

The Yellow River flows into

- (A) Hwang Ho (B) Yellow Sea
(C) the desert (D) Tibet

165. Fill in the blank with correct homophone :

She carried of water

- (A) Pail (B) hail
(C) hale (D) pale

169. Comprehension :

Eyes are the gateways to knowledge. Since seeing is believing we learn more and more by seeing things. We have to eyed, two ears, but one mouth. Do you know the reason? We must see a lot, hear a lot but talk very little.

Why man is blessed with one month?

- (A) To talk very little (B) To talk always
(C) To talk more (D) Not to talk

166. Comprehension :

Examination develops a kind of fear in students' mind, Owing to the fear, their minds are not steady and so they forget the answers, Mr. Churchill once said, "The examinations test the students what they do not know". The examination carries questions which concuse some students.

Why do students forget answers during examination?

- (A) Overconfidence
(B) Negligence
(C) Due to fear and unsteady mind
(D) Due to tension

170. Comprehension :

The Pleiades named after the seven sisters of Greek mythology is a Star-cluster that can be seen with the naked eye. It appears as a dipper-shaped group of stars high overhead on autumn evenings.

What is the Pletades?

- (A) A Star-cluster
(B) One of the seven sisters of Greek mythology
(C) Seven sisters of Greek mythology
(D) A dipper-shaped star.

167. Comprehension :

Malliga, a village girl wanted to get admission in a college in the city. She went to the bank to get a loan. But the manger was not there. She waited for him and met him. He refused to sanction the loan because she had no account in the bank.

Why did the bank manager refuse to sanction loan to malliga?

171. Select the correct sentence :

- (A) He is proud for his high birth
- (B) He is proud about his high birth
- (C) He is proud of his high birth
- (D) He is poud by his high brith

172. Select the correct sentence :

- (A) Do whatever you think right
- (B) Do whatever thinking right
- (C) Do whartever you thought right
- (D) Do whatever you think right.

173. Select the correct sentence :

- (A) There are some milk in the cup
- (B) There is some milk in the cup
- (C) There were some milk in the cup
- (D) There has some milk in the cup

174. Select the correct sentence :

- (A) I heard of his arrival
- (B) I heard on his arriaval
- (C) I heard of his arrival
- (D) I heard in his arrival

175. Select the correct sentence :

- (A) Can coffee be made with cold water?
- (B) Need coffee be made with cold water?
- (C) Might coffee be made with cold water?
- (D) Shall coffee be made with cold water?

176. Find out the error :

Though She is Weak She was active

- A B C D

177. Find out the error:

He is confident on his success

- A B C D

178. Find out the error :

Iron is Useful than any other metal

- A B C D

179. Find out the error:

He gave me an one-rupee note

- A B C D

180. Find out the error :

Sheela is Junior than me

- A B C D

181. Find out the odd word (Adjective):

- (A) station (B) stationery
- (C) stationary (D) stationer

182. Find out the odd word (Verb):

- (A) boy (B) boycott
- (C) boyhood (D) boyish

183. Find out the odd word (Adverb) :

- (A) wake (B) wakeful
- (C) wakefully (D) wakefulness

184. Find out the odd word (Noun) :

- (A) imagine (B) imagination
- (C) imaginary (D) imaginable

185. Find out the odd word (Noun) :

- (A) Pictured (B) picturesque
- (C) Picturesquely (D) picturesquences

186. Select the correct plural form for the given word:

critrion

- (A) criterions (B) criteria
- (C) critrion (D) critriones



TNPSC

GENERAL ENGLISH

187. Select the correct plural form for the given word :
tooth
(A) tooths (B) teeth
(C) teeths (D) teethes
188. Select the correct plural form for the given word :
book
(A) bookes (B) books
(C) book (D) bookkes.
189. Select the correct plural form for the given word:
alumnus
(A) alumnus (B) alumnuscs
(C) alumni (D) alumnusis
190. Select the correct plural form for the given word :
deer
(A) deers (B) deer
(C) deere (D) deeres
191. Which of the following endings is correct to form the correct Complex sentence? They went to war.....
(A) that they might expand their territory
(B) to expand their territory
(C) and expanded their territory
(D) in order to expand their territory
192. Identify the Complex sentence :
(A) When the old lady saw the thief she shouted
(B) In spite of his poverty he is happy
(C) In the event of his passing the test he will get a job
(D) Being clever he won the game
193. Identify the Compound sentence :
(A) Tell me where you live
(B) Work as hard as you can
(C) Work hard or you cannot win
(D) If you do not waste you do not want
194. Identify the Simple sentence :
(A) The rain having stopped, we continued our journey
(B) The rain stopped so we continued our journey
(C) As the rain stopped, we continued our journey
(D) The rain stopped and we continued our journey
195. Identify the Simple sentence:
(A) Do not be a borrower or lender
(B) He was obstinate, therefore he was punished
(C) As it is raining, I will take an umbrella with me.
(D) Make haste or you will be late
196. Identify the Comparative degree :
(A) No other game is as popular as hockey
(B) Emu is the biggest Australian bird.
(C) Arjuna was the most skilled warrior
(D) Hari is shorter than Ramu.
197. Identify the Comparative degree :
(A) Mala is the best singer in the school choir.
(B) No other singer in the school choir is so good as Mala.
(C) Mala is better than any other singer in the school choir.
(D) Very few singers in the school choir are as good as Mala.



TNPSC

GENERAL ENGLISH

198. Identify the Positive degree :

- (A) He is the cleverest boy in the group
- (B) Raju is cleverer than Arun.
- (C) This is the worst situation.
- (D) Amar is not so good as Bhaskar.

199. Identify the degree

David is the fastest bowler in the world.

- (A) Positive degree (B) Comparative degree
- (C) Superlative degree (D) None of these.

200. Identify the Superlative degree :

- (A) The Giraffe is the tallest animal.
- (B) Wordsworth was more famous than most other English poets.
- (C) Chennai is cleaner than Kolkata.
- (D) Imran is wiser than Robert.





TNPSC

General Knowledge

- Gymnosperms are
(A) Open seeded plants
(B) Closed seeded plants
(C) Nonflowering plants
(D) Aquatic plants
ஜிம்னோஸ்பெர்ம்கள் என்பவை
(A) திறந்த விதைத் தாவரங்கள்
(B) மூடிய விதைத்தவரங்கள்
(C) பூவாத தாவரங்கள்
(D) நீர்வாழ்வன
- Cellular respiration occurs in
(A) centromere (B) mitochondria
(A) Nuclear (D) Golgi complex
செல் சுவாசம் இங்கு நடைபெறுகிறது
(A) சென்ட்ரோமியர்
(B) மைட்டோகாண்ட்ரியா
(C) மைட்டோகாண்ட்ரியா
(D) நியூக்ளியஸ்
- The nitrogen fixing bacterium present in the root nodules of leguminous plant is
(A) Salmonella (B) Rhizobium
(C) Clostridium (D) Pseudomonas
லெகுமினஸ் தாவர வேர் முடிச்சுகளில் உள்ள
நைட்ரஜன் நிலைப்படுத்தும் பாக்டீரியா
(A) சால்மோனெல்லா (B) ரைசோபியம்
(C) கிளாஸ்ட்ரிடியம் (D) சூடோமோனாஸ்
- Algae and fungi are collectively known as
(A) Thallophytes (B) Bryophytes
(C) Pteridophytes (D) Spermatophytes
ஆல்காக்கள் மற்றும் பூஞ்சைகள் ஆகிய
இரண்டும் இவ்விதமாக அழைக்கப்படுகின்றன.
(A) தாலோபைட்டுகள்
(B) ப்ரையோபைட்டுகள்
(C) டெரிடோபைட்டுகள்
(D) ஸ்பெர்மடோபைட்டுகள்
- Numerical changes in chromosomes are known as
(A) Euploidy (B) Aneuploidy
(C) Polyploidy (D) Allopolyploidy
குரோமோசோம்கள் எண்ணிக்கை மாறுபாடு
அடைதல் _____ என அறியப்படுகிறது.
(A) யூப்ளாய்டி (B) அனூப்பிளாய்டி
(C) பாலிபிளாய்டி (D) அல்லோபாலிப்ளாய்டி
- Which of the following is responsible for an increase in blood sugar level by stimulating the dissolution of glycogen granules and consequent movement of soluble glucose into blood?
(A) Insulin (B) Glucagon
(C) Thyroxine (D) Aldosterone
கிளைகோஜன் துகள்களை சிதைவுறச் செய்து
கரை தன்மை கொண்ட குளுக்கோசினை
இரத்தத்தில் சேர்ப்பதன் மூலம் இரத்த சர்க்கரை
அளவினை அதிகப்படுத்துவதற்கு காரணமாக
அமைவது
(A) இன்சலின் (B) குளுகாகான்
(C) தைராக்சின் (D) ஆல்டோஸ்டீரோன்
- Which of the following is responsible for the development of secondary sexual characters of the female and for the development of female sexual organ?
(A) Aldosterone (B) Estradiol
(C) Progesterone (D) Relaxin
பெண் பாலின உறுப்பு வளர்ச்சிக்கும் இரண்டாம்
நிலை பாலினப் பண்புகளின் வளர்ச்சிக்கும்
காரணமாக அமைவது
(A) ஆல்டோஸ்டீரோன்
(B) எஸ்ட்ராடையோல்
(C) புரோஜெஸ்டீரோன்
(D) ரிலாக்சின்



TNPSC

General Knowledge

8. Which one is the most precious part, the soul and key to the constitution?
(A) Fundamental Rights
(B) Preamble
(C) Directive principles of state policy
(D) Independence of judiciary
இந்திய அரசியலமைப்பில் எந்தப்பிரிவு அபூர்வமாகவும், உயிராகவும் மற்றும் திறவுகோலாகவும் இருப்பது?
(A) அடிப்படை உரிமைகள்
(B) முகவுரை
(C) அரசின் வழிகாட்டும் நெறிமுறைகள்
(D) நீதித்துறை சுதந்திரம்
9. Which commission had recommended that the scheduled caste status be delinked from religion?
(A) National Commission for Religious and Linguistic Minorities
(B) National Commission for Scheduled Castes / Scheduled Tribes
(C) Constitution Review Commission
(D) Administrative reforms commission
அட்டவணை சாதியினருக்கான தகுதியை மதத் தொடர்பில் இருந்து பிரிக்க வேண்டும் என்று கூறி ஆணையம் எது?
(A) மதம் மற்றும் மொழி சிறுபான்மையினருக்கான தேசிய ஆணையம்
(B) அட்டவணை சாதியினர் மற்றும் பழங்குடியினருக்கான தேசிய ஆணையம்
(C) அரசியலமைப்பு மறு ஆய்வு ஆணையம்
(D) நிர்வாக சீர்திருத்த ஆணையம்
10. Who has the power to appoint additional judge for the clearance of arrears of work in High Court?
(A) President of India
(B) Chief Justice of India
(C) Chief justice of High Court
(D) Governor of the State
உயர்நீதிமன்றத்தில் தேங்கியுள்ள பணிகளை முடிப்பதற்கு கூடுதல் நீதிபதிகளை நியமிக்கும் அதிகாரம் உடையவர் யார்?
(A) இந்திய குடியரசு தலைவர்
(B) இந்திய தலைமை நீதிபதி
(C) உயர்நீதிமன்ற தலைமை நீதிபதி
(D) மாநில ஆளுநர்
11. Article 5 of the constitution of India deals with
(A) Nature of Indian Union
(B) Formation of states
(C) Indian Citizenship
(D) Amendment procedure
இந்திய அரசியல் சட்டத்தில் 5ம் சட்டப்பிரிவு எதை தொடர்பு கொண்டுள்ளது?
(A) இந்திய குடியரசின் தன்மை
(B) மாநிலங்கள் உருவாக்கும் முறை
(C) இந்திய குடியரிமை
(D) அரசியல் சட்ட மாற்றும் செயல்முறை
12. Who is called as Father of All India Services?
(A) Jawaharlal Nehru
(B) Sardar Vallabhai Patel
(C) Lal Bahadur Shastri
(D) Kothari
அனைத்திந்திய குடிமை பணிகளின் தந்தை என அழைக்கப்படுபவர்
(A) ஜவஹர்லால் நேரு
(B) சர்தார் வல்லபாய் பட்டேல்
(C) லால்பகதூர் சாஸ்திரி
(D) கோத்தாரி



TNPSC

General Knowledge

13. The 88th Constitutional Amendment of 2003 had introduced major changes in the distribution of the source of revenue between the centre and the states. It is

- (A) Tax revenues (B) Income Tax
(C) Property Tax (D) Land revenues

2003 ம் ஆண்டில் 88வது அரசியலமைப்புத் திருத்தம் மத்திய மாநில அரசுகளுக்கிடையே எந்த வருவாய் பகிர்வுக்கு முக்கிய மாற்றாக திகழ்கிறது.

- (A) வரிவருவாய் (B) வருமான வரி
(C) சொத்துவரி (D) நிலவருவாய்

14. India's first general Elections were held to the Lok Sabha in 1951 - 1952 for a total seats of

- (A) 489 (B) 500 (C) 534 (D) 545
இந்தியாவில் முதன்முதலில் மக்களவைக்கான பொதுத்தேர்தல் 1951-1952ல் நடைபெற்ற உறுப்பினர்களின் எண்ணிக்கைக்குரிய இடம்

- (A) 489 (B) 500 (C) 534 (D) 545

15. When was the first Communal G.O. issued?

- (A) 16th Sep 1921 (B) 16th Oct 1921
(C) 16th Sep 1920 (D) 16th Oct 1920

முதல் வகுப்பு வரி ஆணை எப்பொழுது வெளியிடப்பட்டது?

- (A) 16 செப்டம்பர் 1921 (B) 16 அக்டோபர் 1921
(A) 16 செப்டம்பர் 1920 (D) 16 அக்டோபர் 1920

16. Who among the following was an independent member who formed the ministry in Madras Presidency during 4th Dec 1926?

- (A) P. Subbarayalu Reddiar
(B) B. Munuswamy Naidu
(C) Dr. A. Subbarayan

(D) Raja of Bobbili

பின்வருபவர்களில் டிசம்பர் மாதம் 4 ந் தேதி 1926ம் ஆண்டு சென்னை மாகாணத்தில் அமைச்சரவை அமைத்த சுயேச்சை உறுப்பினர் யார்?

- (A) P. சுப்பராயலு ரெட்டியார்
(B) B. முனுசாமி நாயுடு
(C) Dr.A. சுப்பராயன்
(D) பொப்பிலி இராஜா

17. According to the 2009 Tamil Nadu Marriage Act, the Marriage in Tamil Nadu should be registered within

- (A) 7 days (B) 30 days
(C) 90 days (D) 120 days

2009 ஆம் ஆண்டின் தமிழக திருமண சட்டத்தின் படி, தமிழகத்தில் திருமணங்கள் எத்தனை நாட்களுக்குள் பதிவு செய்யப்பட வேண்டும்?

- (A) 7 நாட்கள் (B) 30 நாட்கள்
(C) 90 நாட்கள் (D) 120 நாட்கள்

18. Which Sri Lankan poet is named in Sangam Literature?

- (A) Arumuga Navalar
(B) Ezhathu Boothan Devanar
(C) Yazhpanathu Kanagasabai pulavar
(D) Na. Kathirvel Pillai

சங்க இலக்கியத்துள் இடம்பெற்ற இலங்கைப் புலவர்

- (A) ஆறுமுக நாவலர்
(B) ஈழத்துப் பூதன் தேவனார்
(C) யாழ்ப்பாணத்துக் கனகசபைப் புலவர்
(D) நா. கதிரைவேற் பிள்ளை

19. The book which speaks about ancient musical instrument is



TNPSC

General Knowledge

(A) Madurai Kanji (B) Malaipadu Kadam
(C) Mullai Pattu (D) Kurinji Pattu
பண்டை இசைக்கருவிகள் பற்றி மிகுதியாகக் கூறும் நூல்

(A) மதுரைக் காஞ்சி (B) மலைபடுகடாம்
(C) முல்லைப்பாட்டு (D) குறிஞ்சிப்பாட்டு

20. What is the diameter of the optical fibres used to carry voice, video and data signals in telecommunication networks?

(A) 6 mm (B) 60mm (C) 6 μ m (D) 60 μ m
பேச்சு, காட்சிப்பதிவு மற்றும் தகவல் சைகைகளை தொலைத்தொடர்பு சுற்றுகள் மூலம் அனுப்பப்படும் ஒளியியல் இழைகளின் விட்டத்தின் அளவு என்ன?

(A) 6 mm (B) 60mm (C) 6 μ m (D) 60 μ m

21. When a glass rod is rubbed with a piece of silk cloth

(A) Electrons are transferred from silk to glass
(B) Electrons are transferred from glass to silk
(C) Protons are transferred from silk to glass
(D) Protons are transferred from glass to silk.

பட்டுத்துணியின் மீது கண்ணாடி தண்டினை தேய்க்கும் போது

(A) எலக்ட்ரான்கள் பட்டியிலிருந்து கண்ணாடிக்கு செல்கிறது.
(B) எலக்ட்ரான்கள் கண்ணாடியிலிருந்து பட்டிற்கு செல்கிறது.
(C) புரோட்டான்கள் பட்டிலிருந்து கண்ணாடிக்கு செல்கிறது.
(D) புரோட்டான்கள் கண்ணாடியிலிருந்து பட்டிற்கு செல்கிறது.

22. Match list I List II correctly and select your answer using the codes given below

List I	List II
(A) Iodine	1. Dwarfism
(B) Iron	2. Bone dissolution
(C) Zinc	3. Amemia
(D) Calcium	4. goltre

Codes

a	b	c	d
A 4	3	1	2
B 1	2	3	4
C 2	3	4	1
D 4	2	1	3

பட்டியல் I ஐ பட்டியல் II உடன் பொருத்தி கீழே கொடுக்கப்பட்டுள்ள குறியீடுகளை கொண்டு சரியான விடையைத் தேர்ந்தெடு:

பட்டியல் I

பட்டியல் II

(A) அயோடின்	1. ட்வார்ஃபிசம்
(B) இரும்பு	2. எலும்பு தேய்வு
(C) துத்தநாகம் (ஜிங்க்)	3. ரத்தச் சோகை
(D) கால்சியம்	4. காய்டர்

a	b	c	d
A 4	3	1	2
B 1	2	3	4
C 2	3	4	1
D 4	2	1	3

23. Aattamathis

(A) The name of a tree
(B) The name of king
(C) A form of folk dance
(D) A type of song
ஆட்டனத்தி என்பது
(A) ஒரு மரத்தின் பெயர்
(B) ஒரு மன்னனின் பெயர்
(C) ஒரு வகைக் கூத்து
(D) ஒரு வகைப்பாடல்



TNPSC

General Knowledge

24. Match list I with List II correctly and select your answer using the codes given below:

List I	List II
(A) Simhavishnu	1. Velvikudi Cheppedu
(B) Neduchadayan Paranthagan	2. Udayendra Pattayam
(C) Nandi Varman II	3. Udaya Sundra mangala Pattayam
(D) Narasimhavarman	4. Kasaukudi Pattayam

	a	b	c	d
A	4	3	1	2
B	2	1	4	3
C	2	3	4	1
D	4	2	1	3

பட்டியல் I ஐ பட்டியல் II உடன் பொருத்தி, கீழே கொடுக்கப்பட்டுள்ள குறியீடுகளைக் கொண்டு சரியான விடையைத் தேர்ந்தெடு.

(A) சிம்ம விஷ்ணு	1. வேள்விக்குடிச் செப்பேடு
(B) நெடுஞ்சடையன் பராந்தகன்	2. உதயேந்திரப் பட்டயம்
(C) இரண்டாம் நந்திவர்மன்	3. உதய சுந்தர மங்கலப் பட்டயம்
(D) நரசிம்ம வர்மன்	4. காசக்குடி பட்டயம்

	a	b	c	d
A	4	3	1	2
B	2	1	4	3
C	2	3	4	1
D	4	2	1	3

25. Porchunnam, Pooalli, Thellenam, Chazhal, Thumabi - all of these are

- (A) Sol Vilayattu (B) Pengal Vilayattu
(C) Saivar vazhipadu (D) None of these

பொற்குண்ணம், பூவல்லி, தெள்ளேணம், சாமூல், தும்பி - இவையனைத்தும்

- (A) சொல் விளையாட்டு
(B) பெண்கள் விளையாட்டு
(C) சைவர் வழிபாடு
(D) இவற்றுள் எதுவுமில்லை

26. In which year of India's planning was Rao - Manmohan model introduced?

- (A) 1992 (B) 1994 (C) 1996 (D) 1997
ராவ் - மன்மோகன் இந்திய திட்டமாதிரி எந்த ஆண்டில் தொடங்கப்பட்டது?
(A) 1992 (B) 1994 (C) 1996 (D) 1997

27. Reserve Bank of India calculates four components of money supply M1, M2, M3, M4 which one of the following statements is not correct?

- (A) $M_1 = \text{currency with public} + \text{demand deposits with banks}$
(B) $M_2 = M_1 + \text{Post office savings deposits}$
(C) $M_3 = M_1 + M_2$
(D) $M_4 = M_3 + \text{total post office deposits}$
இந்திய ரிசர்வ் வங்கி பண அளிப்பை பின்வரும் அடிப்படைகளில் M_1, M_2, M_3, M_4 கணக்கிடுகிறது. இவற்றிற்குரிய பின்வரும் விளக்கங்களில் எது சரியானது அல்ல?

- (A) $M_1 = \text{மக்களிடையே உள்ள பணப்புழக்கம்} + \text{வங்கியின் கேட்பு வைப்புத் தொகை}$
(B) $M_2 = M_1 + \text{அஞ்சலக சேமிப்பு வைத்து தொகை}$
(C) $M_3 = M_1 + M_2$
(D) $M_4 = M_3 + \text{ஓட்டு மொத்த அஞ்சலக வைப்புத்தொகை}$



TNPSC

General Knowledge

28. Which of the following statements is not correct?

- (A) The Planning Commission of India is an advisory body
- (B) The planning commission was set up by an act of Parliament
- (C) The planning Commission makes five year plans
- (D) The planning commission implements five year plans

பின்வருவனவற்றில் எது தவறான கூற்று?

- (A) இந்தியாவின் திட்டக்குழு என்பது ஒரு ஆலோசனை அமைப்பு
- (B) திட்டக்குழு என்பது பாராளுமன்ற சட்டத்தின் அடிப்படையில் அமைக்கப்பட்ட ஒன்று
- (C) திட்டக்குழு ஐந்தாண்டு திட்டங்களை உருவாக்கிறது.
- (D) திட்டக்குழு ஐந்தாண்டு திட்டங்களைச் செயல்படுகிறது

29. What is PPP with regard to Government investment policy?

- (A) Public Private Potentiality
- (B) Productive Purchase policy
- (C) Public Private Partnership
- (D) Purchasing power parity

அரசாங்க முதலீட்டு கொள்கையில் PPP என்பது என்ன?

- (A) அரசு மற்றும் தனியார் முதலீட்டு திறன்
- (B) உற்பத்தி மற்றும் வாங்கும் திட்டம்
- (C) தனியார் மற்றும் அரசு கூட்டமைப்பு
- (D) வாங்கும் திறன் அளவு

30. Kellar Committee is established for

- (A) Banking reforms
- (B) Corporate reforms

(C) Tax reforms

(D) Administrative reforms

கேல்கர் கமிட்டி என்பது எதற்காக

அமைக்கப்பட்டது

- (A) வங்கி மறுசீரமைப்பு
- (B) குழுமங்களின் மறுசீரமைப்பு
- (C) வரிக் கொள்கை மறுசீரமைப்பு
- (D) நிர்வாக மறுசீரமைப்பு

31. Co operative farming is

- (A) An organisation of SHGs to promote agricultural growth
- (B) An organisation of farmers extending the principles of co operation to agriculture
- (C) An organisation of MFI's to promote agricultural growth
- (D) An organisation of entrepreneurs to promote agricultural growth

கூட்டுறவு வேளாண்மை

(A) சுய உதவிக்குழுக்கள் இணைந்து கூட்டுறவுக் கொள்கையை

வேளாண்மையில் அமுல்படுத்துவது

(B) விவசாயிகள் இணைந்து கூட்டுறவுக் கொள்கையை வேளாண்மையில் அமுல்படுத்துவது

(C) சிறிய நிதி நிறுவனங்கள் இணைந்து கூட்டுறவுக் கொள்கை அமுல் படுத்துவது

(D) வேளாண்மை வளர்ச்சியை ஊக்கப் படுத்துவற்கான தொழில் முனைவோர்களின் குழு

32. In 2010-11 budget, the income of the women assesses is exempted to the extent of

- (A) Rs. 1,60,000
- (B) Rs.1,80,000
- (C) Rs.1,90,00
- (D) Rs.2,40,000



TNPSC

General Knowledge

2011-11 வரவு செலவு திட்டத்தின் கீழ் வருமான வரி செலுத்தும் பெண் ஊழியரின் வரிவிலக்கு நிர்ணயம்

- (A) ரூ. 1,60,000 (B) ரூ.1,80,000
(C) ரூ.1,90,00 (D) ரூ. 2,40,000

33. Which of the following statements is not correct?

- (A) The average size of an operational land holding in Tamil Nadu has steadily declined.
(B) The average size of an operational land holding in Tamil Nadu is above the all india average size of holding.
(C) Tamil Nadu has a large proportion of marginal land holding
(D) Tamil Nadu has a high proportion of area of marginal land holdings.

பின்வரும் கூற்றுகளில் தவறானது எது?

- (A) தமிழ்நாட்டில் செயல் நில உடைமை சராசரியானது தொடர்ந்து சரிந்து கொண்டு இருக்கிறது.
(B) தமிழ்நாட்டில் செயல் நில உடைமை சராசரியானது அகில இந்திய நிலவுடைமை சராசரியை விட அதிகம்
(C) தமிழ்நாட்டில் அதிக சதவீதம் மார்ஜினல் நிலவுடைமையில் உள்ளது.
(D) தமிழ்நாட்டில் அதிக சதவீதம் பரப்பு மார்ஜினல் நிலவுடைமையில் உள்ளது.

34. When was the Legislative Council of the Tamil Nadu Assembly abolished

- (A) 1982 (B) 1986 (C) 1987 (D) 1989

எந்த ஆண்டு தமிழ்நாடு சட்ட மேலவை கலைக்கப்பட்டது?

- (A) 1982 (B) 1986 (C) 1987 (D) 1989

35. Which of the following districts has the lowest literacy rate?

- (A) Thanjavur (B) Madurai
(C) Dharmapuri (D) Cuddalor

தமிழகத்தில் கல்வி அறிவு வீதம் குறைந்த மாவட்டம் எது?

- (A) தஞ்சாவூர் (B) மதுரை
(C) தருமபுரி (D) கடலூர்

36. The sum of the ages of a father and a son is 50 years. Six years ago, the product of their ages was twice the father's age at that time. The present age of father and son respectively are

- (A) 40 years, 10 years
(B) 41 years, 9 years
(C) 38 years, 12 years
(D) 42 years, 8 years

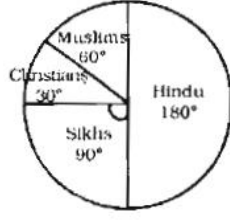
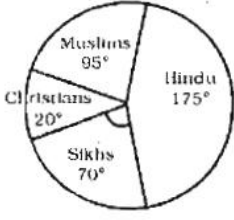
தந்தை மற்றும் மகனின் வயதின் கூட்டுத்தொகை மொத்தம் 50 ஆண்டுகள் ஆகும். 6 வருடத்திற்கு முன்பு இவர்கள் இருவரின் வயதின் பெருக்குத்தொகையானது அச்சமயத்தின் தந்தை வயதின் இருமடங்காக உள்ளது. தற்போது தந்தை மற்றும் மகனின் வயது.

- (A) 40 ஆண்டுகள், 10 ஆண்டுகள்
(B) 41 ஆண்டுகள், 9 ஆண்டுகள்
(C) 38 ஆண்டுகள், 12 ஆண்டுகள்
(D) 42 ஆண்டுகள், 8 ஆண்டுகள்

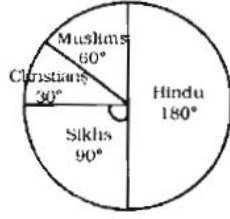

37. Christian workers in A are how many per cent of Christian workers in B?

- (A) 64% (B) 65% (C) 66.66% (D) 67%

TNPSC General Knowledge



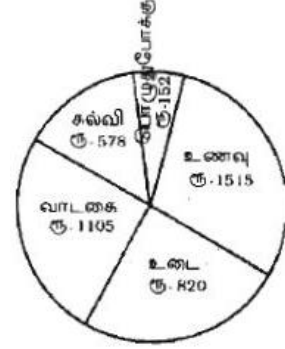
B ல் உள்ள கிறித்துவர்களின் எண்ணிக்கையில் எத்தனை சதவீதம் கிறித்துவர்கள் A ல் உள்ளனர்?



(A) 64% (B) 65% (C) 66.66% (D) 67%

(A) Food (B) Rent
(C) Clothing (D) Education

எந்த செலவினம் மொத்த செலவினத்தில் 20% ஆக உள்ளது?




(A) உணவு (B) வாடகை
(C) உடை (D) கல்வி

38. If a man runs at 3.7 metres per second, how many kilometers does he run in 1 hour 30 minutes ?
(A) 18.98 kms (B) 19.18 kms
(C) 19.88 kms (D) 19.98 kms

39. Find the wrong entry / கீழே கொடுத்துள்ளவற்றில் தவறானது எது?
(A) BOM (B) TDS
(C) GEK (D) MUC

40. The pie-chart shows the amount spent as expenditure on various items. Study the pie chart and answer for the given question. Which item of expenditure is 20% of the total expenditure?



41. The upper limit of the class intervals are required when we consider the formation of
(A) Relative frequency
(B) More than cumulative frequency
(C) Less than cumulative frequency
(D) Absolute frequency
பிரிவு இடைவெளிகளின் மேல் எல்லைகள் எதை அமைப்பதற்கு தேவைப்படுகின்றன?
(A) சார்பு அலைவெண்கள்
(B) மேலின குவிவு அலைவெண்கள்
(C) கீழின குவிவு அலைவெண்கள்
(D) தனி அலைவெண்கள்

42. The nine values which divide a given data into ten equal parts are called
(A) Average (B) Quartiles
(C) Percentiles (D) Deciles
ஒரு புள்ளிவிவரத்தை பத்து சமப்பகுதிகளாக பிரிக்கும் ஒன்பது மதிப்புகளை எவ்வாறு அழைக்கிறோம்?
(A) சராசரிகள் (B) கால்மானங்கள்
(C) நூற்றுமானங்கள் (D) பத்துமானங்கள்



TNPSC General Knowledge

43. What is the cumulative frequency up to the class interval 30 -40?

Class interval	0-10	10-20	20-30	30-40	40-50	50-60	60-70
Frequency	2	12	6	10	12	7	1

(A) 20 (B) 30 (C) 6 (D) 10

பிரிவு இடைவெளி	0-10	10-20	20-30	30-40	40-50	50-60	60-70
அலைவெண்	2	12	6	10	12	7	1

30-40 என்னும் பிரிவு இடைவெளி வரை உள்ள குவிவு அலைவெண் எது?

(A) 20 (B) 30 (C) 6 (D) 10

44. Ashtadiggajas were adorned by the court of

(A) Shivaji (B) Krihnadevaraya
(C) Akbar (D) Harsha

அஷ்டதிக்கஜங்கள் யாருடைய அவையை அலங்கரித்தனர்?

(A) சிவாஜி (B) கிருஷ்ணதேவராயர்
(C) அக்பர் (D) ஹர்ஷர்

45. Who among the following did not accompany Gandhi during the Champaran Satyagraha on 1917?

(A) Sardar Patel (B) Rajendra Prasad
(C) J.B. Kripanlani (D) Mahadev Desai

1917 சம்பரான் சத்தியாகிரகத்திற்கு காந்தியுடன் உடன் செல்லாதவர் யார்?

(A) சர்தார் படேல் (B) ராஜேந்திர பிரசாத்
(C) J.B. கிருபாலணி (D) மகாதேவ் தேசாய்

46. Which is wrongly matched?

(A) Nyaya Darsana - Gautam Rishi
(B) Sankhya Darsana - Kapila

(C) Yoga Darsana - Patanjali

(D) Uttar Mimasa Darsana - Jaimini

கீழ்க்கண்டவற்றுள் எது தவறாக பொருத்தப்பட்டுள்ளது?

(A) நியாய தர்ஷனா - கௌதம் ரிஷி

(B) சாங்கிய தர்ஷனா - கபிலா

(C) யோக தர்ஷனா - பதஞ்சலி

(D) உத்தர் மிமான்ச தர்ஷனா - ஜெய்மினி

47. Home Rule League in India was formally inaugurated on

(A) 25th September 1915

(B) 15th September 1916

(C) 27th October 1916

(D) 30th December 1916

இந்தியாவில் தன்னாட்சிக் குழு தொடங்கப்பட்ட நாள்

(A) செப்டம்பர் 25, 1915

(B) செப்டம்பர் 15, 1916

(C) அக்டோபர் 27, 1916

(D) டிசம்பர் 30, 1916

48. Who was the President of the Congress in 1938 when it committed itself to economic planning and set up a National Planning committee under the Chairmanship of Nehru?

(A) Subhash Chandra Bose

(B) P.C. Josh

(C) Acharya Narendra Dev

(D) Jai Prakash Narayan

1938 ஆம் ஆண்டு நேருவின் தலைமையில் அமைந்த தேசிய திட்டக்குழுவின் காங்கிரஸ் தலைவராக இருந்தவர் யார்?

(A) சுபாஷ் சந்திரபோஸ்

(B) P.C. ஜோஷி

(C) ஆச்சார்யா நரேந்திர தேவ்

(D) ஜெயப்பிரகாஷ் நாராயண்



TNPSC

General Knowledge

49. Who started Tamil Newspaper Desabhaktan?

- (A) U.V. Swaminathan
- (B) Thiru V. Kalyana Sundaranar
- (C) Ramalinga Adigalar
- (D) Bharathiyar

தேசபக்தன் எனும் தமிழ் பத்திரிக்கையைத் தொடங்கியவர் யார்?

- (A) U.V. சுவாமிநாதன்
- (B) திரு.வி. கல்யாண சுந்தரனார்
- (C) இராமலிங்க அடிகளார்
- (D) பாரதியார்

50. Lord Macaulay was associated with

- (A) Reforms in the army
- (B) Abolition of sati
- (C) Codification of laws
- (D) Permanent revenue settlement

மெக்காலே பிரபு எதனுடன் தொடர்புடையவர்?

- (A) இராணுவச் சீர்திருத்தம்
- (B) சதி ஒழிப்பு
- (C) சட்டத் தொகுப்பு
- (D) நிரந்தர நிலவரித்திட்டம்

51. Who was the President of the Indian National Congress session held at Calcutta in 1920?

- (A) Mahatma Gandhi
- (B) Motilal Nehru
- (C) Surendranath Banerjee
- (D) Lala Lajpat Rai

1920 ஆம் ஆண்டு கல்கத்தாவில் நடைபெற்ற இந்திய தேசிய காங்கிரஸ் மாநாட்டிற்கு தலைமை வகித்தவர் யார்?

- (A) மகாத்மா காந்தி
- (B) மோதிலால் நேரு

(C) சுரேந்திநாத் பானர்ஜி

(D) லாலாலஜபதி ராய்

52. Which of the following is correctly matched?

- (A) Champaran - Punjab
- (B) Kheda - Uttar Pradesh
- (C) Bardoli - Gujarat
- (D) Dandi - Bihar

கீழ்க்கண்டவற்றுள் சரியாக பொருந்தியுள்ளது எது?

- (A) சம்பரான் - பஞ்சாப்
- (B) கேதா - உத்திரபிரதேசம்
- (C) பர்தோலி - குஜராத்
- (D) தண்டி - பீகார்

53. Who was Indian Representative to attend UNESCO conference at Geneva in 1949?

- (A) Vijjalakshmi Pandit
- (B) Ammu Swaminathan
- (C) Sarojini Naidu
- (D) Annie Besant

1949ம் ஆண்டு ஜெனிவாவில் நடந்த யுனெஸ்கோ மாநாட்டில் இந்திய பிரதிநிதியாக கலந்து கொண்டவர் யார்?

- (A) விஜயலட்சுமி பண்டிட்
- (B) அம்மு சுவாமிநாதன்
- (C) சரோஜினி நாயுடு
- (D) அன்னிபெசண்ட்

54. Who among the following was called as Dadabhal of Tamil Nadu?

- (A) Bharathiyar
- (B) V.O. Chindambaram
- (C) C. Vijayaragavachariyar
- (D) Tiruppur Kumaran

கீழ்க்கண்டவர்களுள் தமிழ்நாட்டின் தாதாபாய் என்றழைக்கப்பட்டவர் யார்?



TNPSC

General Knowledge

- (A) பாரதியார்
(B) வ.உ.சிதம்பரம்
(C) சி. விஜயராகவாச்சாரியார்
(D) திருப்பூர் குமரன்

55. Arrange the planets based on size

- (A) Saturn, Neptune, Uranus, Jupiter
(B) Neptune, Saturn, Uranus, Jupiter
(C) Jupiter, Saturn, Neptune, Uranus
(D) Saturn, Neptune, Jupiter, Uranus

கோள்களை உருவ அடிப்படையில்

வரிசைப்படுத்துக

- (A) சனி, நெப்டியூன், யுரேனஸ், வியாழன்
(B) நெப்டியூன், சனி, யுரேனஸ், வியாழன்
(C) வியாழன், சனி, நெப்டியூன், யுரேனஸ்
(D) சனி, நெப்டியூன், வியாழன், யுரேனஸ்

56. Galaxy is a

- (A) Giant family of millions of planets
(B) Giant family of millions of stars
(C) Giant family of millions of stars & Planets
(D) Giant family of millions of stars planets & asteroids.

நட்சத்திரக் கூட்டம் என்பது

- (A) பல மில்லியன் கோள்களின் பூதாசிரக் குடும்பம்
(B) பல மில்லியன் நட்சத்திரங்களின் பூதாசிரக் குடும்பம்
(C) பல மில்லியன் நட்சத்திரங்கள் மற்றும் கோள்களின் பூதாசிரக் குடும்பம்
(D) பல மில்லியன் நட்சத்திரங்கள், கோள்கள் மற்றும் சிறுகோள்களின் பூதாசிரக் குடும்பம்

57. Arrange the atmospheric layer in the ascending order :

- I. Stratosphere
II. Troposphere

III. Thermosphere

IV. Mesosphere

Of these

- (A) I, II, III & IV (B) I, III, IV & II
(C) IV, III, I & II (D) II, I, IV & III

வளிமுக அடுக்குகளை ஏறுமுகமாக வரிசைப்படுத்துக

- I. படையடுக்கு II. தாழ் அடுக்கு
III. வெப்ப அடுக்கு IV. இடை அடுக்கு
(A) I, II, III & IV (B) I, III, IV & II
(C) IV, III, I & II (D) II, I, IV & III

58. The equatorial radius of the earth is

- (A) 6378.5 km (B) 6108.5 km
(C) 6500.5 km (D) 6778.5 km

புவியின் புவியிடை ஆரம் ----- ஆகும்

- (A) 6378.5 km (B) 6108.5 km
(C) 6500.5 km (D) 6778.5 km

59. The mercury's period of revolution round the sun.

- (A) 68 days (B) 108 days
(C) 110 days (D) 88 days

புதன் சூரியனை ஒருமுறை சுற்றி வர ஆகும் காலம்

- (A) 68 நாட்கள் (B) 108 நாட்கள்
(C) 110 நாட்கள் (D) 88 நாட்கள்

60. Three layers of continental crust from top to bottom are

- I. Sedimentary
II. Granitic layer
III. Basaltic layer

Of these

- (A) I, II & III (B) II, II & I
(C) II, I & III (D) II, III & I

கண்ட மேலோடு மூன்று அடுக்கமைவுகள் மேலிருந்து கீழாக



TNPSC

General Knowledge

- I. படிவங்கள்
II. கிராண்ட் அடுக்கு
III. பாசால்ட் அடுக்கு

இவற்றுள்

- (A) I, II & III (B) II, II & I
(C) II, I & III (D) II, III & I

61. National Highway 7 connects
Kanniyakumari with

- (A) Delhi (B) Madurai
(C) Chennai (D) Varanasi

தேசிய நெடுஞ்சரலை எண் 7 கன்னியாகுமரியை
இணைக்கும் நகரம்

- (A) டெல்லி (B) மதுரை
(C) சென்னை (D) வாரணாசி

62. Aryankavu pass of Tamil Nadu is situated in

- (A) Kodaikannal hills (B) Varushandau hills
(C) Agastya hills (D) Alagar hills

தமிழ்நாட்டில் ஆரியன்காவுக் கணவாயின்
அமைவிடம்

- (A) கொடைக்கானல் மலை
(B) வருசநாடு மலை
(C) அகஸ்தியர் மலை
(D) அழகர் மலை

63. Arrange the hills from North to South

- (A) Varushnad, Sirumalai, Shervaroy,
Javadi
(B) Sirumalai, Shervaroy, Javadi,
Varushnad
(C) Javadi, Shervaroy, Sirumalai,
Varushnad
(D) Shervaroy, Sirumalai, Javadi,
Varushnad

கொடுக்கப்பட்டுள்ள மலைகளை வடக்கு முதல்
தெற்கு நோக்கி வரிசைப்படுத்துக :

- (A) வருஷநாடு, சிறுமலை, சேர்வராய், ஜவ்வாது
(B) சிறுமலை, சேர்வராய், ஜவ்வாது, வருஷநாடு
(C) ஜவ்வாது, சேர்வராய், சிறுமலை, வருஷநாடு
(D) சேர்வராய், சிறுமலை, ஜவ்வாது, வருஷநாடு

64. Match list I with list II correctly and select
your answer using the codes given below.

List I	List II
Cement industry	District
(A) Madhukkarai	1. Salem
(B) Dalminapuram	2. Tirunelveli
(C) Sankagiri	3. Trichirappalli
(D) Thalayuthu	4. comibatore

பட்டியல் I ஐ பட்டியல் II உடன் பொருத்தி கீழே
கொடுக்கப்பட்டுள்ள குறியீடுகளைக் கொண்டு
சரியான விடையைத் தேர்ந்தெடு:

பட்டியல் I	பட்டியல் II
சிமெண்ட் தொழிற்சாலை	மாவட்டம்
(A) மதுக்கரை	1. சேலம்
(B) டால்மியா புரம்	2. திருநெல்வேலி
(C) சங்ககிரி	3. திருச்சிராப்பள்ளி
(D) தாழையூத்து	4. கோயமுத்தூர்

Codes

	a	b	c	d
A	2	4	3	1
B	1	2	4	3
C	3	1	2	4
D	4	3	1	2

65. Match list I with list II correctly and select
your answer using the codes given below.

List I	List II
Cement industry	District
(A) Sangama dynasty	1. Thirumala
(B) Saluva dynasty	2. Vita Narasima



TNPSC

General Knowledge

- (C) Tuluva dynasty 3. Harthara
(D) Arveedu dynasty 4. Narasimha

Codes

	a	b	c	d
A	2	3	4	1
B	3	4	2	1
C	3	2	1	4
D	2	4	1	3

பட்டியல் I ஐ பட்டியல் II உடன் பொருத்தி கீழே கொடுக்கப்பட்டுள்ள குறியீடுகளைக் கொண்டு சரியான விடையைத் தேர்ந்தெடு:

பட்டியல் I பட்டியல் II
சிமெண்ட் மாவட்டம்

தொழிற்சாலை

- (A) சங்கம வம்சம்
(B) சாளுவ வம்சம்
(C) துளுவ வம்சம்
(D) ஆரவீடு வம்சம்

Codes

	a	b	c	d
(A)	2	3	4	1
(B)	3	4	2	1
(C)	3	2	1	4
(D)	2	4	1	3

66. Which among the following was a source for the Arab conquest of sind?

- (A) Jawamiul – Hikayat
(B) Chach - Nama
(C) Taj -ul- Maasir
(D) Tarikh - i- Daudi

கீழ்க்கண்டவற்றுள் அரேபியரின் சிந்து படையெடுப்புக்கு ஆதாரமாக விளங்குவது எது?

- (A) ஜவாமியுல் ஹிகாயத் (B) சாச்சா நாமா
(C) தாஜ் -உல்- மஜீர் (D) தாரிக் -இ-தௌதி

67. The first battle of Tarain was fought in the year

- (A) 1175 (B) 1179 (C) 1191 (D) 1192
முதல் தராயின் போர் நடைபெற்ற ஆண்டு
(A) 1175 (B) 1179 (C) 1191 (D) 1192

68. The founder of the janata party is

- (A) Kanshiram (B) Ambedkar
(C) Jaiprakash Narayan (D) Gokhale

ஜனதா கட்சியை நிறுவியவர் யார்?

- (A) சுன்ஷிராம் (B) அம்பேத்கர்
(C) ஜெயபிரகாஷ் நாராயணன் (D) கோகலே

69. An example of a fumigant is

1. திருமலை (A) DDT (B) Malathion
2. வீரநரசிம்மன் (C) Methoxychlor (D) p-dichlorobenzene
3. ஹரிஹரன்
4. நரசிம்மன்
வாயு நிலையில் செயல்புரியும்
பூச்சிக்கொல்லியை குறிப்பிடவும்

- (A) DDT
(B) மாலத்தியான்
(C) மீத்தாக்சி க்ளோர்
(D) p - டைக்ளோரோ பென்சீன்

70. Which metal is sufficiently concentrated in the oceans to be extracted commercially?

- (A) Ca (B) Cu (C) Fe (D) Mg
கடல் நீரிலிருந்து வணிக ரீதியில் பிரித்து எடுக்கக்கூடிய உலோகம்
(A) கால்சியம் (B) தாமிரம் (காப்பர்)
(C) இரும்பு (D) மெக்னீசியம்

71. Liquid nitrogen as applied to crops contains

- (A) Water, ammonium sulphate and urea
(B) Slurry of water, urea and ammonium nitrate
(C) A solution of ammonium phosphate



TNPSC

General Knowledge

- (D) Dilute nitric acid
திரவ நிலையில் தாவரங்களுக்கு நைட்ரஜன் வழங்க பயன்படுத்தப்படும் பொருட்களில் காணப்படுவது
- (A) நீர் அம்மோனியம் சல்பேட், யூரியா
(B) நீர், யூரியா மற்றும் அம்மோனியம் நைட்ரேட் குழம்புநிலை கலவை
(C) அம்மோனியம் பாஸ்பேட் கரைசல்
(D) நீர்த்த நைட்ரிக் அமிலம்
72. Bordeaux mixture contains
- (A) Copper sulphate, hydrated lime and water
(B) Copper sulphate, sodalime and water
(C) Cobalt sulphate, urea and water
(D) Copper arsenate, urea and ammonia
- போர்டியோ கலவையில் இருப்பது
- (A) மயில் துத்தம் (காப்பர் சல்பேட்), நீர்த்த சுண்ணாம்பு மற்றும் நீர்
(B) மயில் துத்தம் (காப்பர் சல்பேட்), சோடா லைம் மற்றும் நீர்
(C) கோபால்ட் சல்பேட், யூரியா மற்றும் நீர்
(D) தாமிர ஆர்சினேட், யூரியா மற்றும் அம்மோனியா
73. Which among the following represents one gigabyte?
- (A) 2^{10} (B) 2^{20} (C) 2^{30} (D) 2^{40}
- கீழே கொடுக்கப்பட்டுள்ளவற்றுள் எது ஒரு ஜிகாபைட்டை குறிக்கும்?
- (A) 2^{10} (B) 2^{20} (C) 2^{30} (D) 2^{40}
74. ASCII stands for
- (A) American Standard Code for Information Interchange
(B) American Standard Code for Instruction Interchange
(C) American Standard Code for Intermediate Interchange
(D) American Standard Code for Information Implied.
- ASCII என்பதை குறிப்பது
- (A) American Standard Code for Information Interchange
(B) American Standard Code for Instruction Interchange
(C) American Standard Code for Intermediate Interchange
(D) American Standard Code for Information Implied.
75. Which of the following is the prime cause for ozone depletion and formation of ozone hole?
- (A) CO_2 (B) NO_2 (C) CFC (D) O_2
- ஒசோன் அளவில் குறைந்து போவதற்கும் ஒசோன் படலத்துளை உருவாவதற்கும் முக்கிய பிரதான காரணம்
- (A) CO_2 (B) NO_2 (C) CFC (D) O_2
76. The cells responsible for cell mediated immunity are
- (A) Hymphocytes (B) B- Lymphocytes
(C) T-Lymphocytes (D) Erythrocytes
- செல்வழி நோய் எதிர்ப்புத் திறனுக்குக் காரணமான செல்கள்
- (A) லிம்போசைட்
(B) B லிம்போசைட்
(C) T லிம்போசைட்
(D) இரத்தச் சிவப்பணுக்கள்
77. Consider the following statements



TNPSC

General Knowledge

- I. Adrenaline is an emergency hormone
II. Vasopressin is an antidiuretic hormone

Of these

- (A) I & II are false
(B) I & II are true
(C) I is true, but II is false
(D) I is false but II is true

கீழ்க்கண்ட கூற்றுகளை ஆய்க:

- I. அட்ரினலின் ஒரு அவசர ஊருக்கு நீர்
II. வேசோபிரிசின் ஒரு எதிர் கழிவு நீர் நீக்க
ஊருக்கு நீர்

இவற்றுள்

- (A) I மற்றும் II இரண்டுமே தவறானவை
(B) I மற்றும் II இரண்டுமே சரியானவை
(C) I சரியானது மற்றும் II தவறானது
(D) I தவறானது மற்றும் II சரியானது

78. When a particle moves in a circle with a uniform speed.

- (A) Its velocity and acceleration are both constant
(B) Its velocity is constant but the acceleration changes
(C) Its acceleration is constant but the velocity changes
(D) Its velocity and acceleration both change

வட்டப்பாதையில் சீரான வேகத்துடன் துகள் ஒன்று செல்லும்போது

- (A) அதன் திசைவேகம் மற்றும் முடுக்கம் ஆகிய இரண்டு மாறாது.
(B) அதன் திசைவேகம் மாறாது, ஆனால் முடுக்கம் மாறும்
(C) அதன் முடுக்கம் மாறாது. ஆனால் திசைவேகம் மாறும்.
(D) அதன் திசைவேகமும், முடுக்கமும் மாறுபடும்

79. Paull's exclusion principle states that in an atom

- (A) Two electrons can have all the quantum numbers same
(B) No two electrons can have all the quantum numbers same
(C) Particles with integer and half interger spin cannot exist in the same state
(D) All electrons can have all the quantum numbers same

பெனலி தவிர்ப்பு தத்துவம் என்பது ஓர் அணுவில்

(A) இரண்டு எலக்ட்ரான்களின் அனைத்து குவாண்ட எண்களின் மதிப்பு ஒன்றாக இருக்கும்.

(B) இரண்டு எலக்ட்ரான்களின் அனைத்து குவாண்ட எண்களின் மதிப்பு ஒன்றாக இருக்காது.

(C) துகள்களில் சுழற்சி முழு எண் மதிப்பாகவோ அல்லது அரை எண் மதிப்பாகவோ ஒரே நிலையில் அமையாது.

(D) அனைத்து எலக்ட்ரான்களும் எல்லா குவாண்ட எண் மதிப்புகளும் ஒன்றாக இருக்கும்.

80. The critical velocity of a liquid flowing through a tube is

- (A) Directly proportional to coefficient of viscosity
(B) Inversely proportional to density of the liquid
(C) Directly proportional to the radius of the tube
(D) Inversely proportional to the radius of the tube.

Of these

- (A) All are correct
(B) I, II & IV are correct



TNPSC

General Knowledge

- (C) I, III & IV are correct
(D) II, III & IV are correct

குழாய் ஒன்றின் வழியே செல்லும் திரவத்தின் மாறுநிலை திசைவேகம்

- (A) பாகியல் எண்ணிற்கு நேர்விகிதத்தில் இருக்கும்
(B) திரவத்தின் அடர்த்திக்கு எதிர்விகிதத்தில் இருக்கும்
(C) குழாயின் ஆரத்திற்கு நேர்விகிதத்தில் இருக்கும்
(D) குழாயின் ஆரத்திற்கு எதிர்விகிதத்தில் இருக்கும்

இவற்றுள்

- (A) அனைத்தும் சரியானவை
(B) I,II மற்றும் IV சரியானவை
(C) I, III மற்றும் II சரியானவை
(D) II, III & IV சரியானது

81. Expand NACO

- (A) National AIDS Control Organization
(B) National AIDS Commission
(C) National Agricultural Corporation
(D) National Academic Council for Orphanage

NACO -ல் விரிவாக்கம்

- (A) National AIDS Control Organization
(B) National AIDS Commission
(C) National Agricultural Corporation
(D) National Academic Council for Orphanage

82. The software which was developed for precise prediction and forecasting of haemonchosis in sheep is

- (A) FROGIN (B) ORANGE
(C) SPSS (D) WEKA

ஆட்டில் ஹீமோன்கோஸிஸ் முன்கூட்டியே வருவதை அறிந்து உரைக்கும் மென்பொருள் எது?

- (A) FROGIN (B) ORANGE
(C) SPSS (D) WEKA

83. National Population Educational Project was launched in the year

- (A) 1988 (B) 1980 (C) 1978 (D) 1970
தேசிய மக்களுக்கான கல்வித் திட்டம் எந்த ஆண்டில் ஏற்படுத்தப்பட்டது?
(A) 1988 (B) 1980 (C) 1978 (D) 1970

84. In the year 2010-11 the production of fabric was

- (A) 61-81 billion sq.m (B) 66.91 billion sq.m
(C) 66 billion sq. m (D) 80 billion sq.m
2010-11 ஆம் ஆண்டில் நெய்யப்பட்ட துணியின் உற்பத்தி
(A) 61-81 billion sq.m (B) 66.91 billion sq.m
(C) 66 billion sq.m (D) 80 billion sq.m

85. Sarva Shiksha Abhiyan is one of India's Programmes for

- (A) Elementary Education
(B) Secondary Education
(C) Higher Secondary Education
(D) Higher Education

சர்வ சிக்ஷா அபியான் என்பது இந்தியாவின் ---
----- க்கான திட்டம்

- (A) ஆரம்பக் கல்வி
(B) இடைநிலைக் கல்வி
(C) மேல்நிலைக் கல்வி
(D) உயர்கல்வி

86. CSIR stands for

- (A) Council of space and Industrial Research



TNPSC

General Knowledge

(B) Council of Scientific and Industrial Research

(C) Commission of Space and Industrial Research

(D) Commission of Scientific and industrial Research

CSIR ன் விரிவாக்கம்

(A) Council of space and Industrial Research

(B) Council of Scientific and Industrial Research

(C) Commission of Space and Industrial Research

(D) Commission of Scientific and industrial Research

87. Which one of the following is the second largest Indian state in geographical area?

(A) Maharashtra (B) Meghalaya

(C) Madhya Pradesh (D) Uttar Pradesh

கீழ்க்கண்டவற்றில் எந்த இந்திய மாநிலம் நில பரப்பளவில் இரண்டாமிடத்தில் உள்ளது?

(A) மஹாராஷ்டிரா (B) மேகாலயா

(C) மத்திய பிரதேசம் (D) உத்திரபிரதேசம்

88. Pancharatna Kirtanas were the compositions of which composer?

(A) Muthusamy Dikshitar

(B) Shyams Shastri

(C) Balusami Dikshitar

(D) Thyagaraja

பஞ்சரத்ன கீர்த்தனைகளை உருவாக்கியவர் யார்?

(A) முத்துசாமி தீட்சிதர்

(B) சியாமா சாஸ்திரிகள்

(C) பாலுசாமி தீட்சிதர்

(D) தியாகராஜர்

89. Who founded the Theosophical society?

(A) Dr. Rukmani Devi

(B) Dr. Muthulakshmi

(C) Dr. Annie Besant

(D) Dr. Rukmani Arundale

தியோசாபிக்கல்

சொசைட்டியை

தோற்றுவித்தவர் யார்?

(A) டாக்டர் ருக்மணி தேவி

(B) டாக்டர் முத்துலட்சுமி

(C) டாக்டர் அன்னிபெசண்ட்

(D) டாக்டர் ருக்மணி அருண்டேல்

90. Match list I with list II correctly and select your answer using the codes given below

List I

List II

(A) Salar Jang Museum 1. Rajasthan

(B) Sunderban 2. Tamil Nadu

(C) Mundanthurai 3. Andhra Pradesh

(D) Ranthambore 4. West Bengal

National park

Codes

பட்டியல் I ஐ பட்டியல் II உடன் பொருத்தி கீழே கொடுக்கப்பட்டுள்ள குறியீடுகளைக் கொண்டு

சரியான விடையைத் தேர்ந்தெடு:

பட்டியல் I

பட்டியல் II

(A) சாலார் ஜங் 1. ராஜஸ்தான்

அருட்காட்சியகம்

(B) சுந்தரவனக் காடுகள் 2. தமிழ்நாடு

(C) முண்டான் துறை 3. ஆந்திர பிரதேசம்

(D) ரான்தம்பூர் தேசிய

பூங்கா

4. மேற்கு வங்காளம்

a b c d

A 3 4 2 1

B 4 3 1 2



TNPSC

General Knowledge

C 1 2 3 4
D 3 1 2 4

(C) I, II, III & IV (D) II, I, III & IV

91. Which one of the following is wrongly

Matched ?

- (A) Indian Institute of Public Administration
- New Delhi
- (B) Lal Bahadur Shastri national academy of
administration - Mussorie
- (C) V.V. Giri national labour institute
- Noida
- (D) Saha institute of nuclear physics
- Bangalore

கீழ்க்கண்டவற்றுள் எது சரியாக
பொருத்தப்படவில்லை?

- (A) Indian Institute of Public Administration
- புது டெல்லி
- (B) Lal Bahadur Shastri national academy of
administration - முசெனரி
- (C) V.V. Giri national labour institute
- நொய்டா
- (D) Saha institute of nuclear physics
- பெங்களூர்

92. Arrange the following Chief Commissioner
of India in Chronological order :

I.N. Gopaldaswamy

II.B.B Tandon

III.S.Y. Quraishi

IV.Navin Chawla

Of these

- (A) II, I, IV & III (B) III, IV, II & I
(C) I, II, III & IV (D) II, I, III & IV

கீழ்க்கண்ட இந்திய முதன்மை தேர்தல்

ஆணையர்களை கால வரிசைப்படுத்துக:

- (A) N. கோபால்சாமி (B) B.B டான்டன்
(C) S. Y. குரைசி (D) நவீன் சாவ்லா

இவற்றுள்

- (A) II, I, IV & III (B) III, IV, II & I

93. Find the odd man out :

(A) Kathak (B) Manipuri

(C) Kuchipudi (D) Dandia

கீழ்க்கண்டவற்றுள் பொருந்தாத ஒன்றை
கண்டுபிடி:

(A) கதக் (B) மணிப்பூரி

(C) குச்சுபடி (D) டாண்டியா

94. Mamata Banerjee was sworn in as.....
chief minister of west bengal

(A) 10th (B) 11th (C) 12th (D) 13th

மேற்கு வங்கத்தின்..... முதல்வராக மம்மா
பானர்ஜி பதவியேற்றார்.

(A) 10th (B) 11th (C) 12th (D) 13th

95. Which one of the following organizations is
not involved in Scientific and Technological
activities in India?

(A) ICMR (B) CSIR (C) FTIR (D) ICAR

கீழ்வருவனவற்றில் எந்த நிறுவனம் இந்தியாவில்
அறிவியல் மற்றும் தொழில்நுட்ப

செயல்பாடுகளில் ஈடுபடுவதில்லை?

(A) ICMR (B) CSIR (C) FTIR (D) ICAR

96. Which of the following states is rich in
copper ore?

(A) Kerala (B) Rajasthan

(C) Sikkim (D) Tamil Nadu

97. Which one of the following is not an
objective of Sarava Shiksha Abhiyan (SSA)?

(A) Provide useful elementary education for
all children in the 6 to 14 age group



TNPSC

General Knowledge

- (B) Encourage environment of girls and teacher training
- (C) Achieve significant enhancement in learning levels of children
- (D) To encourage the learning - cum - earning process

கீழ்க்கண்டவற்றில் எது அனைவருக்கும் கல்வி திட்டத்தில் குறிக்கோள் அல்ல?

- (A) 6 முதல் 14 வயது வரை உள்ள குழந்தைகளுக்கு பயனுள்ள தொடக்கக் கல்வியை அளிப்பது.
- (B) பெண்களின் ஈடுபாடு மற்றும் ஆசிரியர் பயிற்சியினை ஊக்குவிப்பது.
- (C) குழந்தைகளின் கற்றல் திறனை மேம்படுத்துவது
- (D) கற்றலின் போதே வருவாய் ஈட்டுதலை ஊக்குவிப்பது.

(A) 1990-1991 (B) 1991-1992

(C) 1992-1993 (D) 1993-1994

யானைகள் பாதுகாப்பு திட்டம் இந்திய அரசால் எப்பொழுது தொடங்கப்பட்டது?

(A) 1990-1991 (B) 1991-1992

(C) 1992-1993 (D) 1993-1994

100. Centre for wind Energy Technology (C-WET) is situated at

(A) Chennai

(B) Mumbai

(C) Vishakhapatnam

(D) Thiruvananthapuram

காற்று ஆற்றல் தொழில்நுட்ப மையம் (C-WET) எங்கு அமைந்துள்ளது?

(A) சென்னை

(B) மும்பை

(C) விசாகப்பட்டினம்

(D) திருவனந்தபுரம்

98. In India pre - Natal Female Foeticide Prevention Act was implemented from

(A) 1st March 1994

(B) 1st January, 1994

(C) 1st January 1996

(D) 1st March 1995

இந்தியாவில் பிறப்பிற்கு முன்பே பெண் கருவை கண்டறிந்து கொல்வதை தடைசெய்யும் சட்டம் எப்பொழுது நடைமுறைப்படுத்தப்பட்டது?

(A) 1st மார்ச் 1994

(B) 1st January, 1994

(C) 1st January 1996

(D) 1st March 1995

99. Project Elephant (PE) was launched by the Government of India in the years



TNPSC

General Tamil

1	2	3	4	5	6	7	8	9	10
A	A	C	A	D	A	C	B	A	D
11	12	13	14	15	16	17	18	19	20
D	C	C	A	A	C	A	C	D	A
21	22	23	24	25	26	27	28	29	30
B	C	C	A	D	A	B	D	C	D
31	32	33	34	35	36	37	38	39	40
D	D	C	B	A	C	B	C	D	C
41	42	43	44	45	46	47	48	49	50
C	C	A	A	D	B	D	C	A	C
51	52	53	54	55	56	57	58	59	60
D	D	D	B	A	B	B	D	D	A
61	62	63	64	65	66	67	68	69	70
A	B	D	B	A	D	A	B	A	A
71	72	73	74	75	76	77	78	79	80
A	C	C	B	D	C	D	B	D	C
81	82	83	84	85	86	87	88	89	90
B	C	B	B	B	A	C	B	C	B
91	92	93	94	95	96	97	98	99	100
B	D	C	B	C	C	B	A	D	B



TNPSC

GENERAL ENGLISH

101	102	103	104	105	106	107	108	109	110
A	B	B	B	C	A	A	B	C	A
111	112	113	114	115	116	117	118	119	120
D	A	C	A	A	A	A	B	A	D
121	122	123	124	125	126	127	128	129	130
B	D	A	C	C	C	B	C	A	D
131	132	133	134	135	136	137	138	139	140
A	A	C	B	A	C	C	C	C	B
141	142	143	144	145	146	147	148	149	150
A	D	B	B	C	B	C	B	C	B
151	152	153	154	155	156	157	158	159	160
C	C	A	B	A	B	D	B	A	D
161	162	163	164	165	166	167	168	169	170
B	B	A	A	A	C	D	B	A	A
171	172	173	174	175	176	177	178	179	180
C	D	B	A	A	D	C	C	D	D
181	182	183	184	185	186	187	188	189	190
C	B	C	B	D	B	B	B	C	B
191	192	193	194	195	196	197	198	199	200
A	A	C	A	A	D	C	D	C	A



TNPSC

GENERAL KNOWLEDGE

1	2	3	4	5	6	7	8	9	10
A	B	B	A	C	B	B	B	A	A
11	12	13	14	15	16	17	18	19	20
C	B	A	A	A	C	C	B	B	D
21	22	23	24	25	26	27	28	29	30
B	A	B	B	B	D	C	D	C	C
31	32	33	34	35	36	37	38	39	40
B	C	B	B	C	D	C	D	B	C
41	42	43	44	45	46	47	48	49	50
C	D	B	B	A	D	B	A	B	C
51	52	53	54	55	56	57	58	59	60
D	C	B	C	C	B	D	A	D	A
61	62	63	64	65	66	67	68	69	70
D	C	C	D	B	B	C	C	D	D
71	72	73	74	75	76	77	78	79	80
B	A	C	A	C	C	B	D	B	B
81	82	83	84	85	86	87	88	89	90
A	A	B	A	A	B	C	D	C	A
91	92	93	94	95	96	97	98	99	100
D	A	D	B	C	B	D	C	B	A