



TNPSC

VAO - General Science - 2014

1. The average age of 50 students in 10th std class is 15 years. 10 more students are admitted afresh in the class and the average age is increased by 0.5 years. The average age of the newly joined students is
(A) 15 (B) 16 (C) 17 (D) 18
- 10-ம் வகுப்பு மாணாக்கர்களின் 50 பேரின் சராசரி அகவை 15 ஆகும். 10 மாணாக்கர்கள் புதிதாக சேர்க்கப்பட்ட பின் சராசரி அகவை 0.5 ஆண்டு அதிகரித்தது. புதிதாக சேர்க்கப்பட்ட மாணாக்கர்களின் சராசரி அகவை
(A) 15 (B) 16 (C) 17 (D) 18

2. What percentage of students does not like computer science?

Subject	No. of students
Mathematics	6
Physics	12
Chemistry	15
Biology	8
Computer Science	9

- (A) 91% (B) 9% (C) 82% (D) 18%
- எத்தனை சதவீத மாணவர்கள் கணினியியலை விரும்பவில்லை?

பாடம்	மாணவர்களின் எண்ணிக்கை
கணிதம்	6
இயற்பியல்	12
வேதியியல்	15
உயிரியல்	8
கணினியியல்	9

- (A) 91% (B) 9% (C) 82% (D) 18%

3. If the simple interest for an amount at 4% per annum for 3 years is Rs. 1,200. Find the

compound interest at the same rate for the same amount for 2 years.

- (A) Rs. 10, 116 (B) Rs. 10, 720
(C) Rs. 10, 616 (D) Rs. 816

ஒரு குறிப்பிட்ட தொகைக்கு 3 வருடத்தில் 4% வட்டி வீதத்தில் ரூ. 1,200 தனிவட்டி கிடைக்கிறது. அதே தொகைக்கு அதே வட்டி வீதத்தில் 2 வருடத்தில் கிடைக்கும் கூட்டு வட்டி யாது?

- (A) ரூ. 10, 116 (B) ரூ. 10, 720
(C) ரூ. 10, 616 (D) ரூ. 816

4. Which of the following is/are true?

(i) $ax = bx \Rightarrow a = b$

(ii) $\frac{x}{a} = \frac{x}{b} \Rightarrow a = b$

(iii) $a = b \Rightarrow ax = bx$

(iv) $a + x = b + x \Rightarrow a = b$

- (A) (i), (ii), (iii) and (iv)
(B) (i), (iii) and (iv) only
(C) (i) and (iv) only
(D) (iii) and (iv) only

கீழ்க்கண்டவற்றில் எது/எவை சரி?

(i) $ax = bx \Rightarrow a = b$

(ii) $\frac{x}{a} = \frac{x}{b} \Rightarrow a = b$

(iii) $a = b \Rightarrow ax = bx$

(iv) $a + x = b + x \Rightarrow a = b$

- (A) (i), (ii), (iii) மற்றும் (iv)
(B) (i), (iii) மற்றும் (iv) மட்டும்
(C) (i) மற்றும் (iv) மட்டும்
(D) (iii) மற்றும் (iv) மட்டும்

5. Two dice are thrown simultancously. The probability of getting a doublet is

- (A) $\frac{1}{36}$ (B) $\frac{1}{3}$ (C) $\frac{1}{6}$ (D) $\frac{2}{3}$



TNPSC

VAO - General Science - 2014

ஒரே நேரத்தில் இரு பகடைகள் உருட்டப்படுகின்றன. பகடையின் இரண்டு முகங்களிலும் ஒரே எண்ணாக இருக்க நிகழ்தகவு

- (A) $\frac{1}{36}$ (B) $\frac{1}{3}$ (C) $\frac{1}{6}$ (D) $\frac{2}{3}$

6. The mean of the first n natural numbers

(A) $\frac{n(n+1)}{2}$ (B) $\frac{n(n+1)(2n+1)}{2}$

(C) $\frac{n+1}{2}$ (D) n^2

முதல் 'n' இயல் எண்களின் சராசரி

(A) $\frac{n(n+1)}{2}$ (B) $\frac{n(n+1)(2n+1)}{2}$

(C) $\frac{n+1}{2}$ (D) n^2

7. In a set of first 'x' natural numners ther 30 prime number. Find the number of composite numbers in the above set.

- (A) $x - 30$ (B) $30 - x$
(C) $x - 29$ (D) $x - 31$

முதல் 'x' இயல் எண்களைக் கொண்ட கணத்தில் 30 பகா எண்கள் உள்ளன. மேற்கண்ட கணத்தில் உள்ள பகு எண்களின் எண்ணிக்கையைக் காண.

- (A) $x - 30$ (B) $30 - x$
(C) $x - 29$ (D) $x - 31$

8. If '+' means 'x', '-' means '+', 'x' means '+' and '+' means '-' then the value of $84 \times 28 + 8 \div 10 - 9 =$

- (A) 23 (B) 22
(C) 30 (D) 26

'+' என்றால் 'x', '-' என்றால் '+', 'x' என்றால் '+' மற்றும் '-' என்றால் '-' எனில் $84 \times 28 + 8 \div 10 - 9$ ன் மதிப்பு

- (A) 23 (B) 22
(C) 30 (D) 26

9. Consider the following statements.

- I. The sun is a medium sized star
II. It is about two billion years old
III. It consist of almost entirely of hydrogen and helium

Which of the statements given above is/are correct?

- (A) I only (B) I and II
(C) I and III (D) I, II and III

கொடுக்கப்பட்டுள்ள வாக்கியங்களை கவனி.

- I. சூரியன் நடுத்தர அளவு கொண்ட நட்சத்திரம்
II. ஏறக்குறைய இரண்டு பில்லியன் ஆண்டுகள் வயது கொண்டது
III. சூரியனில் ஹைட்ரஜன் மற்றும் ஹீலியம் வாயுக்கள் பெருமளவில் காணப்படுகின்றன

மேலே கொடுக்கப்பட்டுள்ள வாக்கியங்களில் சரியான வாக்கியம்/வாக்கியங்கள் யாவை?

- (A) I மட்டும் (B) I மற்றும் II
(C) I மற்றும் III (D) I, II மற்றும் III

10. Consider the following statements.

I. Forests grow lush in areas where there are conditions such as high temperature, low rainfall and fertile soils.

II. Forests grow lush in areas where there are conditions such as high temperature and heavy rainfall throughout the year and fertile soils.

Which of the statements given above is/are correct?

- (A) I only (B) II only
(C) I and II only (D) I and II are wrong

**TNPSC****VAO - General Science - 2014**

கொடுக்கப்பட்டுள்ள வாக்கியங்களை கவனி.

- I. தாவர வளர்ச்சிக்கு ஆதாரமாக அமைபவை அதிக வெப்பம், குறைந்த மழைப் பொழிவு, சத்தான மண் ஆகியவையாகும்
- II. தாவர வளர்ச்சிக்கு ஆதாரமாக அமைபவை அதிக வெப்பம், அதிக மழைப் பொழிவு சத்தான மண் ஆகியவையாகும்
- மேலே கொடுக்கப்பட்ட சொற்றொடரில் சரியான விடையை தேர்ந்தெடு.
- (A) I மட்டும் (B) II மட்டும்
(C) I, II மட்டும் (D) I மற்றும் II தவறு

- C. Nictolopia, Rickets, Scurvy 3. Deficiency of Hormones
- D. Malaria, Filaria, Influenza 4. Genetic disorder
- | | A | B | C | D |
|-----|---|---|---|---|
| (A) | 4 | 3 | 1 | 2 |
| (B) | 3 | 2 | 4 | 1 |
| (C) | 4 | 3 | 2 | 1 |
| (D) | 1 | 2 | 3 | 4 |
- சரியான விடைகளை பொருத்துக.

- A. ஹீமோபிலியா, அல்பினிசம், தலாசீமியா 1. கடத்திகள் மூலம் பரவும் நோய்கள்
- B. சர்க்கரைநோய், மலட்டுத்தன்மை, உடல் பருமன் 2. ஊட்டச்சத்து குறைபாட்டினால் ஏற்படும் நோய்கள்
- C. நிக்டோலோபியா, ரிக்கட்ஸ், ஸ்கர்வி 3. ஹார்மோன் குறைவினால் ஏற்படும் நோய்கள்
- D. மலேரியா, பைலேரியா, இன்புளுயன்சா 4. மரபியல் குறைபாட்டினால் ஏற்படும் நோய்கள்

- | | A | B | C | D |
|-----|---|---|---|---|
| (A) | 4 | 3 | 1 | 2 |
| (B) | 3 | 2 | 4 | 1 |
| (C) | 4 | 3 | 2 | 1 |
| (D) | 1 | 2 | 3 | 4 |

14. Example of Rodenticides

- (A) DAP (B) Zine phosphate
(C) Arsenic (D) (B) and (C)

11. In Tamilnadu MRTS is seen in

- (A) Trichy (B) Salem
(C) Chennai (D) Thanjavur
- தமிழ்நாட்டில் எம்.ஆர்.டி.எஸ். முறை எங்கு அமைந்துள்ளது?
- (A) திருச்சி (B) சேலம்
(C) சென்னை (D) தஞ்சாவூர்

12. In Tamil Nadu Sanctuary for Peacock is located at

- (A) Madurai (B) Puthukottai
(C) Viralmalai (D) Tanjore
- தமிழகத்தில் மயில்களுக்கான சரணாலயம் அமைந்துள்ள இடம்
- (A) மதுரை (B) புதுக்கோட்டை
(C) விராலிமலை (D) தஞ்சாவூர்

13. Match the correct answers :

- A. Haemophilia, Albinism, Thalassimia 1. Vector borne diseases
- B. Diabetes, Sterility, Obesity 2. Deficiency of nutrients

**TNPSC****VAO - General Science - 2014**

எலிக்கொல்லி என்பவை

- (A) DAP (B) துத்தநாக பாஸ்பேட்
(C) ஆர்செனிக் (D) (B) மற்றும் (C)

15. Egg beaters and drilling machines have long handles because

- I. It is easy to use
II. A larger force applied at the handle results in large turning effect
III. A smaller force applied at the handle results in large turning effect

- (A) I is correct
(B) III is correct
(C) Both I and III is correct
(D) II is correct

முட்டை அடிக்கும் கருவி மற்றும் துளை போடும் கருவிகளின் பிடி நீளமாக இருக்கக் காரணம்

- I. பயன்படுத்துவது எளிது
II. அதிகமான விசை பிடியில் செயல்படும் பொழுது திருப்பு விளைவு அதிகரிக்கின்றது
III. சிறு விசை பிடியில் செயல்படும் பொழுது திருப்பு விளைவு அதிகரிக்கின்றது
- (A) I சரியானது (B) III சரியானது
(C) I மற்றும் III சரி (D) II சரியானது

16. Refractive index of a diamond is 2.42. Its meaning with respect to velocity of light is

- I. Velocity of light in diamond is more than the velocity of light in air
II. Velocity of light in diamond is less than the velocity of light in air
III. Velocity of light in diamond and air is one and the same
IV. Velocity of light in air is more than the velocity of light in diamond

- (A) I and IV is correct
(B) III alone is correct
(C) II and IV is correct
(D) I alone is correct

வைரத்தின் ஒளிவிலகல் எண் 2.42 ஒளியின் திசைவேகத்தைப் பொருத்து இச்சொற்றொடரின் பொருள் யாது?

- I. ஒளியானது காற்றை விட, வைரத்தில் அதிக திசைவேகத்தில் செல்கிறது
II. ஒளியானது காற்றை விட, வைரத்தில் குறைந்த திசைவேகத்தில் செல்கிறது
III. காற்று மற்றும் வைரம் இரண்டிலும் ஒளியின் திசைவேகம் சமம்
IV. ஒளியானது வைரத்தை விட காற்றில் அதிக திசைவேகத்துடன் செல்கிறது
- (A) I மட்டும் IV சரி (B) III மட்டும் சரி
(C) II மட்டும் IV சரி (D) I மட்டும் சரி

17. With reference to the meaning of index number in statistics consider the following statements

- I. An index number is a statistical tool used to measure changes over time and to interpret economic figures
II. Index numbers are values expressed as a percentage of single base figures

Which of the statements given above is/are correct?

- (A) I statement only
(B) II statement only
(C) Both I and II statements
(D) Neither I nor II statement

புள்ளியியலில், குறியீட்டெண்களின் பொருள் விளக்கும் இரு கூற்றுக்களை பரிசீலனை செய்ய்க.

- I. குறியீட்டெண்கள் என்பது காலங்களுக்கிடையே ஏற்படும் மாற்றங்களை அளவிடவும் பொருளியல் விவரங்களுக்கு விளக்கம் அளிக்கவும் பயன்படும் கருவியாகும்

**TNPSC****VAO - General Science - 2014**

II. குறியீட்டெண்கள், மதிப்பினை சதவீதத்தில் குறிப்பிடும் ஒரு ஒற்றை விகிதமே ஆகும்

மேலே குறிப்பிட்டுள்ள கூற்றுகளில் எது சரி என குறிப்பிடுக.

- (A) I கூற்று மட்டும்
(B) II கூற்று மட்டும்
(C) I மற்றும் II வது கூற்றுகள்
(D) I-ம் அல்ல II-ம் அல்ல (கூற்றுகள்)

18. Inflation denotes the following situation :

- (A) price level rises - money value falls
(B) price level rises - money value rises
(C) price level falls - money value falls
(D) price level falls - money value rises

பணவீக்கம் என்பது கீழ்க்கண்ட நிலையைக் குறிக்கும் :

- (A) விலைவாசி உயர்வும் - பணத்தின் மதிப்பு வீழ்ச்சியும்
(B) விலைவாசி உயர்வும் - பணத்தின் மதிப்பு உயர்வும்
(C) விலைவாசி வீழ்ச்சியும் - பணத்தின் மதிப்பு வீழ்ச்சியும்
(D) விலைவாசி வீழ்ச்சியும் - பணத்தின் மதிப்பு உயர்வும்

19. Consider the following statements and identify which one is not correct?

Inflation can be checked by some of the following measures :- Select the incorrect measure :-

- (A) increased taxation
(B) increasing government expenditure
(C) restrictions on imports
(D) rationing

கீழ்க்கண்டவற்றுள் எது சரியல்ல என தீர்மானிக்க பணவீக்கத்தைக் கட்டுப்படுத்த

மேற் கொள்ளப்படும் நடவடிக்கைகள் கொடுக்கப்பட்டுள்ளன எது தவறு?

- (A) வரி விதிப்பை அதிகப்படுத்துதல்
(B) அரசின் செலவினத்தை அதிகரித்தல்
(C) இறக்குமதியில் கட்டுப்பாடுகள் விதித்தல்
(D) பொதுப் பங்கீடு

20. "The queen of drugs" refers to

- (A) penicillin (B) streptomycin
(C) aureomycin (D) chloromycitin

"மருந்துகளின் அரசி" என்றழைக்கப்படுவது?

- (A) பெனிசிலின்
(B) ஸ்ட்ரப்டோமைசின்
(C) ஆரியோமைசிடின்
(D) குளோரோமைசிடின்

21. Arrange the stages of respiration in a logic way.

- I. Electron transport chain
II. Glycolysis
III. Krebs's cycle
IV. Oxidative decarboxylation of pyruvic acid

- (A) I, II, III, IV (B) II, IV, III, I
(C) I, II, IV, III (D) III, IV, II, I

சுவாசித்தலின் தொடர் நிகழ்வினை சரியாக வரிசைப்படுத்தவும்.

- I. எலக்ட்ரான் கடத்து சங்கிலி
II. கிளைகாலிஸிஸ்
III. கிரப்ஸ் சுழற்சி
IV. பைருவிக் அமில ஆக்ஸிஜனேற்ற கார்பன் நீக்கம்

- (A) I, II, III, IV (B) II, IV, III, I
(C) I, II, IV, III (D) III, IV, II, I

22. In which country 5th BRICS summit was held?

**TNPSC****VAO - General Science - 2014**

- (A) Russia (B) Brazil
(C) India (D) South Africa

5வது BRICS உச்சிமாநாடு எந்த நாட்டில் நடைபெற்றது?

- (A) ரஷ்யா (B) பிரேசில்
(C) இந்தியா (D) தென் அமெரிக்கா

23. Name the 27th State of Indian Union

- (A) Jharkhand (B) Uttarakhand
(C) Chhattisgarh (D) Telangana

இந்திய யூனியனின் 27^{ஆம்} மாநிலத்தின் பெயர்

- (A) ஜார்க்கண்ட் (B) உத்தரகாண்ட்
(C) சத்தீஸ்கர் (D) தெலுங்கானா

24. The untraceable Malaysian Aeroplane is

- (A) MH 370 (B) MA 730
(C) MF 700 (D) MJ 703

கண்டறிய இயலாத மலேசிய விமானம்

- (A) MH 370 (B) MA 730
(C) MF 700 (D) MJ 703

25. Which article of the Indian constitution deals with Right to Education?

- (A) Art. 20 (A) (B) Art. 21 (A)
(C) Art. 19 (A) (D) Art. 22 (A)

இந்திய அரசியலமைப்பு சட்டத்தில் உள்ள எந்த அரசியலமைப்பு சட்டம் அடிப்படை கல்வி உரிமையை விவாதிக்கின்றது?

- (A) Art. 20 (A) (B) Art. 21 (A)
(C) Art. 19 (A) (D) Art. 22 (A)

26. World's most powerful telescope ALMA becomes operational on March 2013 in

- (A) China (B) Chile
(C) New York (D) London

உலகின் மிக அதிகத் திறனுடைய அல்மா தொலைநோக்கி மார்ச் 2013 இங்கு செயல்படத் தொடங்கியது

- (A) சைனா (B) சிலி
(C) நியூ யார்க் (D) லண்டன்

27. How many languages are there in Eighth Schedule of Indian Constitution?

- (A) 18 (B) 20 (C) 22 (D) 24

இந்திய அரசியலமைப்பு சட்டத்தில் எட்டாவது அட்டவணையில் எத்தனை மொழிகள் உள்ளன?

- (A) 18 (B) 20 (C) 22 (D) 24

28. Who is known as "Desert Fox"?

- (A) Erwin Rommel (B) Bhagat Singh
(C) Adolf Hitler (D) Benito Mussolini

"பாலைவன நரி" என்று அழைக்கப்படுபவர் யார்?

- (A) எர்வின் ரோமல்
(B) பகத் சிங்
(C) அடால்ட் ஹிட்லர்
(D) பெனிடோ முஸோலினி

29. The first political philosopher who separated and differentiated civil society from state

- (A) G.W.F. Hegel (B) Karl Mark
(C) Fredrick Engels (D) Antonio Gramsci

குடிமைச் சமூகத்தினை, அரசிடமிருந்து பிரித்து முதலில் வேறுபடுத்திய அரசியல் சிந்தனையாளர்

- (A) G.W.F. ஹீகல்
(B) காரல் மார்க்ஸ்
(C) பிரடரிக் ஏங்கல்ஸ்
(D) ஆண்டோனியோ கிராம்ஸ்கி

30. Money Bills can be delayed by the Rajya Sabha only for

- (A) 30 days (B) 15 days
(C) 20 days (D) 14 days

**TNPSC****VAO - General Science - 2014**

நிதி மசோதாக்கள் மாநில அவையினால் எத்தனை நாட்கள் மட்டும் தாமதப்படுத்தலாம்?

- (A) 30 நாட்கள் (B) 15 நாட்கள்
(C) 20 நாட்கள் (D) 14 நாட்கள்

31. Usually the population of Corporation is

- (A) 5 lakhs (B) 7 lakhs
(C) 8 lakhs (D) 10 lakhs

சாதாரணமாக ஒரு மாநகராட்சியின் மக்கள்தொகை

- (A) 5 லட்சம் (B) 7 லட்சம்
(C) 8 லட்சம் (D) 10 லட்சம்

32. The Election Commissioners are appointed by the

- (A) Prime Minister (B) Governor
(C) President of India

(D) Council of Ministers
தேர்தல் ஆணையர்கள் இவரால் நியமிக்கப்படுகின்றனர்

- (A) பிரதம அமைச்சர் (B) ஆளுநர்
(C) இந்தியக் குடியரசுத் தலைவர்
(D) அமைச்சரவைக் குழு

33. Consider the following :

Assertion (A) : After the Independence in 1947, the most immediate and important task before the Indian leaders are two in number.

Reason (R) : One is the removal of poverty, secondly progress of education among the masses.

Now select your answer according to the coding scheme given below :

- (A) Both (A) and (R) are true and (R) is the correct explanation of (A)

(B) Both (A) and (R) are true, but (R) is not the correct explanation of (A)

(C) (A) is true, but (R) is false

(D) (A) is false, but (R) is true

கீழ்க்கண்ட வாக்கியங்களைக் கவனி :

கூற்று (A) : 1947 -ல் இந்தியா விடுதலை அடைந்ததும் இந்தியத் தலைவர்கள் ஆற்ற வேண்டியிருந்த அவசரப் பணிகள் இரண்டு.

காரணம் (R) : ஒன்று வறுமையை ஒழிப்பது, இரண்டு கல்வியைப் பரப்புவது.

இவற்றுள் சரியான விடையை தேர்ந்தெடுத்து எழுது.

(A) (A) மற்றும் (R) இரண்டும் சரி, மேலும் (R) என்பது (A)-விற்கு சரியான விளக்கமாகும்

(B) (A) மற்றும் (R) இரண்டும் சரி, மேலும் (R) என்பது (A)-விற்கு சரியான விளக்கமல்ல

(C) (A) சரி, ஆனால் (R) தவறு

(D) (A) தவறு, ஆனால் (R) சரி

34. Which period is called the era of Gandhiji?

- (A) 1885 - 1905 (B) 1905 - 1918
(C) 1920 - 1947 (D) 1935 - 1947

காந்தி சகாப்தம் என்று அழைக்கப்படும் காலம்

- (A) 1885 - 1905 (B) 1905 - 1918
(C) 1920 - 1947 (D) 1935 - 1947

35. Consider the following :

Assertion (A) : In the first half of the 19th century revolutionary groups sprang up mainly in Bengal, Maharastra, Punjab and Madras.

Reason (R) : The revolutionaries were not satisfied with the methods of both the moderates and extremists.

Now select your answer according to the coding scheme given below:

**TNPSC****VAO - General Science - 2014**

(A) Both (A) and (R) are true and (R) is the correct explanation of (A)

(B) Both (A) and (R) are true, but (R) is not the correct explanation of (A)

(C) (A) is true; but (R) is false

(D) (A) is false; but (R) is true

கீழ்க்கண்ட வாக்கியங்களைக் கவனி :

கூற்று (A) : 19-ம் நூற்றாண்டின் முற்பகுதியில் வங்காளம் மகாராஷ்டிரம் பஞ்சாப் மற்றும் சென்னை ஆகிய பகுதிகளில் புரட்சிவாத குழுக்கள் தோன்றின.

காரணம் (R) : மிதவாத, தீவிரவாத கொள்கைகள் இரண்டிலுமே இவர்களுக்கு உடன்பாடு இல்லை.

இவற்றுள் சரியான விடையைத் தேர்ந்தெடுத்து எழுது :

(A) (A) மற்றும் (R) சரியானது. மேலும் (R) என்பது (A)-விற்கு சரியான விளக்கம்

(B) (A) மற்றும் (R) சரியானது. ஆனால் (R) என்பது (A)-விற்கு சரியான விளக்கமல்ல

(C) (A) சரி, ஆனால் (R) தவறு

(D) (A) தவறு, ஆனால் (R) சரி

36. Consider the following statements :

Assertion (A) : In August 1942 the Indian National Congress adopted the Quit India Resolution.

Reason (R) : The Cripps Mission proposals held promises for the future with no immediate concessions.

Now select your answer according to the coding scheme given below :

(A) Both (A) and (R) are true and (R) is not the correct explanation of (A)

(B) Both (A) and (R) are true, and (R) is the correct explanation of (A)

(C) (A) is true, (R) is false

(D) (A) is false, (R) is true

கீழ்க்கண்ட வாக்கியங்களைக் கவனி :

கூற்று (A) : 1942-ஆம் ஆண்டு ஆகஸ்டில் அகில இந்திய காங்கிரஸ் கமிட்டி கூடி 'வெள்ளையனே வெளியேறு' தீர்மானத்தை நிறைவேற்றியது.

காரணம் (R) : கிரிப்ஸ் தூதுக் குழுவின் பரிந்துரைகளில் உடனடியான சலுகைகள் எதுவும் இல்லை

இவற்றுள் சரியான விடையைத் தேர்ந்தெடுக்க:

(A) (A) மற்றும் (R) இரண்டும் சரி ஆனால் (R) என்பது (A)-விற்கு சரியான விளக்கமல்ல

(B) (A) மற்றும் (R) இரண்டும் சரி மேலும் (R) என்பது (A)-விற்கு சரியான விளக்கம்

(C) (A) சரி ஆனால் (R) தவறு

(D) (A) தவறு ஆனால் (R) சரி

37. Arrange the following statements in chronological order :

I. The first round table conference was held in London.

II. The non Co-operation movement was abruptly called off by Gandhiji, following the Chauri Chaura Incident.

III. The resignation of Congress Ministry was celebrated as Deliverance Day by Muslim League.

IV. The Cabinet Mission put forward a plan for solution of the Constitutional Problem.

(A) I, II, IV, III (B) II, I, III, IV

(C) III, I, II, IV (D) IV, III, I, II

கீழ்க்கண்ட வாக்கியங்களைக் கால வரிசைப்படுத்து :

I. முதல் வட்ட மேசை மாநாடு லண்டனில் நடைபெற்றது.

**TNPSC****VAO - General Science - 2014****TNPSC****VAO - General Science - 2014**

- II. ஒத்துழையாமை இயக்கத்தை செளரி செளரா நிகழ்ச்சியை தொடர்ந்து காந்தியடிகள் இடையிலேயே நிறுத்தி வைத்தார்.
- III. விடுதலை நாளாகக் கொண்டாடியது. காங்கிரசு அமைச்சரவைகள் பதவி விலகலை, முஸ்லீம் லீக
- IV. காபினட் தூது குழு இந்தியாவின் அரசியலமைப்பு சிக்கலுக்கு ஒரு தீர்வை முன் வைத்தது.

- (A) I, II, IV, III (B) II, I, III, IV
(C) III, I, II, IV (D) IV, III, I, II

38. Consider the following statement :

- I. As per Queen's Proclamation, Lord Canning announced the new Government at "Jahanabath" in 1858.
- II. The Queen's Proclamation called the "Magna Carta" of Indian people.

Which statement is/are correct?

- (A) I only (B) II only
(C) Both I and II (D) Neither I nor II

கீழ்க்கண்ட வாக்கியங்களை கவனி :

- I. பேரரசியின் அறிக்கையை 1858 "ஜஹானாபாத்" என்னுமிடத்தில் காணிங் பிரபு புதிய அரசாங்கத்தை முறைப்படி அறிவித்தார்.
- II. பேரரசியின் அறிக்கை இந்திய மக்களின் "மேக்னா கார்ட்டர்" என்று அழைக்கப்படுகிறது.

இவற்றில் எது/எவை சரி?

- (A) I மட்டும் (B) II மட்டும்
(C) I மற்றும் II (D) Iம் இல்லை IIம் இல்லை

39. Match List I with match List II correctly and select Ans.

- | | |
|-----------------------------|------------------------|
| List I | List II |
| A. Indian National Congress | 1. Moderates |
| B. Dadabhai Naoroji | 2. Indian Burke |
| C. Madan Mohan Malaviya | 3. Allan Octavian Hume |
| D. Surendranath Banerjee | 4. Grand old man |

- | | | | |
|----------|----------|----------|----------|
| A | B | C | D |
| (A) 3 | 2 | 4 | 1 |
| (B) 1 | 2 | 3 | 4 |
| (C) 3 | 4 | 1 | 2 |
| (D) 1 | 3 | 4 | 2 |

பட்டியல் I ஐ பட்டியல் II உடன் பொருத்தி சரியான விடையை தேர்ந்தெடு.

- | | |
|---------------------------|-------------------------|
| பட்டியல் I | பட்டியல் II |
| A. இந்திய தேசிய காங்கிரஸ் | 1. மிதவாதி |
| B. தாதாபாய் நௌரோஜி | 2. இந்தியாவின் பர்க் |
| C. மதன் மோகன் மாளவியா | 3. ஆலன் ஆக்லேவியன் ஹிம் |
| D. சுரேந்திரநாத் பாணர்ஜி | 4. முதுபெரும் மனிதர் |

- | | | | |
|----------|----------|----------|----------|
| A | B | C | D |
| (A) 3 | 2 | 4 | 1 |
| (B) 1 | 2 | 3 | 4 |
| (C) 3 | 4 | 1 | 2 |
| (D) 1 | 3 | 4 | 2 |

40. Consider the following :

Assertion (A) : The Revolt of 1857 ended an era and sowed the seeds of a new one.
Reason(R): Strengthen the British paramourty.

Now select your answer according to the coding scheme given below :

- (A) Both (A) and (R) are true and (R) is the correct explanation of (A)
(B) Both (A) and (R) are true, but (R) is not the correct explanation of (A)

(C) (A) is true, but (R) is false

(D) (A) is false, but (R) is true

கீழ்க்கண்ட வாக்கியங்களைக் கவனி :

கூற்று (A) : இந்திய வரலாற்றில் 1857 ஆம் ஆண்டு கலகம் ஒரு சகாப்தம் முடிந்து மற்றொன்று தொடங்கியதைக் குறிப்பிடுகிறது. காரணம் (R): பிரிட்டிஷரின் அடித்தளம் வலிமை பெற்றது.

இவற்றுள் சரியான விடையைத் தேர்ந்தெடுத்து எழுது.

- (A) (A) மற்றும் (R) இரண்டும் சரி. மேலும் (R) என்பது (A)-விற்கு சரியான விளக்கம்
(B) (A) மற்றும் (R) இரண்டும் சரி. மேலும் (R) என்பது (A)-விற்கு சரியான விளக்கமல்ல
(C) (A) சரி. ஆனால் (R) தவறு
(D) (A) தவறு. ஆனால் (R) சரி

41. Which one of the following is correctly matched?

- I. Indian Association - Nethaji
II. Drain Tehory - Dadhabai Naoroji
III. Servants of Indian Society - Mahatma Gandhi
IV. Abhinava Bharat - Feroze Shah Mehta

(A) I (B) II (C) III (D) IV
கீழ்க்கண்ட கூற்றுகளில் எது சரியாக பொருந்தியுள்ளது?

- I. இந்திய சங்கம் - நேதாஜி

II. செல்வ சுரண்டல் கோட்பாடு - தாதாபாய் நௌரோஜி

III. இந்திய பணியாளர் சங்கம் - மகாத்மா காந்தி

IV. அபிநவ பாரத் - பிரோஸ் ஷா மேத்தா

- (A) I (B) II (C) III (D) IV

42. Choose the best answer :

During the Great revolt of 1857 the Governor General of India was

- (A) Lord Lytton (B) Lord Ripon
(C) Lord Canning (D) Lord Wellesley

சரியான விடையைத் தேர்ந்தெடு :
1857 பெரும் புரட்சியின் போது இந்தியாவின் கவர்னர் ஜெனரலாக இருந்தவர்

- (A) லிட்டன் பிரபு (B) ரிப்பன் பிரபு
(C) கானிங் பிரபு (D) வெல்லெஸ்லி பிரபு

43. 'The Hindus and the Muslims are two eyes of the beautiful bird that was India'. Whose comment it was?

- (A) Jothi Bapule
(B) Sir Syed Ahmad Khan
(C) Nawab Salimullah
(D) Muhamad Ali Jinna

இந்துக்களும், முஸ்லீம்களும் இந்தியா என்கின்ற அழகிய பறவையின் இருகண்கள் என்று கூறியவர்

- (A) ஜோதிபாபுலே
(B) சர் சையது அகமதுகான்
(C) நவாப் சலிமுல்லா
(D) முகமது அலி ஜின்னா

**TNPSC****VAO - General Science - 2014**

44. Which one of the following pair is correctly matched?

Dynasties**Rulers**

- (A) Chera - Karikala
 (B) Chola - Simuka
 (C) Pandya - Nedunchezian
 (D) Satavahana - Senguttuvan

பின்வருவனவற்றுள் சரியாகப் பொருத்தப்பட்ட ஜோடி எது?

பேரரசுகள்**ஆட்சியாளர்கள்**

- (A) சேரர் - கரிகாலன்
 (B) சோழர் - சிமுகா
 (C) பாண்டியர் - நெடுஞ்செழியன்
 (D) சாதவாகனர் - செங்குட்டுவன்

45. Match List I with List II and select the correct answer using the codes given below the lists :

List I**List II**

- (A) Tamil Nadu Revenue Recovery Act
 1. 1969
 (B) Tamil Nadu Land Encroachment Act
 2. 1905
 (C) Registration of Birth and Death Act
 3. 2000
 (D) Tamil Nadu Birth and Death Registration Rule 4. 1864

(a) (b) (c) (d)

- (A) 3 1 2 4
 (B) 4 2 1 3
 (C) 4 1 3 2
 (D) 1 2 3 4

பட்டியல் I உடன் பட்டியல் II-ஐப் பொருத்தி பட்டியல்களுக்கு கீழே உள்ள தொகுப்பிலிருந்து சரியான விடையைத் தெரிவு செய்ய்க.

பட்டியல் I**பட்டியல் II**

- A. தமிழ்நாடு வருவாய் வகுல் சட்டம் 1. 1969
 B. தமிழ்நாடு ஆக்ரமணச் சட்டம் 2. 1905
 C. பிறப்புகள் (ம) இறப்புகள் பதிவு சட்டம் 3. 2000
 D. தமிழ்நாடு பிறப்புகள் (ம) இறப்புகள் பதிவு விதிகள் 4. 1864

A B C D

- (A) 3 1 2 4
 (B) 4 2 1 3
 (C) 4 1 3 2
 (D) 1 2 3 4

46. Marriage Assistance to the male members provided by which scheme?

- (A) Gold for Tali
 (B) Chief Minister Uzhavar Padhukappu
 (C) Priceless dhoti and saree scheme
 (D) Pudhu Vazhvu Thittam

ஆண்களுக்கான திருமண உதவி திட்டம் எந்த திட்டத்தின் கீழ் வழங்கப்படுகிறது?

- (A) தாலிக்கு தங்கம்
 (B) முதலமைச்சரின் உழவர் பாதுகாப்பு திட்டம்
 (C) விலையில்லா வேட்டி, சேலை வழங்கும் திட்டம்
 (D) புது வாழ்வு திட்டம்

47. The Government of India enacted the Disaster Management Act in _____ year.

- (A) 2005 (B) 2004
 (C) 2006 (D) 2009

இந்திய அரசாங்கம் பேரிடர் மேலாண்மை சட்டம் இயற்றப்பட்டது _____ வருடத்தில்

- (A) 2005 (B) 2004
 (C) 2006 (D) 2009

**TNPSC****VAO - General Science - 2014**

48. Who is the District Registrar of Birth and Death?

(A) District Collector

(B) District Revenue Officer

(C) District Supply Officer

(D) District Social Welfare Officer

மாவட்ட அளவில் பிறப்பு மற்றும் இறப்புகளை பதிவு செய்யும் அலுவலர் யார்?

(A) மாவட்ட ஆட்சியர்

(B) மாவட்ட வருவாய் அலுவலர்

(C) மாவட்ட வழங்கல் அலுவலர்

(D) மாவட்ட சமூக நல அலுவலர்

49. How many acres is one Hectare?

(A) 3.50 acre

(B) 2.47 acre

(C) 3.27 acre

(D) 2.57 acre

ஒரு ஹெக்டேர் என்பது எத்தனை ஏக்கர்?

(A) 3.50 ஏக்கர்

(B) 2.47 ஏக்கர்

(C) 3.27 ஏக்கர்

(D) 2.57 ஏக்கர்

50. In which year Direct Recruitment to the Village Administrative Officer post was come under the purview of Tamilnadu Public Service Commission?

(A) 1977 (B) 1980 (C) 1981 (D) 1983

எந்த ஆண்டு நேரடி நியமன கிராம நிர்வாக அலுவலர்கான தேர்வு, தமிழ்நாடு அரசு பணியாளர் தேர்வாணையம் வரையறைக்குள் கொண்டு வரப்பட்டது?

(A) 1977 (B) 1980 (C) 1981 (D) 1983

51. One hectare is equal to

(A) 10,000 square metres (B) 10 ares

(C) 2 acres (D) 100 cents

ஒரு ஹெக்டேர் என்பது _____ சமமானது

(A) 10,000 சதுர மீட்டர் (B) 10 ஏர்ஸ்

(C) 2 ஏக்கர் (D) 100 சென்ட்

52. Among the irrigation sources, water available from 5 to 8 months comes under which one of the following category?

(A) First class (B) Fourth class

(C) Fifth class (D) Third class

5 முதல் 8 மாதங்களுக்கு நீர் பெறக்கூடிய பாசன ஆதாரங்கள் கீழ்க்கண்டவற்றுள் எந்த வகுப்பின் கீழ் வகைப்படுத்தப்பட்டுள்ளது?

(A) முதல் வகுப்பு (B) நான்காம் வகுப்பு

(C) ஐந்தாம் வகுப்பு (D) மூன்றாம் வகுப்பு

53. Village account No 24 deals with

(A) Annual rainfall details

(B) Birth and death details

(C) Annual mines register

(D) Cattles register

கிராமக்கணக்கு எண் 24 எதனைப் பற்றியது?

(A) வருடாந்திர மழைக்கணக்கு

(B) பிறப்பு மற்றும் இறப்பு குறிப்புகள்

(C) கனிம வளத்தை பதியும் ஆண்டுப் பதிவேடு

(D) கால்நடைகள் பதிவேடு

54. The annual average rainfall to Tamilnadu is

(A) 979 mm (B) 969 mm

(C) 989 mm (D) 999 mm

தமிழ்நாட்டில் ஒரு ஆண்டின் சராசரி மழையளவு

(A) 979 மி.மீ. (B) 969 மி.மீ.

(C) 989 மி.மீ. (D) 999 மி.மீ.

55. A village statistical register should be prepared once in

(A) Every year (B) 2 years

(C) 5 years (D) 10 years

கிராம புள்ளி விவரப்பதிவேடு தயாரிக்கப்பட வேண்டியது



TNPSC

VAO - General Science - 2014

- (A) ஒவ்வொரு ஆண்டும்
(B) இரண்டாண்டுகளுக்கு ஒருமுறை
(C) ஐந்தாண்டுகளுக்கு ஒருமுறை
(D) பத்தாண்டுகளுக்கு ஒருமுறை

56. The Maximum period for granting lease of lands is (as per the RSO 24A)

- (A) 5 years (B) 4 Years
(C) 3 Years (D) 2 Years

RSO 24(A) - படி அரசு நிலங்களை குத்தகை விடுவதற்குரிய அதிகபட்சக் காலஅளவு

- (A) 5 ஆண்டுகள் (B) 4 ஆண்டுகள்
(C) 3 ஆண்டுகள் (D) 2 ஆண்டுகள்

57. Which one of the following is/are TRUE?

- I. Deserted women certificate shall be issued by Tahsildar.
II. Other Backward class certificate shall be issued by Revenue Divisional Officer.
III. Inter-Caste marriage certificate shall be issued by Tahsildar.

- (A) I and III (B) I only
(C) II only (D) III only

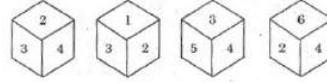
கீழ்க்கண்டவற்றுள் எது/எவை சரியானவை?

- I. கணவரால் கைவிடப்பட்டவர் சான்று வட்டாட்சியரால் வழங்கப்படுகிறது.
II. இதர பிற்படுத்தப்பட்ட வகுப்பினருக்கான சான்று வருவாய் கோட்டாட்சியரால் வழங்கப்படுகிறது.

III. கலப்புத் திருமண சான்று வட்டாட்சியரால் வழங்கப்படுகிறது.

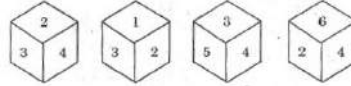
- (A) I மற்றும் III (B) I மட்டும்
(C) II மட்டும் (D) III மட்டும்

58. Which number comes opposite to 2?



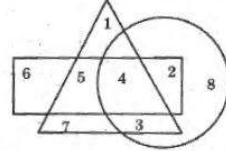
- (A) 3 (B) 6 (C) 4 (D) 5

பின்வரும் பகடைகளின் தோற்றத்திலிருந்து '2'க்கு எதிரில் வரும் எண் எது?



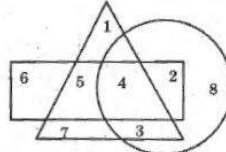
- (A) 3 (B) 6 (C) 4 (D) 5

59. Which number is seen in all the diagrams?



- (A) 3 (B) 7 (C) 4 (D) 8

எந்த எண் எல்லா வரைபடத்திலும் இருக்கிறது?



- (A) 3 (B) 7 (C) 4 (D) 8

60. A number when divided by 2, 3, 4, 5 and 6 leaves remainder 1, 2, 3, 4 and 5, it is divisible by 7, then the least possible number is

- (A) 117 (B) 119 (C) 113 (D) 121

ஒரு எண்ணானது 2, 3, 4, 5 மற்றும் 6 எனும் எண்களால் வகுக்கும் போது மீதி முறையே 1, 2, 3, 4 மற்றும் 5. மேலும் அவ்வெண் 7 - ஆலும் வகுபடும் எனில் அந்த மீச்சிறு எண்

- (A) 117 (B) 119 (C) 113 (D) 121



TNPSC

VAO - General Science - 2014

61. Find the sum of all natural numbers between 300 and 500 which are divisible by 11.

- (A) 7337 (B) 7227 (C) 7447 (D) 7557

300 க்கும் 500- க்கும் இடையேயுள்ள 11 ஆல் வகுபடும் அனைத்து இயல் எண்களின் கூட்டுப்பலன் காண்க.

- (A) 7337 (B) 7227 (C) 7447 (D) 7557

62. A man saves Rs. 3,000 per month from his total salary of Rs. 20,000. The percentage of his savings is

- (A) 5% (B) 10% (C) 15% (D) 20%

மாத வருமானம் Rs. 20,000 பெறும் நபர் ஒருவர் ஒவ்வொரு மாதமும் Rs. 3,000ஐ சேமிப்பு செய்கின்றார் எனில் அவருடைய மாதச் சேமிப்பு சதவீதம்

- (A) 5% (B) 10% (C) 15% (D) 20%

63. A seller says the cost of an item at a profit of 3%. Then he gives a discount of 3%. Then he sells the item at

- (A) a profit of 0.09%

(B) a loss of 0.09%

- (C) a profit of 9%

(D) no loss or no profit

ஒருவன் ஒரு பொருளை 3% இலாபம் வைத்து விலை சொல்கின்றான். பின்பு 3% தள்ளுபடி அளிக்கின்றான் எனில் அவன் அப்பொருளை விற்பது

- (A) 0.09% இலாபத்திற்கு

(B) 0.09% இழப்பிற்கு

- (C) 9% இலாபத்திற்கு

(D) இலாபமும் இல்லை அல்லது இழப்பும் இல்லை

64. If the ratio of the ages of son and father in 2014 and 2022 are 1 : 4 and 3 : 8 respectively, then the sum of the ages of son and father in 2010 is

- (A) 42 (B) 43 (C) 50 (D) 45

2014 மற்றும் 2022ம் ஆண்டு மகன் மற்றும் தந்தை ஆகியோரின் வயதுகளின் விகிதங்கள் முறையே 1 : 4 மற்றும் 3 : 8 எனில் 2010 ஆம் ஆண்டு மகன் மற்றும் தந்தை ஆகியோரின் வயதுகளின் கூடுதல்

- (A) 42 (B) 43 (C) 50 (D) 45

65. Find the volume of a largest sphere inscribed from the right circular cylindrical wood whose radius is 1 c.m. and height is 5 c.m.

- (A) $\frac{4}{3} \pi \text{ cm}^3$ (B) $\frac{5}{16} \pi \text{ cm}^3$

- (C) $5 \pi \text{ cm}^3$ (D) $8 \pi \text{ cm}^3$

1 செ.மீ. ஆரமும் 5 செ.மீ. உயரமும் கொண்ட நேர் உருளையில் இருந்து வெட்டி எடுக்கப்பட்ட மிகப்பெரிய கோளத்தின் கனஅளவு காண்க.

- (A) $\frac{4}{3} \pi \text{ cm}^3$ (B) $\frac{5}{16} \pi \text{ cm}^3$

- (C) $5 \pi \text{ cm}^3$ (D) $8 \pi \text{ cm}^3$

66. The average of five numbers is 20. If we eliminate one number from it, the average will be reduced by 5. What is the number eliminated?

- (A) 5 (B) 40 (C) 20 (D) 15

5 எண்களின் சராசரி 20. அதில் இருந்து ஒரு எண்ணை நீக்கினால் சராசரியில் 5 குறைகிறது எனில், நீக்கப்பட்ட எண்ணைக் காண்க.

- (A) 5 (B) 40 (C) 20 (D) 15

**TNPSC****VAO - General Science - 2014**

67. $(2^0 + 4^{-1}) \times 2^2$ is equal to
 (A) 2 (B) 5 (C) 4 (D) 3
 $(2^0 + 4^{-1}) \times 2^2 =$
 (A) 2 (B) 5 (C) 4 (D) 3

68. If $x = \sqrt{2} - \sqrt{3}$ then $\sqrt{2}$ is
 (A) $\frac{1}{2}(x + \frac{1}{x})$ (B) $\frac{1}{2}(x - \frac{1}{x})$
 (C) $\frac{1}{2}(\frac{1}{x} - x)$ (D) $x - \frac{1}{x}$
 $x = \sqrt{2} - \sqrt{3}$ எனில் $\sqrt{2}$ என்பது
 (A) $\frac{1}{2}(x + \frac{1}{x})$ (B) $\frac{1}{2}(x - \frac{1}{x})$
 (C) $\frac{1}{2}(\frac{1}{x} - x)$ (D) $x - \frac{1}{x}$

69. Babu has 540 cakes. He wants to distribute them equally to some persons. If the number of cakes given to each person is equal to 15% of the number of persons, find the number of cakes given to each person.
 (A) 60 (B) 20 (C) 9 (D) 54
 பாபு என்பவரிடம் 540 கேக்குகள் உள்ளன. அவர் அதைச் சமமாக சில நபர்களுக்குப் பிரித்துக் கொடுக்க விரும்புகின்றார். ஒவ்வொருவருக்கும் கொடுத்த கேக்குகளின் எண்ணிக்கையானது மொத்த நபர்களின் எண்ணிக்கையின் 15% ஆகும் எனில் ஒவ்வொரு நபருக்கும் கொடுக்கப்பட்ட கேக்குகளின் எண்ணிக்கையைக் காண்க.
 (A) 60 (B) 20 (C) 9 (D) 54

70. Seasonal changes are caused due to the following reasons.
 (A) Earth revolves round the sun in an orbital path
 (B) Earth revolves round the sun as it rotates itself

- (C) Earth is tilted $23\frac{1}{2}^\circ$ revolves round the sun
 (D) Earth takes $365\frac{1}{4}$ days to complete revolution around the sun
 பருவகால மாற்றங்கள் பின்வரும் காரணத்தினால் ஏற்படுகின்றன.
 (A) புவியானது சூரியனை நீள்வட்டப் பாதையில் சுற்றி வருவதால்
 (B) புவியானது தன்னைத் தானே சுற்றிக் கொண்டு சூரியனையும் சுற்றி வருவதால்
 (C) புவியானது $23\frac{1}{2}^\circ$ சாய்வாக சூரியனை சுற்றி வருவதால்
 (D) புவி சூரியனைச் சுற்றிவர $365\frac{1}{4}$ நாட்கள் எடுத்துக் கொள்வதால்

71. Choose the correct answer.
 Horizontal movement of sea water at the Ocean's surface is
 (A) Waves (B) Tides
 (C) Currents (D) Either waves or currents
 சரியான விடையைத் தேர்ந்தெடுக்கவும்.
 பெருங்கடல்களின் மேற்பரப்பில் கிடையாக நகருகின்ற கடல்நீர்
 (A) அலைகள் (B) ஓதங்கள்
 (C) நீரோட்டங்கள்
 (D) அலைகள் அல்லது நீரோட்டங்கள்

72. The technique that reduce the amount of water consumption in crop cultivation
 (A) Hydroponics
 (B) Automated Irrigation
 (C) Macro Irrigation
 (D) Micro Irrigation
 விவசாயத்திற்கு பயன்படுத்தப்படும் நீரினை சிக்கனமாக பயன்படுத்தும் நுட்பம்
 (A) ஹைட்ரோபோனிக்ஸ்
 (B) தானியங்கும் நீர்பாசனம்
 (C) பெரியளவிலான நீர்பாசனம்
 (D) சிறியளவிலான நீர்பாசனம்

**TNPSC****VAO - General Science - 2014**

73. Choose the correct answer.
 Problems for environment pollution is
 I. Rapidly growing population
 II. Industrialization
 III. Land pollution
 IV. Water pollution
 (A) I and II are correct (B) II only correct
 (C) III only correct (D) IV only correct
 சரியான வாக்கியத்தை தேர்ந்தெடு.
 சுற்றுச்சூழல் மாசுக்கான பிரச்சனை
 I. அதிவேகமான மக்கள் தொகை வளர்ச்சி
 II. தொழில்மயமாதல்
 III. நிலம் மாசடைதல்
 IV. நீர் மாசடைதல்
 (A) I, II சரி (B) II மட்டும் சரி
 (C) III மட்டும் சரி (D) IV மட்டும் சரி

74. The infectious stage of Plasmodium is
 (A) Sporozoite (B) Merozoite
 (C) Schizont (D) Trophozoite
 பிளாஸ்மோடியத்தின் நோய் தொற்றும் நிலை
 (A) ஸ்போரோசுவாயிட்
 (B) மீரோசுவாயிட்
 (C) சைசாண்ட்
 (D) டிரோபோசுவாயிட்

75. Haemoglobin is made up of
 (A) Manganese and Chlorine
 (B) Iron and Iodine
 (C) Iodine and Protein
 (D) Iron and Protein
 ஹீமோகுளோபுலின் கீழ்க்கண்டவற்றால் ஆனது
 (A) மாங்கனீசு மற்றும் குளோரின்
 (B) இரும்பு மற்றும் அயோடின்
 (C) அயோடின் மற்றும் புரதம்
 (D) இரும்பு மற்றும் புரதம்

76. Consider the following statement.
 I. Graphite is a good conductor of electricity
 II. Diamond is very hard and has high melting point and boiling point
 III. Solid carbon monoxide is known as dry ice
 IV. Carbonic acid turns red litmus slightly blue
 Which of the above statement is/are correct?
 (A) I and III are correct
 (B) II and III are correct
 (C) I and II are correct
 (D) III and IV are correct
 கீழ்க்கண்ட கூற்றுகளை ஆய்ந்து எது/எவை சரி என கொடுக்கப்பட்டுள்ள குறிப்புகள் மூலம் தேர்ந்தெடு.
 I. கிராபைட் நன்கு மின்சாரத்தை கடத்தும்.
 II. வைரம் மிகவும் கடினமானது அதிக உருகுநிலை மற்றும் கொதிநிலை கொண்டது.
 III. திண்ம கார்பன் மோனாக்சைடு உலர் பனிக்கட்டி என்றழைக்கப்படும்.
 IV. கார்பானிக் அமிலம் சிவப்பு லிட்மஸ் தாளை நீல நிறமாக மாற்றும்.
 (A) I மற்றும் III சரியானவை
 (B) II மற்றும் III சரியானவை
 (C) I மற்றும் II சரியானவை
 (D) III மற்றும் IV சரியானவை

77. Which one of the following is correct example for isobars?
 (A) $^{17}\text{Cl}_{35}$, $^{17}\text{Cl}_{37}$ (B) $^{18}\text{Ar}_{40}$, $^{20}\text{Ca}_{40}$
 (C) $^1\text{H}^1$, $^1\text{H}^2$ (D) $^8\text{C}^{13}$, $^7\text{N}^{14}$
 கீழ்க்காண்பவற்றில் எது சரியான ஐசோபார் ஆகும்?
 (A) $^{17}\text{Cl}_{35}$, $^{17}\text{Cl}_{37}$ (B) $^{18}\text{Ar}_{40}$, $^{20}\text{Ca}_{40}$
 (C) $^1\text{H}^1$, $^1\text{H}^2$ (D) $^8\text{C}^{13}$, $^7\text{N}^{14}$

**TNPSC****VAO - General Science - 2014**

78. pH values of 0.01 M HCl and 0.01 M NaOH solutions are

- (A) 2 and 7 (B) 2 and 12
(C) 13 and 1 (D) 3 and 11

0.01 M HCl கரைசல் மற்றும் 0.01 M NaOH கரைசல் தரப்பட்டுள்ளன. இவற்றின் pH மதிப்புகள் முறையே

- (A) 2 மற்றும் 7 (B) 2 மற்றும் 12
(C) 13 மற்றும் 1 (D) 3 மற்றும் 11

79. Consider the following :

Assertion (A): A planetarium is the universe brought in doors.

Reason (R): A large band of stars, gas and dust particles held together by gravitational force is called Nebula.

- (A) Both A and R are true, R is the correct explanation of A
(B) A is true, R is false
(C) A is false, R is true
(D) Both A and R are true, R is not the correct explanation of A

கீழ்க்கண்ட வாக்கியங்களைக் கவனி :

கூற்று (A): அண்டத்தை உள் அரங்கத்தில் அமைப்பதை கோள் அரங்கம் என்கிறோம்.

உண்மை (R): ஈர்ப்புபாற்றலால் ஒன்று சேர்க்கப்பட்ட வாயுக்களையும், புழுதித் துகள் களையும் கொண்ட எண்ணற்ற விண்மீன்களின் தொகுப்பை நெபுலா என்கிறோம்.

- (A) A மற்றும் R சரி, A-ன் உண்மையான விளக்கம் R ஆகும்.
(B) A சரி, R தவறு
(C) A தவறு, R சரி
(D) A மற்றும் R சரி, A-ன் உண்மையான விளக்கம் R அல்ல.

80. Consider the following statements about planets and choose the correct ones.

- I. The planet which has maximum no. of satellite - Earth.
II. The superior planets are - Mars, Jupiter, Saturn.
III. The planets with maximum Albedo - Mercury, Venus.
IV. The planet which is close to the Sun - Mercury.

- (A) I, II and III only (B) II, III and IV only
(C) I, II, III and IV (D) II and IV only

கோள்களைப் பற்றிய கூற்றுக்களை ஆய்க. இவற்றுள் எவை சரியானவை?

- I. அதிக எண்ணிக்கை கொண்ட துணைக்கோள்கள் உடைய கோள் - பூமி
II. சேய்மையில் உள்ள கோள் - செவ்வாய், வியாழன், சனி
III. அதிக ஆல்பெடோ மதிப்புள்ள கோள்கள் - புதன், வெள்ளி
IV. சூரியனுக்கு அருகில் உள்ள கோள் - புதன்

- (A) I, II மற்றும் III மட்டும்
(B) II, III மற்றும் IV மட்டும்
(C) I, II, III, IV ஆகிய அனைத்தும்
(D) II மற்றும் IV மட்டும்

81. Every bank has to keep certain minimum cash balance with RBI is called

- (A) Variable Reserve Ratio
(B) Cash Reserve Ratio
(C) Cash Discount Ratio
(D) Trade Discount Ratio

இந்திய ரிசர்வ் வங்கியிடம் ஒவ்வொரு வங்கியும் ஒரு குறிப்பிட்ட தொகையை ரொக்க இருப்பாக வைப்பது

**TNPSC****VAO - General Science - 2014**

- (A) மாறுபடும் காப்பு விகிதம்
(B) ரொக்க இருப்பு விகிதம்
(C) ரொக்க தள்ளுபடி விகிதம்
(D) வியாபாரத் தள்ளுபடி விகிதம்

82. Match :

- A. First Five Year Plan 1. Eradication of poverty
B. Second Five Year Plan 2. Equality and Social Justice
C. Fifth Five Year Plan 3. Industrial Development
D. Tenth Five Year Plan 4. Agriculture

- (a) (b) (c) (d)
(A) 4 3 1 2
(B) 2 1 3 4
(C) 1 3 4 2
(D) 2 4 1 3

பொருத்துக :

- (A) முதலாம் ஐந்தாண்டு திட்டம்
1. வறுமை ஒழிப்பு
(B) இரண்டாம் ஐந்தாண்டு திட்டம்
2. சமத்துவம் மற்றும் சமூகநீதி
(C) ஐந்தாம் ஐந்தாண்டு திட்டம்
3. தொழிற்சாலை வளர்ச்சி
(D) பத்தாம் ஐந்தாண்டு திட்டம்
4. வேளாண்மை
(a) (b) (c) (d)
(A) 4 3 1 2
(B) 2 1 3 4
(C) 1 3 4 2
(D) 2 4 1 3

83. Which is the Public Sector Industry?

- (A) BHEL (B) Reliance
(C) TATA (D) Ashok Leyland

கீழ்க்காண்பவற்றுள் எது பொதுத்துறை நிறுவனம்?

- (A) பெல் (BHEL)
(B) ரிலையன்ஸ் (Reliance)
(C) டாடா (TATA)
(D) அசோக் லைலேண்ட் (Ashok Leyland)

84. Match the following :

- (A) Saakshar Bharat 1. secondary education
(B) Rashtriya Madhyamic Shiksha Abhiyan (RMSA) 2. elementary education
(C) Sarva Shiksha Abhiyan 3. higher education
(D) Indian Institute of Technology 4. female literacy

- (a) (b) (c) (d)
(A) 4 1 2 3
(B) 1 4 3 2
(C) 4 2 1 3
(D) 4 3 1 2

பொருத்துக :

- (A) சாக்ஷர் பாரத் 1. இடைநிலைக் கல்வி
(B) ராஷ்ட்ரிய மத்யமிக் சிக்ஷ அபியான் (RMSA) 2. தொடக்கக் கல்வி
(C) சர்வ சிக்ஷ அபியான் (SSA) 3. உயர்கல்வி
(D) இந்திய தொழில்நுட்ப நிறுவனம் 4. பெண்கல்வி

**TNPSC****VAO - General Science - 2014**

- (a) (b) (c) (d)
 (A) 4 1 2 3
 (B) 1 4 3 2
 (C) 4 2 1 3
 (D) 4 3 1 2

- வழிவகை செய்யும் அரசியலமைப்பு சட்ட
 ஷரத்து
 (A) Art. 243 K (B) Art. 241 K
 (C) Art. 243 D (D) Art. 243 D

85. The cell division results in four daughter cells each having half the number of chromosomes of the parent cell and are called gametes. This type of cell division is

- (A) mitosis (B) amitosis
 (C) meiosis (D) karyokinesis

தாய் செல்லின் குரோமோசோம் எண்ணிக்கையில் சரிபாதி குரோமோசோம்களை கொண்டுள்ள நான்கு சேய் செல்கள் கேமிட்டுகள் எனப்படும். இத்தகைய செல் பகுப்பு _____ எனப்படும்.

- (A) மைட்டாசிஸ் (B) ஏமைட்டாசிஸ்
 (C) மையோசிஸ் (D) கேரியோகைனிஸிஸ்

88. Select the incorrect pair regarding Sahitya Academy Award 2013 :

- (A) Javed Akhtar - Poet
 (B) Mridula Garg - Novelist
 (C) Subod Sarkar - Essay
 (D) M.N. Paloor - Short Stories

சாக்திய அகாடமி விருது 2013யை குறித்த தவறான இணையை தேர்ந்தெடு :

- (A) ஜாவத் அக்தர் - கவிதை
 (B) மிர்தூலா கர்க் - நாவல்
 (C) சுபோத் சர்கார் - கட்டுரை
 (D) M.N. பாலூர் - சிறுகதை

89. Who is Swaraj Paul?

- (A) Indian Industrialist based in United Kingdom
 (B) Leader in Share Market
 (C) Indian Cabinet Minister
 (D) Chairperson of ISRO

சுவராஜ் பால் என்பவர் யார்?
 (A) இங்கிலாந்தில் இருக்கும் இந்திய தொழிலதிபர்
 (B) பங்கு சந்தையின் தலைவர்
 (C) இந்திய காபினட் அமைச்சர்
 (D) இஸ்ரோவின் தலைவர்

90. The use of 'i knife' in the medical field is

- (A) to detect the heart disease
 (B) to detect the volume of blood
 (C) to detect the cancer
 (D) to estimate the amount of sugar in blood

91. Who was the first cinematographer to be chosen for Dada Saheb Phalke award?

- (A) Sriram (B) Karnan
 (C) V.K. Moorthy (D) Balakrishnan

தாதா சாகிப் பால்கே விருதுக்கு தேர்ந்தெடுக்கப்பட்ட முதல் ஒளிப்பதிவாளர் யார்?

- (A) ஸ்ரீராம் (B) கர்ணன்
 (C) V.K. மூர்த்தி (D) பாலகிருஷ்ணன்

92. In which Indian State, Government of India planned to build world's largest 4000 MV Solar Project?

- (A) Gujarat (B) Rajasthan
 (C) Haryana (D) Punjab

இந்திய அரசு இந்தியாவின் எந்த மாநிலத்தில் உலகத்திலேயே பெரிய 4000 MV சூரிய சக்தி மின்நிலையம் அமைக்க இருக்கிறது?

- (A) குஜராத் (B) ராஜஸ்தான்
 (C) ஹரியானா (D) பஞ்சாப்

93. The status of Election Commissioner is equivalent to that of the

- (A) High Court Judge
 (B) District Court Judge
 (C) Supreme Court Judge
 (D) Magistrate

தலைமை தேர்தல் ஆணையர், யாருக்கு இணையாக அதிகாரம் பெற்றிருப்பவர்?

- (A) உயர் நீதிமன்ற நீதிபதி
 (B) மாவட்ட நீதிபதி
 (C) உச்ச நீதிமன்ற நீதிபதி
 (D) மாஜிஸ்ட்ரேட்

94. Tamil Nadu Legislative consists of _____ members.

- (A) 233 (B) 234
 (C) 235 (D) 236

தமிழ்நாடு சட்டமன்ற மொத்த உறுப்பினர்களின் எண்ணிக்கை

- (A) 233 (B) 234
 (C) 235 (D) 236

95. Match the following :

- A. Right to equality 1. Art. 23 - Art. 24
 B. Right to freedom 2. Art. 19 - Art. 22
 C. Right against exploitation 3. Art. 25 - Art. 28
 D. Right to freedom of religion 4. Art. 14 - Art. 18

A	B	C	D
(A) 4	2	1	3
(B) 4	2	3	1
(C) 1	2	3	4
(D) 4	3	2	1

பொருத்துக :

- A. சமத்துவ உரிமை 1. பிரிவு 23 - பிரிவு 24
 B. சுதந்திர உரிமை 2. பிரிவு 19 - பிரிவு 22
 C. சுரண்டலுக்கெதிரான உரிமை 3. பிரிவு 25 - பிரிவு 28
 D. சமய சுதந்திர உரிமை 4. பிரிவு 14 - பிரிவு 18

A	B	C	D
(A) 4	2	1	3
(B) 4	2	3	1
(C) 1	2	3	4
(D) 4	3	2	1

96. Zero hour is the innovation in the parliamentary procedure of

- (A) UK (B) USA
 (C) India (D) France

பாராளுமன்ற நடைமுறையில் பூஜ்ய நேரம் என்பது _____ நாட்டின் கண்டுபிடிப்பு

- (A) இங்கிலாந்து
 (B) அமெரிக்க ஐக்கிய நாடுகள்
 (C) இந்தியா (D) பிரான்சு

97. Article associated with providing reservation of seats for SC/ST in Panchayat elections

- (A) Art. 243 K (B) Art. 241 K
 (C) Art. 243 D (D) Art. 243D

பஞ்சாயத்து அமைப்புகளுக்கான தேர்தல்களில் தாழ்த்தப்பட்டோர் மற்றும் பழங்குடியினருக்கான இடஒதுக்கீட்டிற்கு

- (A) Art. 243 K (B) Art. 241 K
 (C) Art. 243 D (D) Art. 243D

98. The use of 'i knife' in the medical field is

- (A) to detect the heart disease
 (B) to detect the volume of blood
 (C) to detect the cancer
 (D) to estimate the amount of sugar in blood

மருத்துவ துறையில் 'i கத்தியின்' பயன்பாடு

- (A) to detect the heart disease
 (B) to detect the volume of blood
 (C) to detect the cancer
 (D) to estimate the amount of sugar in blood

**TNPSC****VAO - General Science - 2014**

- (A) இருதய நோயைக் கண்டுபிடிக்க
 (B) இரத்தத்தின் கன அளவை கண்டுபிடிக்க
 (C) கேன்சர் நோயைக் கண்டுபிடிக்க
 (D) இரத்தத்திலுள்ள சர்க்கரையின் அளவை கண்டுபிடிக்க

- (B) மாவட்ட நீதிபதி
 (C) உச்ச நீதிமன்ற நீதிபதி
 (D) மாஜிஸ்ட்ரேட்

91. Who was the first cinematographer to be chosen for Dada Saheb Phalke award?

- (A) Sriram (B) Karnan
 (C) V.K. Moorthy (D) Balakrishnan

தாதா சாகிப் பால்கே விருதுக்கு தேர்ந்தெடுக்கப்பட்ட முதல் ஒளிப்பதிவாளர் யார்?

- (A) ஸ்ரீராம் (B) கர்ணன்
 (C) V.K. மூர்த்தி (D) பாலகிருஷ்ணன்

92. In which Indian State, Government of India planned to build world's largest 4000 MV Solar Project?

- (A) Gujarat (B) Rajasthan
 (C) Haryana (D) Punjab

இந்திய அரசு இந்தியாவின் எந்த மாநிலத்தில் உலகத்திலேயே பெரிய 4000 MV சூரிய சக்தி மின்நிலையம் அமைக்க இருக்கிறது?

- (A) குஜராத் (B) ராஜஸ்தான்
 (C) ஹரியானா (D) பஞ்சாப்

93. The status of Election Commissioner is equivalent to that of the

- (A) High Court Judge
 (B) District Court Judge
 (C) Supreme Court Judge
 (D) Magistrate

தலைமை தேர்தல் ஆணையர், யாருக்கு இணையாக அதிகாரம் பெற்றிருப்பவர்?

- (A) உயர் நீதிமன்ற நீதிபதி
 (B) மாவட்ட நீதிபதி
 (C) உச்ச நீதிமன்ற நீதிபதி
 (D) மாஜிஸ்ட்ரேட்

94. Tamil Nadu Legislative consists of _____ members.

- (A) 233 (B) 234
 (C) 235 (D) 236

தமிழ்நாடு சட்டமன்ற மொத்த உறுப்பினர்களின் எண்ணிக்கை

- (A) 233 (B) 234
 (C) 235 (D) 236

95. Match the following :

- A. Right to equality 1. Art. 23 - Art. 24
 B. Right to freedom 2. Art. 19 - Art. 22
 C. Right against exploitation 3. Art. 25 - Art. 28
 D. Right to freedom of religion 4. Art. 14 - Art. 18

A	B	C	D
(A) 4	2	1	3
(B) 4	2	3	1
(C) 1	2	3	4
(D) 4	3	2	1

பொருத்துக :

- A. சமத்துவ உரிமை 1. பிரிவு 23 - பிரிவு 24
 B. சுதந்திர உரிமை 2. பிரிவு 19 - பிரிவு 22
 C. சுரண்டலுக்கெதிரான உரிமை 3. பிரிவு 25 - பிரிவு 28
 D. சமய சுதந்திர உரிமை 4. பிரிவு 14 - பிரிவு 18

A	B	C	D
(A) 4	2	1	3
(B) 4	2	3	1
(C) 1	2	3	4
(D) 4	3	2	1

**TNPSC****VAO - General Science - 2014**

96. Which Article permits Separate Constitution for the state of Jammu-Kashmir?

- (A) Article-370 (B) Article-390
(C) Article-161 (D) Article-356
எந்த அரசியல் விதி ஜம்மு-காஷ்மீருக்கு தனி அரசியலமைப்பை வழங்குகிறது?
(A) விதி 370 (B) விதி 390
(C) விதி 161 (D) விதி 356

97. Bengal was revoked in the year of

- (A) 1905 (B) 1907
(C) 1909 (D) 1911
வங்காளம் மீண்டும் இணைக்கப்பட்ட ஆண்டு
(A) 1905 (B) 1907
(C) 1909 (D) 1911

98. Consider the following statement :

Assertion (A) : The congress leaders in the early stage were called Moderates.
Reason (R) : Moderates advocated a radical way to win their demand.
Now select your answer according to the coding scheme given below :

(A) Both (A) and (R) are true and (R) is the correct explanation of (A)

(B) Both (A) and (R) are true and (R) is not the correct explanation of (A)

(C) (A) is true but (R) is false

(D) (A) is false but (R) is true

கீழ்க்கண்ட வாக்கியங்களைக் கவனி :

கூற்று (A) : இந்திய தேசிய காங்கிரஸ் தலைவர்கள் ஆரம்ப கால கட்டத்தில் மிதவாதிகள் என்று அழைக்கப்பட்டனர்.

காரணம் (R) : மிதவாதிகள் தங்களது கோரிக்கைகளை வென்றெடுக்க

துணிச்சலான வழிமுறைகளை கையாண்டனர்.

இவற்றுள் சரியான விடையை தெரிந்தெடுக்க :

- (A) (A) மற்றும் (R) இரண்டும் சரி. (R) என்பது (A)-விற்கு சரியான விளக்கம்
(B) (A) மற்றும் (R) இரண்டும் சரி மேலும் (R) என்பது (A)-விற்கு சரியான விளக்கமில்லை
(C) (A) சரி ஆனால் (R) தவறு
(D) (A) தவறு ஆனால் (R) சரி

99. Match the following :

List I

A. Sardar Vallabhbhai

B. Dr. B.R. Ambedkar

C. Lord Mountbatton

D. Motilal Nehru

List II

1. First

Governor

Patel

General of

India

2. Bismarck of

India

3. Swarajya

Party

4. Drafting

Committee

of

Constituent

Assembly

	A	B	C	D
(A)	2	4	1	3
(B)	1	2	3	4
(C)	4	3	2	1
(D)	3	2	1	4

பொருத்துக :

பட்டியல் I

(A) சர்தார வல்லபாய் படேல்

(B) Dr. B.R. அம்பேத்கார்

பட்டியல் II

1. இந்தியாவின்

முதல்

கவர்னர்

ஜெனரல்

2. இந்திய

பிஸ்மார்க்

**TNPSC****VAO - General Science - 2014**

(C) மவுண்ட்பேட்டன் பிரபு

(D) மோதிலால் நேரு

(a) (b) (c) (d)

(A) 2 4 1 3

(B) 1 2 3 4

(C) 4 3 2 1

(D) 3 2 1 4

100. After Jallian Wala Bagh massacre Rabinranath Tagore renounced his title

(A) Leadership (B) Lordship

(C) Knighthood (D) Kingship

ஜாலியன் வாலாபாக் படுகொலைக்குப் பின்

இரவீந்திரநாத் தாகூர் துறந்த பட்டம்

(A) தலைவர் (B) பிரபு

(C) நைட்டிபுட் (D) அரசர்

101. Which one of the following is correctly matched?

I. W.C. Banerjee - Swadeshi Mithran

II. G. Subramaniya Iyer - The Hindu

III. Lala Lajpathi Roy - Kesari

IV. Lakshmi Narasu Chetty - Samachar

Darpan

(A) I (B) II (C) III (D) IV

கீழ்க்கண்ட கூற்றுகளில் எது, சரியாக

பொருந்தியுள்ளது?

I. டபிள்யூ.சி. பானர்ஜி - சுதேச மித்ரன்

II. ஜி. சுப்ரமணிய அய்யர் - 'தி இந்து'

III. லாலா லஜபதி ராய் - கேசரி

IV. லட்சுமி நரசு செட்டி - சமாச்சார்

தர்பன்

(A) I (B) II (C) III (D) IV

102. Which among the following is correctly matched?

(A) Lion of Punjab - Lala Lajpat Rai

(B) Frontier Gandhi - Muslim League

(C) Sardar Vallabai Patel - First Governot general

(D) Motilal Nehru - Bismarck of India

கீழ்க்கண்டவற்றுள் எது சரியாக

பொருந்தியுள்ளது?

(A) பஞ்சாப் சிங்கம் - லாலா லஜபதிராய்

(B) எல்லை காந்தி - முஸ்லீம் லீக்

(C) சர்தார வல்லபாய் படேல் - முதல் கவர்னர் ஜெனரல்

(D) மோதிலால் நேரு - இந்தியாவின் பிஸ்மார்க்

103. Arrange the following period in chronological order :

I. Chauri Chaura Incident.

II. Non-Cooperation movement.

III. Quit India movement.

IV. Dandi March

(A) II, I, IV and III (B) III, IV, I and II

(C) II, IV, I and III (D) II, III, IV and I

கால முறைப்படி வரிசைப்படுத்துக :

I. செளரி செளரா சம்பவம்

II. ஒத்துழையாமை இயக்கம்

III. வெள்ளையனே வெளியேறு

(A) தண்டி யாத்திரை

(B) II, I, IV மற்றும் III

(C) III, IV, I மற்றும் II

(D) II, IV, I மற்றும் III

(E) II, III, IV மற்றும் I

104. Match the following A with B.

A

A. Surat Split

B. August Declaration

C. The Swaraja Party

D. Formation of

Simon Commission

B

1. 1927

2. 1923

3. 1917

4. 1907

**TNPSC****VAO - General Science - 2014**

	A	B	C	D
(A)	1	4	2	3
(B)	4	3	2	1
(C)	3	1	2	4
(D)	3	2	1	4

பொருத்துக் : 'A' யுடன் 'B' ஐ.

	A	B
A. சூரத் பிளவு	1. 1927	
B. ஆகஸ்ட் அறிக்கை	2. 1923	
C. சுயராஜ்யக் கட்சி	3. 1917	
D. சைமன் தூதுக்குழு அமைத்தல்	4. 1907	

	A	B	C	D
(A)	1	4	2	3
(B)	4	3	2	1
(C)	3	1	2	4
(D)	3	2	1	4

105. The celebration of Ganapathi and Shivaji festivals was revived by

- (A) Gokhale (B) W.C. Banarjee
(C) Tilak (D) Annie Besant

கணபதி மற்றும் சிவாஜி பண்டிகைகள் மூலம் தேசிய உணர்வைத் தூண்டியவர்

- (A) கோகலே (B) W.C. டபிள்யூ.சி. பானர்ஜி
(C) திலகர் (D) அன்னிபெசன்ட்

106. The most important factor leading to the rise of national movement was

- (A) Imperialism (B) Communism
(C) Socialism (D) Mixed economy

இந்திய தேசியம் ஏற்பட முக்கியமான காரணம்

- (A) ஏகாதிபத்தியம்
(B) சமதர்மம்
(C) பொதுவுடைமை
(D) கலப்புப் பொருளாதாரம்

107. Match the List-I with List II correctly and select your answer using the codes given below :

List-I	List II
A. Herald of New age in India	1. Swami Dyananda Saraswathy
B. Martin Luther of Hinduism	2. Annie Besant
C. New India	3. Ramakrishna Mission
D. Photovoltaic Lighting System	4. Rajaram Mohan Roy

Codes :

	A	B	C	D
(A)	1	2	3	4
(B)	2	3	4	1
(C)	4	1	2	3
(D)	3	2	1	4

பட்டியல் - I ஐ பட்டியல் - II உடன் பொருத்தி கீழே கொடுக்கப்பட்டுள்ள குறியீடுகளைக் கொண்டு சரியான விடையைத் தேர்ந்தெடு.

பட்டியல் I	பட்டியல் II
A. நவீன இந்தியாவின் விடிவெள்ளி	1. சுவாமி தயானந்த சரஸ்வதி
B. இந்து சமயத்தின் மார்டின் லூதர்	2. அன்னிபெசன்ட்
C. நியூ இந்தியா	3. இராமகிருஷ்ண மடம்
D. சூரிய ஒளியின் மூலம் மின்சாரம் உற்பத்தி செய்யும் திட்டம்	4. இராஜாராம் மோகன்ராம்

**TNPSC****VAO - General Science - 2014**

குறியீடுகள் :

	A	B	C	D
(A)	1	2	3	4
(B)	2	3	4	1
(C)	4	1	2	3
(D)	3	2	1	4

108. Which of the following statement is not correct?

- (A) Mohenjadarro means mound of the Dead
(B) Indus valley people used burnt bricks
(C) Indus valley civilization was a rural one
(D) Sir John Marshall is related to Indus valley civilization

பின்வரும் கூற்றுகளில் தவறானது எது?

- (A) மொஹஞ்சதாரோ என்ற சொல்லுக்கு இறந்தவர் மேடு என்று பொருள்
(B) சிந்து சமவெளி மக்கள் கட்ட செங்கற்களைப் பயன்படுத்தினர்.
(C) சிந்து சமவெளி நாகரீகம் ஒரு கிராமிய நாகரீகம்
(D) சர் ஜான் மார்ஷல் சிந்து சமவெளி நாகரீகத்துடன் தொடர்புடையவர்

109. Which one of the following is/are correctly matched?

I. Village Account	No. 10(1)	-	Chitta showing the and holdings of each ryot with the assigned patta number
II. Village Account	No. 20	-	Patta is a record showing land holdings of each ryot as assessment

III. Village Account

No. 11 - Rainfall statement

- (A) I and III (B) III only
(C) I only (D) II and I

கீழ்க்கண்டவற்றில் எது/எவை சரியாக பொருந்துகிறது?

- I. கிராம கணக்கு எண் 10(1) - பட்டாவாரியாக நிலவரித் திட்டத்தினை காண்பிக்கும் சிட்டாவாகும்

- II. கிராம கணக்கு எண் 20 - என்பது ஒவ்வொரு குடியானவருக்கும் அளிக்கப்பட்ட பட்டா வடிவமாகும்

- III. கிராம கணக்கு எண் 11 - மழைக் கணக்கு
(A) I மற்றும் III (B) III மட்டும்
(C) I மட்டும் (D) II மற்றும் I

110. Which one of the following is objectionable Poramboke?

- (A) Assessed dry waste
(B) Natham Poramboke
(C) Graveyard Poramboke
(D) Pattai Poramboke
- கீழ்க்கண்டவற்றில் எது ஆட்சேபணையுள்ள புறம்போக்கு?
(A) தீர்வை ஏற்பட்ட தரிசு
(B) நத்தம் புறம்போக்கு
(C) மயான புறம்போக்கு
(D) பாட்டை புறம்போக்கு

111. As per the Tamil Nadu Land reforms (Fixation of Ceiling on Land) Act, 1961, ceiling is fixed for a family consisting of 5 members is

**TNPSC****VAO - General Science - 2014**

- (A) 5 Standard Acres
(B) 15 Standard Acres
 (C) 10 Standard Acres
 (D) 30 Standard Acres

1961-ம் ஆண்டைய தமிழ்நாடு நிலச் சீர்திருத்த (நில உச்சவரம்பு நிர்ணயித்தல்) சட்டத்தின் கீழ் ஐந்து நபர் கொண்ட ஒரு குடும்பத்திற்கு பின்வருமாறு உச்சவரம்பு அமுலில் உள்ளது.

- (A) 5 தர ஏக்கர் (B) 15 தர ஏக்கர்
 (C) 10 தர ஏக்கர் (D) 30 தர ஏக்கர்

114. In Tamil Nadu, in which year Revenue Administration name is renamed as Revenue Administration and Disaster Management and Mitigation Department?

- (A) 2003** (B) 2004
 (C) 2005 (D) 2006

தமிழ்நாட்டில் வருவாய் நிர்வாக துறையின் பெயர் எந்த ஆண்டு வருவாய் நிர்வாகம் மற்றும் பேரிடர் மேலாண்மை மற்றும் தணிக்கும் துறை என்று பெயர் மாற்றம் செய்யப்பட்டது?

- (A) 2003 (B) 2004
 (C) 2005 (D) 2006

112. The Descriptive Memoir of Revenue village is mentioned in _____ Registers

- (A) 'A' Register** (B) 'B' Register
 (C) 'C' Register (D) 'D' Register

வருவாய் கிராமத்தின் வரலாற்று குறிப்பு (Descriptive Memoir) எந்த பதிவேட்டில் உள்ளது?

- (A) 'A' பதிவேடு (B) 'B' பதிவேடு
 (C) 'C' பதிவேடு (D) 'D' பதிவேடு

115. A Fasli year commencing from and ending with?

- (A) January to December
 (B) October to September
 (C) April to March

(D) July to June

ஒரு பசலி ஆண்டு எப்போது துவங்கி எப்போது முடிவடையும்?

- (A) ஜனவரி முதல் டிசம்பர் வரை
 (B) அக்டோபர் முதல் செப்டம்பர் வரை
 (C) ஏப்ரல் முதல் மார்ச் வரை
 (D) ஜூலை முதல் ஜூன் வரை

113. In general, the Trees, Buildings and Government poramboke lands are protected in the village by?

- (A) Village Administrative Officer**
 (B) Public Welfare Officer
 (C) Building Inspector
 (D) Panchayat Secretary

பொதுவாக கிராமங்களில் உள்ள கட்டிடங்கள், மரங்கள் மற்றும் அரசு புறம்போக்கு நிலங்கள் போன்ற அரசுச் சொத்துகளை பாதுகாக்கும் அதிகாரி யார்?

- (A) கிராம நிர்வாக அலுவலர்
 (B) மக்கள் நலப்பணியாளர்
 (C) கட்டிட ஆய்வாளர்
 (D) பஞ்சாயத்து செயலர்

116. Match List I with List II and choose the correct one.

List I - Village Accounts List II

- | | |
|----------------------|--------------------------------|
| A. Account No. 10(1) | 1. Pattawise Chitta |
| B. Account No. 13 | 2. Daily Collection Account |
| C. Account No. 19 | 3. Birth and Death Account |
| D. Account No. 1 | 4. Monthly Cultivation Account |

**TNPSC****VAO - General Science - 2014**

- | | | | |
|--------------|----------|----------|----------|
| (a) | (b) | (c) | (d) |
| (A) 1 | 2 | 3 | 4 |
| (B) 1 | 4 | 3 | 2 |
| (C) 1 | 3 | 2 | 4 |
| (D) 4 | 1 | 3 | 2 |

பட்டியல் I பட்டியல் II- உடன் பொருத்தி சரியானவற்றை தேர்வு செய்ய்க.

பட்டியல் I கிராம

- A. கணக்கு எண் 10(1)
 B. கணக்கு எண் 13
 C. கணக்கு எண் 19
 D. கணக்கு எண் 1

பட்டியல் II கணக்குகள்

1. பட்டாவாரி சிட்டா
 2. தினசரி வசூல் கணக்கு
 3. பிறப்பு மற்றும் இறப்பு கணக்கு
 4. மாதவாரி சாகுபடி கணக்கு

- | | | | | |
|-----|---|---|---|---|
| | A | B | C | D |
| (A) | 1 | 2 | 3 | 4 |
| (B) | 1 | 4 | 3 | 2 |
| (C) | 1 | 3 | 2 | 4 |
| (D) | 4 | 1 | 3 | 2 |

117. In village Accounts, Account Number 20 deals with which one of the following?

- (A) Population **(B) Rainfall**
 (C) Epidemic diseases (D) Cattle pounds

கிராமக் கணக்குகளில், கணக்கு எண் : 20 என்பது பின்வருவனவற்றுள் எது தொடர்பானது?

- (A) மக்கள் தொகை (B) மழையளவு
 (C) தொற்று நோய்கள் (D) கால்நடைப்பட்டிகள்

118. Which is the first state to introduce the Mass Contact Programme/Manu Neethi Thittam?

- (A) Gujarat **(B) Tamil Nadu**
 (C) Kerala (D) Madhya Pradesh
 எந்த மாநிலத்தில் மனுநீதி நான் திட்டம் முதன்முதலில் கொண்டுவரப்பட்டது?
 (A) குஜராத் (B) தமிழ்நாடு
 (C) கேரளா (D) மத்தியப்பிரதேசம்

119. Brahmdayam means

- (A) The Inam given to Religious organisations
 (B) The Inam given to chatiram and education institutions
 (C) The Inam given to former Palayakkars, Zamindars and their relatives, staff and legal heirs

(D) The Inam given to Brahmins and other religious persons for their personal use

பிரம்மதேயம் என்பது

- (A) மத ஸ்தாபனங்களுக்கும், அதற்கு ஊழியம் செய்வதற்கும் வழங்கப்பட்ட இனாம்கள்
 (B) சத்திரம் மற்றும் கல்வி ஸ்தாபனங்களுக்கும் கொடுக்கப்பட்ட இனாம்கள்

(C) முன்னாள் பாளையக்காரர்கள் ஜமீன்தார்கள் ஆகியோரது உறவினர் ஊழியர் வாரிசுகாரர் ஆகியோருக்கு வழங்கப்பட்ட இனாம்கள்

(D) வேதியர்களுக்கும் மற்றும் இதர மதத்திற்கும் சொந்த உபயோகத்திற்கு வழங்கப்பட்ட இனாம்கள்

120. Who is the authority to the taken over the relinquishment of land?

- (A) Revenue Divisional Officer
(B) Tahsildar
 (C) Village Administrative Officer
 (D) Revenue Inspector

நில உரிமையை விட்டுக் கொடுப்பதை ஏற்றுக் கொள்ளும் அதிகாரம் யாரிடம் உள்ளது?

- (A) வருவாய் கோட்ட அலுவலர்
 (B) வட்டாட்சியர்
 (C) கிராம நிர்வாக அலுவலர்
 (D) வருவாய் ஆய்வர்

**TNPSC****VAO - General Tamil - 2014****101. சரியாகப் பொருத்துக :**

நூலாசிரியர்	நூல்
(a) சுரதா	1. கொடிமுல்லை
(b) முடியரசன்	2. பள்ளிப் பறவைகள்
(c)வாணிதாசன்	3. எச்சில் இரவு
(d) ஆலந்தூர்	

மோகனரங்கன்		4. பூங்கொடி
(a)	(b)	(c)
(A) 4	2	1
(B) 3	4	1
(C) 3	1	2
(D) 2	3	4

(A) வஞ்சித் தளை

(B) இயற்சீர் வெண்டளை

(C) வெண்சீர் வெண்டளை

(D) கலித்தளை

106. பூவோடு சேர்ந்த நார் போல - உவமை உணர்த்தும் பொருள்

(A) நன்மை	(B) களிப்பு
(C) உயர்வு	(D) வீணாதல்

107. நூலையும் நூலாசிரியரையும் பொருத்துக.

(a) தி. ஜானகிராமன்	1. சாயாவனம்
(b) க.நா. சுப்பிரமணியன்	2. செம்பருத்தி
(c) சா. கந்தசாமி	3. கரைந்த நிழல்கள்
(d) அசோகமித்திரன்	4. பெரிய மனிதன்

(a)	(b)	(c)	(d)
(A) 2	4	1	3
(B) 2	3	4	1
(C) 3	1	2	4
(D) 4	3	2	1

102. கொடுக்கப்பட்டுள்ள சொற்களுக்கான இலக்கணக் குறிப்புகளில் வரிசை மாறாத சரியான இணையைத் தேர்வு செய். மடக்கொடி - அவ்வூர்

(A) அன்மொழித் தொகை, சேய்மைச் சுட்டு
(B) பண்புத் தொகை, சேய்மைச் சுட்டு
(C) உரிச்சொற்றொடர், அன்மொழித் தொகை
(D) வினைத் தொகை, பண்புத் தொகை

103. ஒழுக்கம் விழுப்பம் தரலான் ஒழுக்கம்

உயிரினும் ஒம்பப் படும் - இதில் பயின்று வரும் மோனைச் சொற்கள்
(A) ஒழுக்கம் - ஒழுக்கம்
(B) ஒழுக்கம் - விழுப்பம்
(C) விழுப்பம் - தரலான்
(D) உயிரினும் - ஒம்பப்

104. உடம்பார் அழியின் உயிரார் அழிவர் - இச்செய்யுளில் பயின்று வரும் மோனை

(A) கூழை மோனை	(B) இணை மோனை
(C) முற்று மோனை	(D) பொழிப்பு மோனை

105. மா முன் நிரையும் விள முன் நேரும் வருவது**108. 'கற்பனைக் களஞ்சியம்' - என்று போற்றப்படுபவர்**

(A) தண்டபாணி தேசிகர்
(B) அமிர்தகவிராயர்
(C) சவ்வாதுப் புலவர்
(D) சிவப்பிரகாச சுவாமிகள்

109. சேரமான் பெருமான் நாயனார் பாடாத நூல் எது?

(A) பொன் வண்ணத்தந்தாதி
(B) திருவாரூர் மும்மணிக் கோவை
(C) போற்றிக் கலிவெண்பா
(D) ஞான உலா

**TNPSC****VAO - General Tamil - 2014****110. பின்வருவனவற்றுள் எது சமண இலக்கியம் இல்லை?**

(A) சீவக சிந்தாமணி	(B) சூளாமணி
(C) குண்டலகேசி	(D) நீலகேசி

(A) விளம்பி நாகனார்

(B) சமண முனிவர்

(C) முன்றுறை அரையனார்

(D) நல்லாதனார்

111. பின்வரும் பட்டியலில் வீ.கோ. சூரிய நாராயண சாஸ்திரியார் எழுதிய நூல் எது?

(A) தமிழ் நாவலர் சரிதை
(B) புலவர் புராணம்
(C) தமிழ்ப் புலவர் சரித்திரம்
(D) பாவலர் சரித்திரத் தீபகம்

115. பின்வருவனவற்றுள் 'ஈறுபோதல்' 'முன் நின்ற மெய் திரிதல்' என்னும் விதிகளின் படி புணர்ந்தது

(A) கருங்கல்	(B) பெருங்குன்று
(C) சிற்றூர்	(D) செங்கதிரோன்

112. கீழ்க்கண்ட வாக்கியங்களை கவனி :

கூற்று A : 96 - வகை சிற்றிலக்கியங்களுள் ஒன்று கலம்பகம்.
விளக்கம் R : பலவகைப் பாக்களையும் கலந்துபாடுவது கலம்பகம் அகமும் புறமும் கலந்து பாடப்படுவது கலம்பகம்.

(A) A சரி ஆனால் R தவறு
(B) A தவறு ஆனால் R சரி
(C) A மற்றும் R இரண்டும் சரி
(D) A மற்றும் R இரண்டும் தவறு

116. பின்வருவனவற்றுள் பொருந்தாத பொருள் எது?

(A) புரம் - சிறந்த ஊர்
(B) பாக்கம் - கடற்கரைச் சிற்றூர்
(C) குப்பம் - குறிஞ்சி நில வாழ்விடம்
(D) பட்டினம் - கடற்கரை நகரம்

117. அற நூல்களிலிருந்து ஆய்ந்தெடுத்துத் "தமிழ்ச் செய்யுட் கலம்பகம்" - என்னும் நூலாகத் தொகுத்து விளக்கம் அளித்தவர்

(A) H.A. கிருஷ்ணப் பிள்ளை
(B) வீரமாமுனிவர்
(C) ஜீ.யு. போப்
(D) காட்டுவெல்

113. நுணங்கிய கேள்வியர் அல்லார் வணங்கிய வாயினர் ஆதல் அரிது

- இக்குறட்பாவில் 'நுணங்கிய' - என்னும் பொருளுணர்த்தும் ஆங்கிலச் சொல்

(A) SILENCER
(B) INTELLIGENT
(C) SIGNOR
(D) SILVER - TONGUED

118. சமூகத்தின் மாற்றத்திற்குச் சிந்தனை விதைகளைத் தூவுகின்ற புரட்சியாளர்களாலேயே இந்த வையகம் வாழ்கிறது - எனக் கூறியவர்

(A) அம்பேத்கர்	(B) காந்தியடிகள்
(C) ஈ.வே. இராமசாமி	(D) அண்ணாதுரை

114. "மனைக்கு விளக்கம் மடவாள் மடவாள் தனக்குத் தகைசால் புதல்வர்....." -இப்பாடல் ஆசிரியரைக் கண்டறிந்து எழுதுக.**119. பின்வருபவருள் யார் சைவ அடியாரில்லை?**

(A) வாக்கீசர்
(B) ஆளுடைய பிள்ளை
(C) தம்பிரான் தோழர்

**TNPSC****VAO - General Tamil - 2014****(D) பெரியவாச்சான் பிள்ளை****120.** நூலாசிரியரோடு நூலைப் பொருத்துக :

- (a) சுத்தானந்த பாரதி 1. ஞானரதம்
(b) வ.வே.சு ஐயர் 2. ஏழையும் பாடு
(c) சுப்பிரமணிய பாரதி 3. விநோதரஸ மஞ்சரி
(d) வீராசாமி செட்டியார் 4. கமலவிஜயம்

- (a) (b) (c) (d)
(A) 2 4 3 1
(B) 1 2 3 4
(C) 1 3 2 4
(D) 2 4 1 3

121. பொருளறிந்து பொருத்துக.

- | | |
|--------------------------------|-------------|
| I | II |
| (a) பிடர்தலை ஏறியவர் | 1. தூர்க்கை |
| (b) எழுவருள் இளையவர் | 2. பதர்காளி |
| (c) இறைவனை நடமாடச் செய்தவர் | 3. பிடாரி |
| (d) தாருகன் மார்பைப் பிளந்தவர் | 4. கொற்றவை |
- (a) (b) (c) (d)
(A) 4 3 2 1
(B) 3 4 1 2
(C) 4 3 1 2
(D) 2 1 4 3

122. “மதியிலி அரசர் நின் மலரடி பணிகிலர்
வானகம் ஆள்வாரே”
-இப்பாடலுக்குரிய அரசன் _____
(A) இராஜராஜசோழன் (B) நந்திவர்மன்
(C) நரசிம்மவர்மன் (D) சுந்தர பாண்டியன்

123. தாமரையிலைத் தண்ணீர் போல - உவமை
உணர்த்தும் பொருள்
(A) மகிழ்ச்சி (B) நட்பு
(C) பற்றின்மை (D) தவிப்பு

124. எவ்வகை வாக்கியம் எனக் கண்டெழுதுதல் :

- வேடன் சிங்கத்தை வீழ்த்தினான்
(A) தனிவாக்கியம்
(B) தொடர் வாக்கியம்
(C) எதிர்மறை வாக்கியம்
(D) கலவை வாக்கியம்

125. விடைக் கேற்ற வினாவைத் தேர்க :

- கபிலர் நட்புக்கு இலக்கணமாகத் திகழ்ந்தார்
(A) இலக்கணமாகத் திகழ்ந்தவர் யார்?
(B) நட்புக்கு இலக்கணமாகத் திகழ்ந்தவர் யார்?
(C) நட்புக்குச் சிறந்த புலவர் யார்?
(D) நட்பு என்பது யாது?

126. பின்வருவனவற்றுள் ‘தனிக்குறில் முன் ஒற்று
உயிர்வரின் இரட்டும்’ என்னும் விதியின் படி
புணராதது

- (A) தன்னுயிர் (B) பெண்ணரசு
(C) பைந்தமிழ் (D) என்னருமை

127. சாதுவன் வாணிகம் செய்யும் பொருட்டுக்
கடல் கடந்து சென்ற குறிப்பு - இடம் பெற்ற நூல்
எது?

- (A) சீவகசிந்தாமணி (B) சிலப்பதிகாரம்
(C) குண்டலகேசி (D) மணிமேகலை

128. பொருத்துக**இயற்பெயர் சிறப்புப் பெயர்**

- | | |
|----------------------------|-----------------------|
| (a) திரு.வி.கலியாணசுந்தரம் | 1.தமிழ்த்தாத்தா |
| (b) மறைமலையடிகள் | 2.தமிழ்த் தென்றல் |
| (c) இரா.பி. சேதுப்பிள்ளை | 3.தனித்தமிழ் வித்தகர் |
| (d) உ.வே. சாமிநாத ஐயர் | 4.சொல்லின் செல்வர் |

- (a) (b) (c) (d)
(A) 4 3 1 2
(B) 1 2 3 4

**TNPSC****VAO - General Tamil - 2014**

(C) 2 4 3 1

(D) 2 3 4 1

129. நெடுங்கடலும் தன்னீர்மை குன்றும்
தடிந்தெழிலிதாண்டநல்கா தாகி விடின - என்னும்
குறள் கூறும் கருத்தின் அடிப்படையில்
பின்வருவனவற்றில் எதைக் குறிக்கும்?
(A) மருத்துவ அறிவு (B) அணுவியல் அறிவு
(C) மண்ணியல் அறிவு (D) நீரியல் அறிவு

130. பொருந்தாததைச் சுட்டுக.

- (A) வாதம் (B) ஏமம்
(C) பித்தம் (D) சீதம்

131. “களிறு எறிந்து பெயர்தல்
காளைக்குக்கடனே” என்ற அடி இடம் பெற்ற
நூல்

- (A) பதிற்றுப்பத்து (B) பரிபாடல்
(C) பட்டினப்பாலை (D) புறநானூறு

132. ‘குறுந்தொகை’ என்ற நூலைத் தொகுத்தவர்

- (A) கூடலூர்க்கிழார் (B) உருத்திர சன்மர்
(C) பூரிக்கோ (D) பெருந்தேவனார்

133. “செல்வத்துப் பயனே ஈதல்” எனப் பாடியவர்

- (A) திருவள்ளுவர் (B) நக்கீரனார்
(C) கபிலர் (D) ஓளவையார்

134. பொருந்தா இணையைத் தேர்க
சொல் பொருள்

- | | | |
|--------|---|----------|
| (A) கா | - | சோலை |
| (B) க | - | சாலை |
| (C) மா | - | விலங்கு |
| (D) மீ | - | உயர்ச்சி |

135. வாக்கிய அமைப்பினைக் கண்டறிக

- இளமையில் கல்
(A) பிறவினை வாக்கியம்

(B) கலவை வாக்கியம்

(C) கட்டளை வாக்கியம்

(D) வினா வாக்கியம்

136. பின்வரும் இலக்கணக் குறிப்புக்குரிய
பொருந்தாச் சொல்லைத் தேர்க
உவமைத் தொகை

- (A) தமிழன்னை (B) மதிமுகம்
(C) மலர்ப்பாதம் (D) கல்திரள்தோள்

137. பின்வருவனவற்றுள் எது அண்டணாவின்
படைப்பு அன்று?

- (A) வேலைக்காரி (B) ஓர் இரவு
(C) குறட்டை ஓலி (D) செவ்வாயை

138. ‘கற்கின்றனர்’ என்னும் நிகழ்கால
வினைமுற்றின் வேர்ச்சொல்

- (A) கற்க (B) கல்வி (C) கற்று (D) கல்

139. பின்வருவனவற்றுள் எவை இணையில்லை?

- (A) முதல் கலம்பகம் - நந்திக் கலம்பகம்
(B) முதல் பரணி - தக்கயாக பரணி
(C) முதல் நாவல் - பிரதாப முதலியார் சரித்திரம்
(D) முதல் உலா - திருக்கையிலாய ஞான உலா

140. மனிதனின் மனநிலையை இருள், மருள்,
தெருள், அருள் - எனக் கூறியவர்

- (A) இராமலிங்க அடிகள்
(B) இரா.பி. சேதுப்பிள்ளை
(C) நாமக்கல் - இராமலிங்கம் பிள்ளை
(D) முத்திராமலிங்கத் தேவர்

141. “கல்தோன்றி மண்தோன்றாக் காலத்தே
வானொடு
முன்தோன்றிய மூத்த குடி”

- என தமிழினத்தின் தொன்மையைப் பற்றிக்
கூறும் நூலின் பெயர்
(A) புறநானூறு



TNPSC

VAO - General Tamil - 2014

(B) புறப்பொருள் வெண்பா மாலை

(C) பதிற்றுப்பத்து

(D) தொல்காப்பியம்

142. பொருந்தாத பெயரைச் சுட்டுக

(A) பிங்கலம் (B) திவாகரம்

(C) குளாமணி (D) சூடாமணி

143. பொருந்தாத இணையைச் சுட்டுக.

(A) கூறை - அறுவை

(B) துகில் - அகில்

(C) கலிங்கம் - காழகம்

(D) சீலை - புடைவை

144. "குளம் நிறைந்த நீர்த்தடம் போல் குளிர்

தூங்கும் பரப்பினதாய்

வனம் மருவும் நிழல்தரு தண்ணீர் பந்தர்

வந்தணைந்தார்"

"இப்பாடலுக்குரிய கதாநாயகன்"

(A) திருநாவுக்கரசர் (B) ஞானசம்பந்தர்

(C) சுந்தரர் (D) மணிவாசகர்

145. ஒலி வேறுபாடற்றது சரியானப் பொருளைத்

தேர்ந்தெடுத்துக் எழுதுக.

மணம்-மனம் என்ற சொல்லின் பொருள் யாது?

(A) உள்எம் - வாசனை

(B) எண்ணம் - இதயம்

(C) வாசனை - உள்எம்

(D) மணத்தல் - மாணம்

146. கீழ்க்காணும் ஒற்றளபடைச் சொற்களுள்

மாறுபட்டு நிற்பதை கண்டறிந்து எழுதுக.

(A) வாழ்புக்கை (B) சங்கு

(C) நெஞ்சு (D) கண்ணீர்

147. பயணம் என்ற சொல்லிற்கு செலவு என்ற

சொல்லை முதன் முதலில் பயன்படுத்தியவர்

(A) மறைமலை அடிகள்

(B) பரிதிமாற்கலைஞர்

(C) திரு.வி.கவியாணசுந்தரனார்

(D) பண்டிதமணி கதிரேசன் செட்டியார்

148. அரியவற்றுள் எல்லாம் அரிதோ -

பெரியாரைப்

இவ்வடியில் பயின்றுவரும் எதுகை

(A) இணை எதுகை

(B) பொழிப்பு எதுகை

(C) கீழ்க்கதுவாய் எதுகை

(D) மேற்கதுவாய் எதுகை

149. அப்பாநான் வேண்டுதல்கேட் டருள்புரிதல்

வேண்டும்

ஆருயிர்கட் கெல்லாம்நான் அன்புசெயல்

வேண்டும்

இதில் பயின்று வரும் இயைபுச் சொற்கள்

(A) அப்பா - ஆருயிர்

(B) அப்பா - அன்புசெயல்

(C) வேண்டுதல் - வேண்டும்

(D) வேண்டும் - வேண்டும்

150. ஈற்றடியின் ஈற்றுச் சீரானது ஓரசை

வாய்ப்பாடுகளுள் ஒன்று கொண்டு முடியும் பா

வகை

(A) வஞ்சிப்பா

(B) கலிப்பா

(C) வெண்பா

(D) ஆசிரியப்பா

151. "உண்மைநெறி விளக்கம்" - என்ற நூலை

எழுதியவர்

(A) அருணந்தி சிவாசாரியார்

(B) மறைஞான சம்பந்தர்

(C) உமாபதி சிவாசாரியார்

(D) மெய்கண்ட தேவர்

152. முதன்முதலில் தமிழ்ப் புத்தகங்களை

அச்சிட்டு வெளியிட்டவர்

(A) எல்லீஸ் துரை (B) சீகன்பாலக் ஐயர்



TNPSC

VAO - General Tamil - 2014

(C) இரேனியுள் ஐயர் (D) ஜி.பூ. போப்

(D) A தவறு R சரி. R விளக்கத்திற்கு

பொருத்தமான தொடராக A

அமையவில்லை

153. ஆறுமுக நாவலருக்கு 'நாவலர்' பட்டம்

வழங்கியவர்

(A) மீனாட்சி சுந்தரம்பிள்ளை

(B) சுப்பிரமணிய தேசிகர்

(C) ராமலிங்க அடிகள்

(D) கோபால கிருஷ்ண பாரதியார்

154. கீழ்க்கண்ட வாக்கியங்களை கவனி :

கூற்று A : குற்றியலுகரம் சார்பெழுத்துகளுள்

ஒன்று ஈற்றயலெழுத்தை நோக்க ஆறு

வகைப்படும்.

விளக்கம் R : ஒரு சொல்லின் ஈற்றில் 'உகர'

உயிர்மெய் எழுத்து வரின் குற்றியலுகரம்

எனப்படும்.

(A) A மற்றும் R இரண்டும் சரி. மேலும் A க்கு R

சரியான விளக்கமாகும்.

(B) A சரி R தவறு. மேலும் A க்கு R சரியான

விளக்கமன்று.

(C) A தவறு R சரி. மேலும் R விளக்கத்திற்கு A

சரியானத் தொடர் அன்று.

(D) A மற்றும் R இரண்டும் தவறு

156. கீழ்க்கண்ட வாக்கியங்களை கவனி :

கூற்று A : கருப்பொருள்களுள் ஒன்று 'பறை'

ஆகும்.

விளக்கம் R : குறிஞ்சி நிலத்தின் கருப்

பொருள்களுள் ஒன்றாக 'தொண்டகப்

பறையையும்' முல்லை நிலத்தின் கருப்பொருள்

களுள் ஒன்றாக 'மணமுழாபறையையும்

குறிப்பிடுகிறது' அகப்பொருள்.

(A) கூற்று A தவறு. விளக்கம் R சரி

(B) கூற்று A சரி. விளக்கம் R தவறு

(C) விளக்கம் R தவறு. கூற்று A தவறு

(D) விளக்கம் R சரி. விளக்கம் A சரி

157. பொருத்துக் :

ஆசிரியர்

சிறுகதை

(a) மு. வரதராசனார் 1. மெல்ல மெல்ல மற

(b) ஸ்ரீமதி எஸ். இலட்சுமி 2. நன்றிப் பரிசு

(c) நீலவன் 3. மணம்

நுகர்ந்ததற்குப்

பணம்

(d) இலட்சுமி 4. குறட்டை ஒலி

(a) (b) (c) (d)

(A) 4 3 2 1

(B) 4 3 1 2

(C) 4 2 3 1

(D) 2 1 3 4

155. கீழ்க்கண்ட வாக்கியங்களை கவனி :

கூற்று A : உயிரளபெடை வகைகளுள் ஒன்று

இன்னிசையளபெடை மூன்று மாத்திரையாக

ஒலிக்கும்.

விளக்கம் R : செய்யுளில் ஓசை குறையாத

போதும் இனிய இசைக்காக அளபெடுப்பது

இன்னிசையளபெடை

(A) A மற்றும் R இரண்டும் சரி. மேலும் A க்கு

R சரியான விளக்கமாகும்.

(B) A மற்றும் R இரண்டும் தவறு

(C) A சரி R தவறு. மேலும் A க்கு R சரியான

விளக்கமன்று

158. "மக்களும் தேவரும் பிரமரும் நரகரும்

தொக்க விலங்கும் பேயும் என்றே"

இச்செய்யுளடிகள் இடம் பெற்ற நூல்

(A) சிலப்பதிகாரம் (B) குண்டலகேசி

(C) மணிமேகலை (D) வளையாபதி

159. பொருந்தும் இலக்கணம் யாது?

(A) கூவா - விளி

(B) தேவா - தானியாகு பெயர்

**TNPSC****VAO - General Tamil - 2014**

- (C) இருந்தவள்ளல் - ஈறுகெட்ட எதிர்மறை
பெயரெச்சம்
- (D) நீரூழிகில் - 2- ஆம் வேற்றுமை
உருபும் பயனும் உடன்
தொக்க தொகை
- (d) மு.வ. 4. பாலும் பாவையும்
(a) (b) (c) (d)
(A) 4 3 1 2
(B) 4 1 3 2
(C) 3 2 1 4
(D) 2 4 3 1

160. பின்வரும் இலக்கணங்களுள் தவறானது எது?

- (A) இகழ்வார் - வினையாலணையும் பெயர்
(B) செந்தீர் - வினைத் தொகை
(C) இன்னாச்சொல் - ஈறுகெட்ட எதிர்மறைப் பெயரெச்சம்
(D) உண்ணாது - வினையெச்சம்

164. சரியானவற்றைத் தேர் :
உரிப்பொருள் திணை

- (1) ஊடலும் ஊடல் நிமித்தமும் - மருதம்
(2) பிரிதலும் பிரிதல் நிமித்தமும் - முல்லை
(3) இரங்கலும் இருத்தல் நிமித்தமும் - நெய்தல்
(4) இருத்தலும் இருத்தல் நிமித்தமும் - பாலை
(A) 1 -ம் 2 -ம் சரி (B) 2 -ம் 3 -ம் சரி
(C) 1 -ம் 3 -ம் சரி (D) 3 -ம் 4 -ம் சரி

161. "கூவா முன்னம் இளையோன் குறுகி நீ ஆவான் யார் என அன்பின் இறைஞ்சினான்"- இச்செய்யுடிகளில் 'இறைஞ்சினான்' - யார்?

- (A) சகீர்வன் (B) குகன்
(C) இலக்குவன் (D) அனுமன்

165. சரியானவற்றைத் தேர் :
தெய்வம் திணை

- (A) முருகன் - குறிஞ்சி
(B) இந்திரன் - மருதம்
(C) தூர்க்கை - நெய்தல்
(D) திருமால் - பாலை
(A) 2 -ம் 3 -ம் சரி (B) 1 -ம் 2 -ம் சரி
(C) 1 -ம் 4 -ம் சரி (D) 1 -ம் 4 -ம் சரி

162. சொல்லுக்கேற்ற பொருளை பொருத்துக :

- (a) அம்பி 1. குஞ்சி
(b) அல் 2. பறை
(c) துடி 3. இருள்
(d) தலைமூடி 4. படகு
(a) (b) (c) (d)
(A) 4 3 2 1
(B) 1 2 3 4
(C) 2 3 4 1
(D) 3 4 1 2

166. இலக்கணக் குறிப்புச் சொல்லை எழுதுக.
இன்னிசை அளபெடை

- (A) சாஅய் (B) குறீஇ
(C) படுஉம் (D) தாங்குறாஉம்

167. பின்வரும் இணைகளில் பொருந்தாத இணையைத் தெரிந்தெடுத்து எழுதுக.

- (A) சூரிய காந்தி - நா. காமராசன்
(B) ஞானரதம் - பாரதியார்
(C) எழுத்து - சி.சு. செல்லப்பா
(D) குயில்பாட்டு - பாரதிதாசன்

163. நூலையும் நூலாசிரியரையும் பொருத்துக :

- (a) விந்தன் 1. குருதிப்புனல்
(b) க. சமுத்திரம் 2. பெற்றமனம்
(c) இந்திரா பார்த்தசாரத 3. சோற்றுப்பட்டாளம்

**TNPSC****VAO - General Tamil - 2014**

168. பின்வருவனவற்றுள் எது பொருந்தாதது? நேற்று எங்கள் பள்ளியில் ஆண்டுவிழா நடைபெற்றது
(A) நாககுமார காவியம்
(B) உதயண குமார காவியம்
(C) குண்டலகேசி
(D) நீலகேசி
(A) வினா வாக்கியம்
(B) செய்தி வாக்கியம்
(C) பிறவினை வாக்கியம்
(D) உணர்ச்சி வாக்கியம்

169. ஈற்றயலடி முச்சீராக; ஏனைய அடிகள் நாற்சீராக - அமையும் பா வகை -

- பின்வருவனவற்றுள் எது?
(A) நேரிசை ஆசிரியப்பா
(B) நிலை மண்டில ஆசிரியப்பா
(C) அடிமறி மண்டில ஆசிரியப்பா
(D) இணை குறளாசிரியப்பா

173. ஒலி வேறுபாடறிந்து சரியானப் பொருளைத் தேர்ந்தெடுத்து எழுதுக.

- அறை - அரை என்ற சொல்லின் பொருள் யாது?
(A) கட்டடப்பகுதி - ஒன்றில் பாதி
(B) காலியானப்பகுதி - கட்டடப்பகுதி
(C) ஒரு பொருளின் பாதி - ஓர் அறையின் பகுதி
(D) ஒன்றில் பாதி - கட்டடப்பகுதி

170. பொருளறிந்து பொருத்துக

- | சொல் | பொருள் |
|-----------------|-----------|
| (a) கலாபம் | 1. கிளி |
| (b) விவேகன் | 2. பொய்கை |
| (c) வாவி | 3. ஞானி |
| (d) அஞ்சகம் | 4. தோகை |
| (a) (b) (c) (d) | |
| (A) 4 3 2 1 | |
| (B) 4 2 3 1 | |
| (C) 4 2 1 3 | |
| (D) 3 4 2 1 | |

174. பொருந்தாத இணையைக் கண்டறிக.
ஆசிரியர் இயற்றிய நூல்

- (A) வீரமாமுனிவர் - பரமார்த்தகுரு கதை
(B) தேவநேயப்பாவாணா- தமிழர் திருமணம்
(C) திரு.வி.க. - சைவத் திறவு
(D) பெருஞ்சித்திரனார் - தமிழ்ச் சோலை

175. அகர வரிசைப்படி தேர்ந்தெடுத்து எழுதுக.

- (A) பிட்டு, யூட்டு, பொன், பெண், பாட்டு
(B) யூட்டு, பாட்டு, பிட்டு, பெண், பொன்
(C) பாட்டு, பிட்டு, யூட்டு, பெண், பொன்
(D) பொன், பெண், பாட்டு, பிட்டு, யூட்டு

171. திங்களொடும் செழும்பரிதி தன்னோடும் விண்ணோடும் உடுக்களோடும் மங்குகடல் இவற்றோடும் பிறந்த தமிழுடன் பிறந்தோம் நாங்கள்

- எனத் தமிழின் பழஞ் சிறப்பினைப் பெருமிதம் பொங்கப்பாடிய கவிஞர்
(A) பாரதியார் (B) கண்ணதாசன்
(C) சுரதா (D) பாரதிதாசன்

176. நூலையும் நூலாசிரியரையும் பொருத்துக :

- (a) வேதநாயகம் பிள்ளை 1. மானவிஜயம்
(b) சூரிய நாராயண சாஸ்திரி 2. அகலிகை வெண்பா
(c) வெ.ப. சுப்பிரமணிய முதலியார் 3. பாரிகாதை
(d) ரா.ராகவையங்கார் 4. நீதி நூல்
(a) (b) (c) (d)

172. வாக்கிய அமைப்பினைக் கண்டறிக.

**TNPSC****VAO - General Tamil - 2014**

- (A) 4 1 2 3
 (B) 1 2 4 3
 (C) 3 1 2 4
 (D) 4 3 2 1

177. பின்வருவனவற்றுள் நா. பார்த்தசாரதி

எழுதிய நூலைச் சுட்டுக

- (A) கல்லுக்குள் ஈரம் (B) சமுதாய வீதி
 (C) யாகசாலை (D) முள்ளும் மலரும்

178. பின்வரும் தொகுப்பில் பொருந்தாத

சொல்லினை எடுத்தெழுதுக

- (A) செம்மை (B) பசுமை
 (C) கருமை (D) வெம்மை

179. அகர வரிசைப்படி தேர்ந்தெடுத்து எழுதுக

- (A) மெல்ல, மீன், மையல், மண், முடி
 (B) மண், மீன், முடி, மெல்ல, மீன்
 (C) முடி, மீன், மெல்ல, மையல், மண்
 (D) மண், முடி, மையல், மெல்ல, மீன்

180. 'உதவு' - என்ற சொல்லின் சரியான பொருள்

உணர்த்தும் சொற்றொடரைத் தேர்ந்தெடுத்து எழுதுக.

- (A) உழைப்பின்றி உயர்வில்லை
 (B) உயர்ந்தோரை உலகு மதிக்கும்
 (C) உயர்வே மதிப்பைத் தரும்
 (D) உயர்ந்தோர் உதவும் உள்ளம் கொண்டவர்

**TNPSC****VAO - General English - 2014**

101. Identify the author with the story

- (a) Susannah Hickling 1.The Face of Judas Iscariot
 (b) Rex Coker 2.The Piano
 (c) Bonnie Chamberlin 3.Swept Away
 (d) Rob Reilly 4.A Close Encounter

(a) (b) (c) (d)

- (A) 4 2 1 3
 (B) 1 3 4 2
 (C) 3 4 1 2
 (D) 3 4 2 1

104. Choose the correct meaning of the words under Column B and select the code containing the answer

- | Column A | Column B |
|------------|----------------|
| (a) rumour | 1. hit |
| (b) pelted | 2. false story |
| (c) regime | 3. flattering |
| (d) oily | 4. rule |

(a) (b) (c) (d)

- (A) 2 1 4 3
 (B) 2 3 4 1
 (C) 2 1 3 4
 (D) 1 3 4 2

102. Match the name of the authors in Column A with their work in Column B and select the correct answer from the code

- | Column A | Column B |
|-------------------|----------------------|
| (a) Oscar Wilde | 1. The Refugee |
| (b) O' Henry | 2. The Open Window |
| (c) Pearl S. Buck | 3. The Selfish Giant |
| (d) Saki | 4. The Last Leaf |

(a) (b) (c) (d)

- (A) 3 1 2 4
 (B) 3 4 1 2
 (C) 4 2 3 1
 (D) 2 1 4 3

105. Kesavan Nair said he would never perpetrate that adharm. Kutty Mappila who was listening to it all, said, half soliloquising....

- The word soliloquising means
 (A) speaking to others
 (B) speaking to oneself
 (C) speaking to somebody
 (D) not speaking to anyone

106. And in his mantle muffling up his face.

- Here the word mantle indicates
 (A) Cloak (B) Clock
 (C) Mettle (D) Metal

107. But must I confess how I liked him, How glad I was he had come like a guest in quiet, to drink at my water trough.

- The above lines are from the poem
 (A) The man he killed (B) Snake
 (C) A Psalm of life (D) Be The Best

103. When you pray he said you transcend your body and become a part of the cosmos, which knows no division of wealth, age, caste and creed.

- Identify the speaker
 (A) Dr. A.P.J. Abdul Kalam
 (B) Kalam's Father
 (C) Kalam's Teacher
 (D) Kalam's Mother

108. Match the characters under Column A with the relevant titles under Column B and select the correct code



TNPSC

VAO - General English - 2014

Column A

- (a) Laxmi
- (b) Gunga Ram
- (c) Kesavan Nair
- (d) Lady Anstey

- | | | | | |
|-----|---|---|---|---|
| (A) | 2 | 2 | 4 | 1 |
| (B) | 3 | 2 | 4 | 1 |
| (C) | 2 | 1 | 3 | 4 |
| (D) | 1 | 3 | 2 | 1 |

Column B

- 1. The Helping Hand
- 2. To The Land of Snow
- 3. The Mark of Vishnu
- 4. The Farmer

(a) (b) (c) (d)

- (A) Reflowering
- (B) Holiday
- (C) Kaanchanai
- (D) The Necklace

112. Pick out the poem which is not written by Robert Frost.
- (A) Going For Water
 - (B) Laugh and be Merry
 - (C) The Road Not Taken
 - (D) Stopping by the woods on a Snowy Evening

113. Find out the odd pair from those given below :

- (A) The Wooden Bowl - Leo Tolstoy
- (B) The Piano Lesson - Rob Reilly
- (C) Reflowering - Sundara Ramaswamy
- (D) Is Life, But A Dream? - Lewis Barry

114. "Man's little Day in haste we spend". This line is from the poem written by
- (A) William Shakespeare
 - (B) Lewis Carroll
 - (C) Thomas Hardy
 - (D) Walt Whitman

115. Fill in the blanks choosing the correct option :

- The woman writer who has won both the Pulitzer prize and the Nobel prize is
- (A) Annie Louisa Walker
 - (B) Jane Austen
 - (C) Pearl S. Buck
 - (D) Kamala Das

116. Find out the poetic collection that does not include the poems of H.W. Longfellow :
- (A) Voices of the Night
 - (B) Ballads
 - (C) Lyrical Ballads
 - (D) Evangeline

117. Fill in the blank with the right participle. Choosing from the given options.

109. Match the titles of the poems under Column A with their relevant poets under Column B and select the correct code

Column A

- (a) Migrant Bird
- (b) Be The Best
- (c) The Flying Wonder
- (d) Laugh and be Merry

- | | | | |
|-----|-----|-----|-----|
| (a) | (b) | (c) | (d) |
| (A) | 2 | 4 | 3 |
| (B) | 2 | 4 | 1 |
| (C) | 2 | 1 | 3 |
| (D) | 4 | 2 | 3 |

Column B

- 1. Stephen Vincent Benet
- 2. Famida Y. Basheer
- 3. John Masefield
- 4. Douglas Malloch

110. Find out the odd pair from those given below

- | | | |
|----------------|---|--------------------|
| (a) Johnsy | - | The Last Leaf |
| (b) Phatik | - | Holiday |
| (c) Lvan | - | The Lottery Ticket |
| (d) Kaanchanai | - | Reflowering |

111. Which of the following stories is not written by an Indian writer?



TNPSC

VAO - General English - 2014

_____ by hunger, he stole a piece of bread.

- (A) Driving
- (B) Driven
- (C) To Drive
- (D) Drove

118. Pick out the sentence that contains a gerund:

- (A) Swimming is a good exercise
- (B) After finishing the work, he went on a vacation
- (C) Hearing the noise, the boy woke up
- (D) Having rested, we continued our journey

119. Where is the Shop Assistant? Replace the underlined British word with it's American equivalent.

- (A) Sales Clerk
- (B) Sales Boy
- (C) Assistant Manager
- (D) Assistant Clerk

120. A mirror of his changing moods Now sure, now steeped in thought. Who does the word "his" refer to?

- (A) the Poet
- (B) the Shilpi
- (C) the Tourist
- (D) the Dramatist

121. Identify the sentence that contains an adverb.

- (A) Praveen writes neatly
- (B) French is an easy language
- (C) The tallest building is on fire
- (D) He looks as stupid as an owl

122. Fill in the blank with the option containing an infinitive :

- She refused _____'no' for an answer
- (A) take
 - (B) taking
 - (C) to take
 - (D) took

123. Betrays me back, till the heart of me weeps to belong

- To the old Sunday evenings at home, Who does the word 'me' refer to?

- (A) The Poet D.H. Lawrence
- (B) The Poet H.W. Longfellow
- (C) Archibald Lampman
- (D) Douglas Malloch

124. We ran as if to meet the moon. Identify the figure of speech.

- (A) Hyperbole
- (B) Anaphora
- (C) Ellipsis
- (D) Simile

125. We pierce your bosom with swords and spears And you dress our wounds with oil and balsom.

- What does the word 'you' refer to?
- (A) Water
 - (B) Earth
 - (C) Trees
 - (D) Man

126. Fill in the blank with the right word : ' Nehru loved all _____

- (A) Child
- (B) Childs
- (C) Children
- (D) Childrens

127. Identify the sentence which has an error.

- (A) The issue is an alarming one
- (B) Kolkata is the populous city
- (C) The doctor examined the patient carefully
- (D) Sachin is a well-known cricketer

128. Select the correct sentence from the following :

- (A) The patient has been discharged in hospital
- (B) The patient has been discharged from the hospital
- (C) The patients has been discharged from hospital
- (D) The patient has been discharged from hospital



TNPSC

VAO - General English - 2014

129. Identify the sentence which is correct
 (A) Gunga Ram was not at home
 (B) Gunga Ram was not in home
 (C) Gunga Ram was not on home
 (D) Gunga Ram was not into home
130. Which of the following options has a sentence with the verb in the active voice?
 (A) The letter has just been posted
 (B) The bird was killed by a cruel boy
 (C) The cat drank all the milk
 (D) He is loved by all
131. Identify the poetic line that differs in figure of speech, from the other lines.
 (A) In the world's broad field of battle
 (B) Writhe like lightning and was gone
 (C) As humble plants by country hedgerows growing
 (D) In solitary confinement as complete as any gaol
132. With the teacups circling round me like the planets round the sun.
 Why are the teacups circling?
 (A) Because of heavy gravitational force
 (B) Because of lack of gravitational force
 (C) Because the speaker is dancing in circles
 (D) Because the teacups fell off the hand
133. Love's not Time's fool, though rosy lips and cheeks
 Within his bending sickle's compass come;
 In which poem do these lines occur?
 (A) Is life, But a Dream?
 (B) Be The Best
 (C) O Captain! My Captain!
 (D) Sonnet No. 116
134. In which poem do the following lines occur?
 There's something for all of us here.
- There's big work to do and there's lesser to do
 (A) Travel Plant (B) Be The Best
 (C) No Men Are Foreign (D) Manliness
135. He knows what rules are necessary and the rules are made to be enforced. It would be wrong of me to override his rules and decisions of this kind.
 Who does "me" refer to in the lesson "The One Minute Apology"?
 (A) The Colonel (B) Edwin Stanton
 (C) Abraham Lincoln (D) Scott
136. Match the titles with the lines :
 (a) Piano (1) We heard, we knew we heard the brook.
 (b) Migrant Bird (2) Softly in the dusk a woman is singing to me.
 (c) Going For Water (3) Their wind comes in our faces.
 (d) The cry of the children (4) The globe's my world.
- | | | | |
|-------|-----|-----|-----|
| (a) | (b) | (c) | (d) |
| (A) 2 | 1 | 4 | 3 |
| (B) 1 | 3 | 2 | 4 |
| (C) 2 | 4 | 1 | 3 |
| (D) 4 | 2 | 3 | 1 |
137. Which of the following is not a poem?
 (A) The cry of the children
 (B) Earth
 (C) Snake
 (D) The Last Leaf
138. Identify the poet in whose poem these lines occur?
 Had he and I but met



TNPSC

VAO - General English - 2014

- By some old ancient inn.
 (A) Thomas Hardy (B) H.W. Longfellow
 (C) Norman Nicholson (D) Walt Whitman
139. Whose autobiography is this?
 "The story of my experiments with truth".
 (A) Jawaharlal Nehru
 (B) Mahatma Gandhi
 (C) Kasturba Gandhi
 (D) Indira Gandhi
140. Replace the underlined British word with its American equivalent
 It is dark. Get me a torch
 (A) torch light (B) long light
 (C) flashlight (D) stop light
141. Which of these titles is a poem?
 (A) When Catastrophe Strikes
 (B) Bon Voyage
 (C) The Man He Killed
 (D) A Golden Path
142. Match the following poetic lines under Column A with the relevant titles under Column B and select the correct code :
- | Column A | Column B |
|---------------------------------------|-------------------------------|
| (a) A bird has feathers, it is true | (1) With A friend |
| (b) Save the sad story of your misery | (2) The Flying Wonder |
| (c) And share my umbrella in the rain | (3) The Apology |
| (d) I go to the God of wood | (4) To India - My Native Land |
- | | | | |
|-------|-----|-----|-----|
| (a) | (b) | (c) | (d) |
| (A) 2 | 4 | 3 | 1 |
| (B) 2 | 4 | 1 | 3 |
| (C) 1 | 2 | 3 | 4 |
| (D) 2 | 3 | 4 | 1 |
143. Pick out the poetic line which is not written by Walt Whitman?
 (A) Walk the deck my captain lies
 (B) Till the bridge you will need be form'd
 (C) Ready to run to hiding now
 (D) Rise up for you the flag is flung
144. Match the characters under Column A with the relevant Titles under Column B and select the correct code
- | Column A | Column B |
|----------------------|-------------------------------|
| (a) Monsieur sauvage | 1. The Necklace |
| (b) Framton Nuttel | 2. Two Friends |
| (c) Mme. Forestier | 3. How The Camel Got Its Hump |
| (d) Djinn | 4. The Open Window |
- | | | | |
|-------|-----|-----|-----|
| (a) | (b) | (c) | (d) |
| (A) 4 | 2 | 1 | 3 |
| (B) 2 | 4 | 1 | 3 |
| (C) 2 | 4 | 3 | 1 |
| (D) 4 | 2 | 3 | 1 |
145. Match the following poetic lines under Column A with the relevant titles under Column B and select the correct code
- | Column A | Column B |
|---|----------------------------|
| (a) And stopped and drank a little more | 1. O Captain! My Captain! |
| (b) And the word will be God in Man | 2. The cry of the children |
| (c) Fallen cold and dead | 3. Snake |
| (d) And the walls turn in their places | 4. English words |
- | | | | |
|-------|-----|-----|-----|
| (a) | (b) | (c) | (d) |
| (A) 3 | 4 | 2 | 1 |
| (B) 4 | 3 | 1 | 2 |
| (C) 3 | 4 | 1 | 2 |
| (D) 4 | 3 | 2 | 1 |



TNPSC

VAO - General English - 2014

146. Fill in the blanks choosing the correct option:
 The animal that is not mentioned in the story 'How The Camel Got Its Hump' is
 (A) Dog (B) Ox
 (C) Cat (D) Horse

(a)	(b)	(c)	(d)
(A) 4	2	1	3
(B) 3	2	1	4
(C) 2	4	1	3
(D) 2	1	4	3

147. This was the most unkindest cut of all. Identify the speaker
 (A) Mark Antony (B) Brutus
 (C) Cassius (D) Calphurnin

148. Match the lines under Column A with poets under Column B and select the correct option from the codes given below

Column A	Column B
(a) In a wonderland they lie	1. H.W. Longfellow
(b) There's some thing for all of us here	2. Thomas Hardy
(c) Yes quaint and curious war is	3. Douglas Malloch
(d) Not enjoyment and not sorrow	4. Lewis Carroll

(a)	(b)	(c)	(d)
(A) 4	3	1	2
(B) 3	4	1	2
(C) 4	3	2	1
(D) 2	4	1	3

149. Match the lines under Column A with the poets under Column B

Column A	Column B
(a) For learning how to rule the air	1. Lewis Carroll
(b) Athwart Time's dark resistless stream	2. Stephen Vincent Benet
(c) If you can't be a sun, be a star	3. Walt Whitman
(d) But I, with mournful tread	4. Douglas Malloch

150. Which of the following is not a poem?
 (A) Be The Best
 (B) O Captain! My Captain!
 (C) Is Life, But a Dream?
 (D) Two Friends

151. The rhyme scheme of the following line is
 Let us, be up and doing
 With a heart for any fate ;
 Still achieving, still pursuing
 Learn to labour and to wait.
 (A) a a a b (B) a b a b
 (C) a b b b (D) a b c a

152. Was it perversity that I longed to talk to him?
 What is the meaning of the word perversity?
 (A) acceptable behaviour
 (B) good behaviour
 (C) unacceptable behaviour
 (D) bad behaviour

153. Match the poems with the poets
 (a) The Piano 1. Khalil Gibran
 (b) The cry of the children 2. Robert Frost
 (c) Going for water 3. D.H. Lawrence
 (d) Earth 4. Elizabeth Barrett Browning

(a)	(b)	(c)	(d)
(A) 3	4	2	1
(B) 4	3	1	2
(C) 3	2	4	1
(D) 1	4	2	3



TNPSC

VAO - General English - 2014

154. Match the names of the authors under Column A with their works under Column B and select the correct code.

Column A	Column B
(a) The Gift of the Magi	1. Pudumaippittan
(b) Kaanchanai	2. Oscar Wilde
(c) The Selfish Giant	3. James Harriot
(d) Every Living Thing	4. 'O Henry

(a)	(b)	(c)	(d)
(A) 4	3	2	1
(B) 1	4	2	3
(C) 4	1	2	3
(D) 2	1	4	3

155. Who among the following writers is not a dramatist?

- (A) Oscar Wilde
- (B) William Shakespeare
- (C) Charles Babbage
- (D) Rabindranath Tagore

156. Choose the correct option :
 In which century did Shakespeare live?
 (A) 16th Century (B) 15th Century
 (C) 14th Century (D) 18th Century

157. Name the poem in which the following line occurs :
 "It is the human earth that we defile".

- (A) No Men Are Foreign
- (B) Be The Best
- (C) Shilpi
- (D) Women's Rights

158. Identify the figure of speech in the following poetic line.
 And hymns in the cosy parlour, the tinkling piano our guide
 (A) Oxymoron (B) Onomatopoeia
 (C) Hyperbole (D) Simile

159. In which poem do these lines occur?
 All are turning, all the day, and we with all -
 And all day, the iron wheels are droning.

- (A) Going for Water
- (B) Migrant Bird
- (C) The Cry of the Children
- (D) Piano

160. Pick out the line which occurs in the poem "A Tiger in the Zoo".

- (A) I won't look down
- (B) He hears the last voice at night
- (C) O the bleeding drops O red!
- (D) I hastened motionless and still

161. Replace the underlined British word with its American equivalent

The hike in the price of Petrol is resented.
 (A) fuel (B) gasoline
 (C) energy (D) petrol

162. Be not like dumb, driven cattle!
 Be a hero in the strife!
 Who is the author of these poetic lines?

- (A) H.W. Longfellow
- (B) Robert Frost
- (C) Rudyard Kipling
- (D) Walt Whitman

163. Fill in the blanks with suitable articles, choosing the right option from those given below :

We are camped at Ragash Kund, _____ little pond with _____ Shepherd's Cave on _____ grassy meadow above _____ glacier.

(a)	(b)	(c)	(d)
(A) the	the	a	a
(B) a	the	a	the
(C) the	a	the	a
(D) a	a	a	the



TNPSC

VAO - General English - 2014

164. In the world's broad field of battle,
In the bivouac of life.
What is the meaning of the phrase "Bivouac
of life"?
- (A) A simple temporary stay in this world
(B) A permanent peaceful life in this world
(C) A pitiable life in this world
(D) A grand palace in this world
165. 'O Ye wheelds'
'Stop! be silent for today'.
Identify the speaker of these lines
- (A) The children working in mines
(B) The children working in their houses
(C) The children playing in the street
(D) School-going children
166. That was in May, In November a cold,
unseen stranger, whom the doctors called
Pneumonia, stalked about the colony,
touching one here and there with icy fingers.
Here Pneumonia stands for _____
- (A) a rude person (B) a kind person
(C) a deadly person (D) a good person
167. The next step is to develop proper self-
concept. What you think about yourself is
very important?
'Self-concept' is _____
- (A) What you think about your colleagues?
(B) What you think about others?
(C) What you think about yourself?
(D) What others think about you?
168. Select the correct tense of the verb
underlined.
The sun rises in the east
- (A) Simple present tense
(B) Present continuous tense
(C) Present perfect tense
(D) Present perfect continuous tense
169. Fill in the blank with the correct question
tag :
The lessons are quite interesting,
_____?
- (A) are it? (B) aren't they?
(C) isn't they? (D) don't they?
170. Fill in the blank with the right preposition
:
My uncle will visit me _____
May.
- (A) on (B) at (C) with (D) in
171. Match the underlined words under
Column 'A' with their grammatical function
under Column 'B' and select the correct
code.
- | Column A | Column B |
|---|--------------|
| (a) <u>Equal</u> status to women is a far cry | 1. Adverb |
| (b) The two live the same <u>life</u> | 2. Adjective |
| (c) Let us <u>hope</u> for the best | 3. Noun |
| (d) She sings <u>well</u> | 4. Verb |
- (a) (b) (c) (d)
(A) 2 1 3 4
(B) 3 1 2 4
(C) 2 3 4 1
(D) 4 1 2 3
172. "There is no power in the tongue of man
to alter me. I stay here on my bond". Which
character in the play, "Merchant of Venice"
utters these words?
- (A) Antonio (B) Bassanio
(C) Portia (D) Shylock
173. Fill in the blank :
In one corner was a blank canvas on an easel
that had been waiting there for



TNPSC

VAO - General English - 2014

- _____ years to receive the first line
of master piece.
- (A) Ten years
(B) Twenty years
(C) Forty years
(D) Twenty five years
174. "Neighbour gave prizes for the best back
stabber and double crosser of the week, and
most passionate hater".
Pick out a suitable word from the extract
which means 'one who hits from behind'
- (A) Passionate hater
(B) Double crosser
(C) Back stabber
(D) Neighbourhoods
175. Whose Autobiography is 'Wings of fire'?
- (A) Mahatma Gandhi
(B) Jawaharlal Nehru
(C) Dr. Johnson
(D) Dr. A.P.J. Abdul Kalam
176. Replace the underlined British word with
its American equivalent.
This lift is meant for VIP's.
- (A) lift (B) escalator
(C) elevator (D) stair case
177. Identify the figure of speech in the given
poetic line.
A mother like the mom you were to me.
- (A) Simile (B) Metaphor
(C) Ellipsis (D) Allusion
178. Replace the underlined British word with
its American equivalent.
Children like Sweets.
- (A) Cookies (B) Candies
(C) Crisps (D) Sweets